

Proposta de Resolução da Sociedade Portuguesa de Matemática  
para o Exame Nacional de Matemática A  
Prova 635, 1ª fase – 27 de Junho de 2011

**Grupo I**

	1	2	3	4	5	6	7	8
Versão 1	D	A	C	B	C	D	B	B
Versão 2	B	C	A	D	C	A	C	D

**Grupo II**

1.1.

Utilizando a regra de Ruffini:

	1	-1	16	-16
1	1	0	16	0 = resto

$$z^3 - z^2 + 16z - 16 = (z - 1)(z^2 + 16) = (z - 1)(z + 4i)(z - 4i)$$

Cálculo auxiliar:  $z^2 + 16 = 0 \Leftrightarrow z^2 = -16 \Leftrightarrow z = -4i \vee z = 4i$

Assim, as raízes do polinómio na forma trigonométrica:

$$1 = cis 0, -4i = 4cis\left(-\frac{\pi}{2}\right) \text{ e } 4i = 4cis\left(\frac{\pi}{2}\right)$$

1.2.  $z_2 \times z_3 = 5i \times cis\left(\frac{n\pi}{40}\right) = 5cis\left(\frac{\pi}{2}\right) cis\left(\frac{n\pi}{40}\right) = 5cis\left(\frac{\pi}{2} + \frac{n\pi}{40}\right)$  como a imagem geométrica de  $z_2 \times z_3$  está no terceiro quadrante e pertence à bissetriz dos quadrantes

ímpares vem que  $\arg(z_2 \times z_3) = \frac{5\pi}{4} + 2k\pi, k \in \mathbb{Z}$ . Assim,

$$\frac{\pi}{2} + \frac{n\pi}{40} = \frac{5\pi}{4} + 2k\pi, k \in \mathbb{Z} \Leftrightarrow \frac{n\pi}{40} = \frac{3\pi}{4} + 2k\pi, k \in \mathbb{Z} \Leftrightarrow n = 30 + 80k, k \in \mathbb{Z}$$

Fazendo  $k = 0$  temos o menor natural que satisfaz o pretendido que é  $n = 30$ .

2.1. Seja  $X$  a variável aleatória que dá o número de jovens, de entre os 9, que utilizaram cartão multibanco.  $X$  segue uma distribuição binomial com  $n = 9$  e  $p = 0,6$ .

Assim,  $P(X = 6) = {}^9C_6 \times 0,6^6 \times 0,4^3 \approx 0,25$ .

2.2. No universo formado pelo conjunto dos passageiros que optam pelo destino Berlim ou Paris, com bilhetes a baixo custo, sejam os acontecimentos:

B: "O destino é Berlim"

P: "O destino é Paris"

V: "Efectua o voo"

Sabe-se que:

$$P(\bar{V} | B) = 0,05; P(V | P) = 0,92 \text{ logo } P(\bar{V} | P) = 1 - 0,92 = 0,08$$

$$P(B) = 0,3 \text{ logo } P(P) = 1 - 0,3 = 0,7$$

$$P(\bar{V}) = P(\bar{V} \cap P) + P(\bar{V} \cap B) = P(\bar{V} | P) \times P(P) + P(\bar{V} | B) \times P(B) = 0,08 \times 0,7 + 0,05 \times 0,3 = 0,071$$

3. Tendo-se  $P(A) > 0$  vem que:

$$P(B | A) \geq 1 - \frac{1 - P(B)}{P(A)} \Leftrightarrow \frac{P(A \cap B)}{P(A)} \geq \frac{P(A) - 1 + P(B)}{P(A)} \Leftrightarrow P(A \cap B) \geq P(A) + P(B) - 1 \Leftrightarrow$$

$$\Leftrightarrow P(A) + P(B) - P(A \cap B) \leq 1 \Leftrightarrow P(A \cup B) \leq 1$$

O que é verdadeiro, pois a probabilidade de um acontecimento é sempre menor ou igual a 1.



Tendo-se, por equivalência, que  $P(B | A) \geq 1 - \frac{1 - P(B)}{P(A)}$  é também verdadeira.

$$4. T'(t) = 0,2t \times e^{-0,15t} - 0,15 \times e^{-0,15t} \times 0,1t^2 = e^{-0,15t} (0,2t - 0,015t^2), t \in [0, 20]$$

$$T'(t) = 0 \Leftrightarrow e^{-0,15t} = 0 \vee t(0,2 - 0,015t) = 0 \Leftrightarrow t(0,2 - 0,015t) = 0 \Leftrightarrow t = 0 \vee t = \frac{40}{3}$$

Visto que  $e^{-0,15t} = 0$  é impossível.

Organizando a informação numa tabela, obtemos:

$t$	0		$\frac{40}{3}$		20
$T'(t)$	0	+	0	-	$T'(20)$
$T(t)$	$T(0)$		Max.		$T(20)$

De onde concluímos que o instante em que a temperatura atingiu o valor máximo foi em  $t = \frac{40}{3}$  horas, o que corresponde a 13 horas e 20 minutos.

5. 1. Cálculo da equação da assíntota horizontal do gráfico de  $f$ :

$\lim_{x \rightarrow -\infty} \frac{3}{x-1} = \frac{3}{-\infty} = 0$ , pelo que  $y = 0$  é equação da assíntota horizontal do gráfico de  $f$ .

Nota:  $\lim_{x \rightarrow +\infty} \frac{2 + \ln x}{x} = \lim_{x \rightarrow +\infty} \frac{2}{x} + \lim_{x \rightarrow +\infty} \frac{\ln x}{x} = 0 + 0 = 0$ , donde também se conclua que  $y = 0$  é equação da assíntota horizontal do gráfico de  $f$ .

Cálculo da equação da recta tangente ao gráfico de  $f$  no ponto de abcissa  $e$ :

$$f'(x) = \frac{\frac{1}{x}x - (2 + \ln x)}{x^2} = \frac{-1 - \ln x}{x^2}, \quad x > 1, \quad \text{assim } m = f'(e) = -\frac{2}{e^2}.$$

Sabendo que a recta passa no ponto  $T(e, f(e))$ , com  $f(e) = \frac{3}{e}$ , a ordenada na origem,

$b$ , é dada, pela resolução da equação  $f(e) = -\frac{2}{e^2} \times e + b \Leftrightarrow b = \frac{5}{e}$ . Finalmente a

equação reduzida da recta é dada por:  $y = -\frac{2}{e^2}x + \frac{5}{e}$

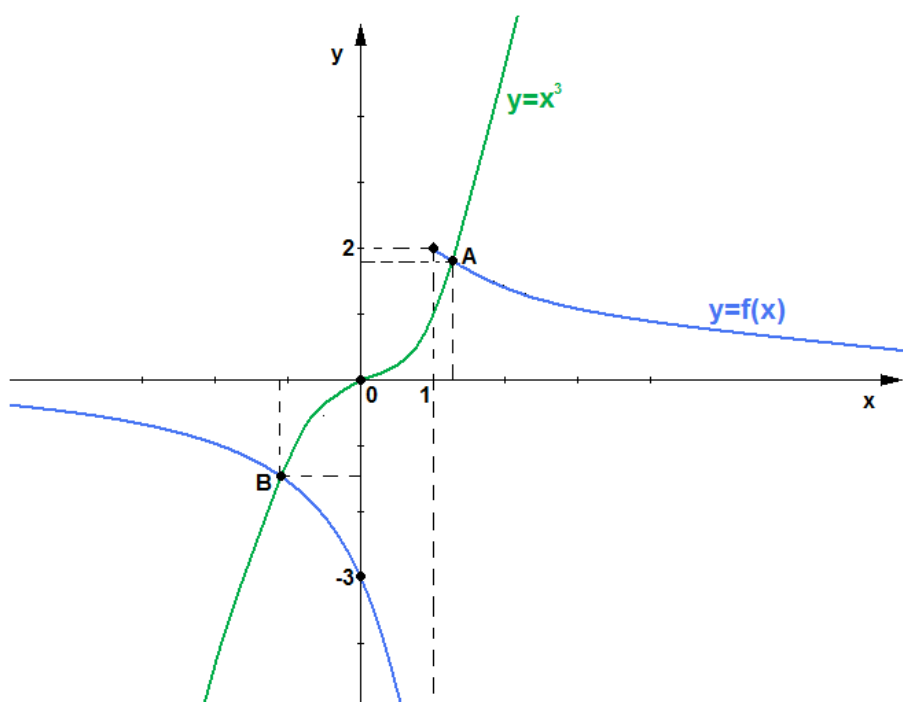
Determinamos agora as coordenadas do ponto P resolvendo o seguinte sistema de duas equações:

$$\begin{cases} y = 0 \\ y = -\frac{2}{e^2}x + \frac{5}{e} \end{cases} \Leftrightarrow \begin{cases} y = 0 \\ x = \frac{5e}{2} \end{cases}$$

$$P\left(\frac{5e}{2}, 0\right)$$

5.2. As coordenadas dos pontos referidos correspondem aos pontos dos gráficos cujas abscissas são as soluções da equação  $f(x) = x^3$

Recorrendo à calculadora gráfica:



As coordenadas dos pontos pretendidos são:

$A(a_1, a_2)$  e  $B(b_1, b_2)$  em que  $a_1 \approx 1,22$ ,  $a_2 \approx 1,80$ ,  $b_1 \approx -1,12$  e  $b_2 \approx -1,41$

6.1. A área do trapézio é dada por:

$$\text{área} = \frac{\overline{AD} + \overline{BC}}{2} \times \overline{CD}$$

A abscissa do ponto A é um zero da função  $f$ .

Temos,

$$f(x) = 0 \Leftrightarrow 4 \cos(2x) = 0 \Leftrightarrow \cos(2x) = \cos\left(\frac{\pi}{2}\right) \Leftrightarrow 2x = \frac{\pi}{2} + k\pi, k \in Z \Leftrightarrow x = \frac{\pi}{4} + \frac{k\pi}{2}, k \in Z$$

Fazendo  $k = 0$  vem que abcissa do ponto A é  $\frac{\pi}{4}$  (pois é o primeiro zero positivo da função).

$$\text{Logo, } \overline{AD} = \frac{\pi}{6} + \frac{\pi}{4} = \frac{5\pi}{12}; \overline{BC} = \frac{\pi}{6} \text{ e } \overline{CD} = f\left(-\frac{\pi}{6}\right) = 4\cos\left(-\frac{\pi}{3}\right) = 4 \times \frac{1}{2} = 2.$$

$$\text{Logo, } \text{área} = \frac{\frac{5\pi}{12} + \frac{\pi}{6}}{2} \times 2 = \frac{7\pi}{12}.$$

$$6.2. \quad f'(x) = 4(-\text{sen}(2x)) \times 2 = -8\text{sen}(2x), \quad \forall x \in \mathbb{R}$$

$$f''(x) = -8\cos(2x) \times 2 = -16\cos(2x), \quad \forall x \in \mathbb{R}$$

Logo,

$$f(x) + f'(x) + f''(x) = 4\cos(2x) - 8\text{sen}(2x) - 16\cos(2x) = -8\text{sen}(2x) - 12\cos(2x) = -4(3\cos(2x) + 2\text{sen}(2x)), \quad \forall x \in \mathbb{R} \quad \text{c.q.d.}$$

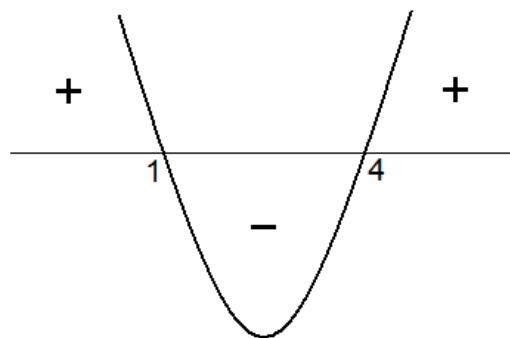
7. A opção que pode representar a função  $f$  é a III.

Podemos excluir a opção II visto que por visualização gráfica as imagens de 1 e 4 têm sinais contrários logo  $f(1) \times f(4) < 0$ , o que contraria a condição dada  $f(1) \times f(4) > 0$ .

Excluimos a opção IV pois, pelo facto de  $f''$  estar definida em  $\mathbb{R}$ , em particular  $f$  é duas vezes diferenciável, logo contínua.

A opção I também é excluída porque não respeita o sentido das concavidades do gráfico de  $f$ . O sentido das concavidades do gráfico de  $f$  é obtido pelo estudo do sinal da segunda derivada de  $f$ . Pelo facto da parte do gráfico de  $g$  visualizada estar acima do eixo das abcissas e de  $g$  ser contínua e não ter zeros, temos que  $g(x) > 0, \forall x \in \mathbb{R}$ .

Assim, o sinal de  $f''$  é dado pelo sinal do factor  $x^2 - 5x + 4$ , obtido no seguinte esboço.



Assim, rejeitamos a opção I pois, por exemplo, no intervalo  $[1, 4]$  a concavidade está voltada para cima e o esboço apresentado indica que deveria estar voltada para baixo.