


6 Os números até doze (12)

● Observar as figuras.

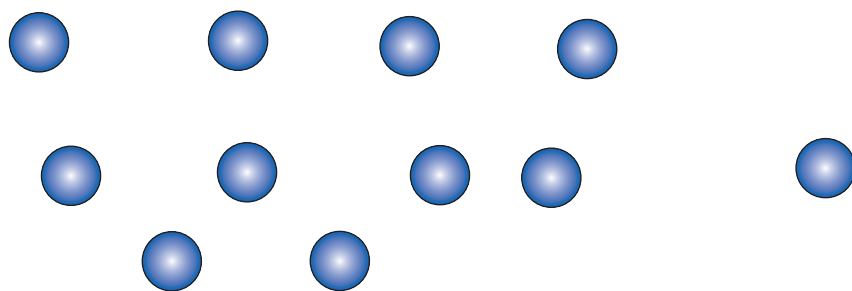


$$9 + 1 = 10 \rightarrow \text{dez}$$

● Pintar de cor-de-laranja a barra do dez.

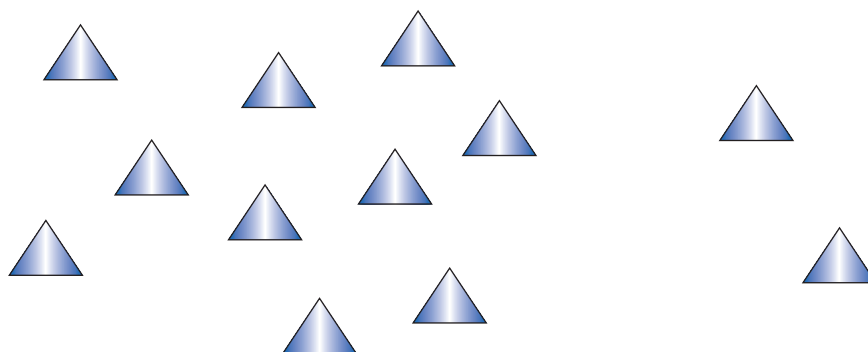


● Formar grupos de dez, em cada situação indicada. Registrar, nas tabelas, o número de agrupamentos e o dos elementos que sobram.



1	1
onze	

$$10 + 1 = 11$$



1	2
doze	

$$10 + 2 = 12$$