

Já sei. 😊

Tenho que praticar. 😐

Ainda não sei. ☹️

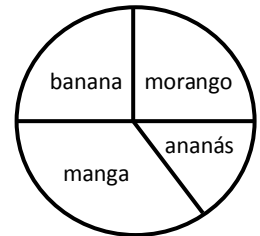
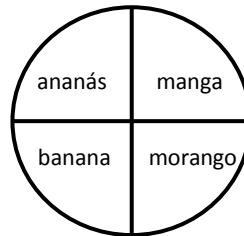
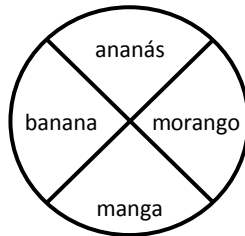
Nome: _____ Data: ____/____/____

Matemática

1 – A tabela seguinte indica a preferência dos alunos, quando foram questionados, por um dos seguintes sabores de iogurtes: morango, banana, ananás e manga.

→ Qual dos seguintes gráficos circulares corresponde à tabela ao lado? Pinta-os com cores diferentes e fazendo a respetiva legenda.

Sabor do iogurte	Nº de alunos
morango	20
banana	20
ananás	10
manga	30



2 – Assinala com x a afirmação correta.

Numa circunferência o raio mede 3 m e o diâmetro mede...

6 m

9 m

10 m

Numa circunferência o diâmetro mede 12 m e o raio mede...

4 m

5 m

6 m

3 – Calcula a área do retângulo e do quadrado abaixo representados, sabendo que cada quadrícula mede 1 cm de lado.

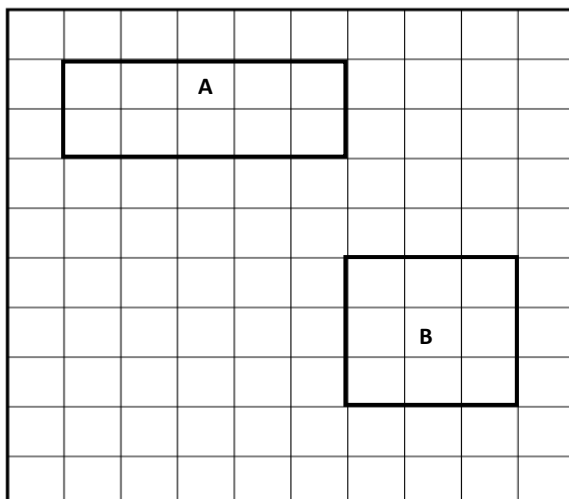


Figura A

comprimento → _____ cm

largura → _____ cm

área → _____ cm²

Figura B

lado → _____ cm

área → _____ cm²