

## Sólidos geométricos

- Observa à tua volta e procura objectos que te sugerem sólidos geométricos. Escreve o nome dos objectos que se parecem com:









cubo – \_\_\_\_\_

esfera – \_\_\_\_\_

cilindro – \_\_\_\_\_

cone – \_\_\_\_\_

- Recorda os sólidos geométricos representados na tabela. Indica quais e quantas figuras geométricas de cada tipo existem em cada um deles. Completa.

- Na quadrícula, faz um desenho em que só utilizes figuras geométricas planas.

