

Nome: \_\_\_\_\_

Data \_\_\_/\_\_\_/200\_\_

# Cores de Outono



Pinta as figuras.

REGISTO DA AVALIAÇÃO	Data ____/____/____			
	Nome do aluno: _____			
	LÍNGUA PORTUGUESA	MATEMÁTICA	ESTUDO DO MEIO	Observações
	<input type="checkbox"/> Professor		<input type="checkbox"/> Encarregado de Educação	

REVER OS TEMAS DADOS NO ANO AN- TERIOR.	<b>LÍNGUA PORTUGUESA</b> AVALIAÇÃO DO ANO ANTERIOR	CLASSIFICAÇÃO: _____
	Nome: _____	DATA: ____/____/____

Quando não se vai à praia  
e já se veste a camisola,  
— começa a escola.

Os livros têm estampas de cor  
e na capa do meu caderno  
eu pinto a borboleta e a flor.  
Quando se ouve tocar a sineta  
a anunciar que está na hora,  
eu faço sempre uma careta  
com pena de ir embora.

Como é bom andar na escola!



Ester de Lemos – Adaptação

### INTERPRETAÇÃO

1 Lê o texto e escreve  Certo ou  Errado .

Os livros têm estampas de cor.

As borboletas voam na sala de aula.

A sineta anuncia a hora da saída.

O texto diz que é bom andar na escola.


2 E tu, gostas de andar na escola? Porquê?

---



---



---

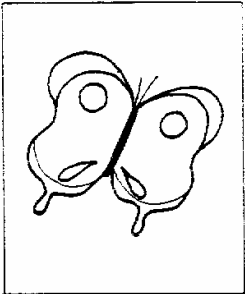



## VOCABULÁRIO

- 3 Descobre, no texto, as palavras que rimam com as seguintes:



camisola	cor	sineta	hora
_____	_____	_____	_____


## GRAMÁTICA

- 4 Liga cada desenho à **palavra** que lhe corresponde.

			
•	•	•	•
•	•	•	•
livro	caderno	borboleta	flor

- 5 Dá o nome aos desenhos e escreve as **frases** correctas.

Na escola desenhei uma  e uma .

Eu pintei o desenho com  de cor.

## EXPRESSÃO ESCRITA

- 6 Escreve algumas frases sobre a escola.

A minha escola tem \_\_\_\_\_ alunos.


O (A) Professor(a) chama-se \_\_\_\_\_

Os meus amigos são \_\_\_\_\_

REVER OS TEMAS DADOS NO ANO AN- TERIOR.	<h2 style="margin: 0;">MATEMÁTICA</h2> <h3 style="margin: 0;">AVALIAÇÃO DO ANO ANTERIOR</h3> <p>Nome: _____</p>	CLASSIFICAÇÃO: _____  DATA: ____/____/____
---	---	--

### QUESTÕES

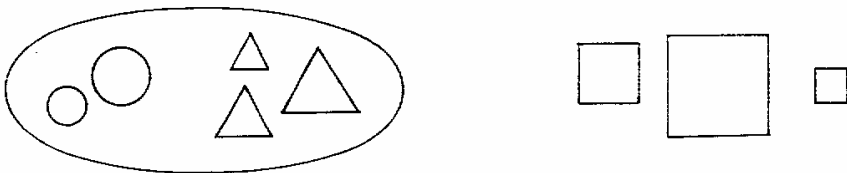
1 Rodeia, com a cor azul, o conjunto...



das flores

dos animais

2 Forma o subconjunto dos triângulos.



3 Liga as etiquetas que representam o mesmo valor.

$2 + 3$	$6 + 2$	$4 + 5$	$3 + 4$	$3 + 3$
•	•	•	•	•
•	•	•	•	•
9	5	6	8	7

4 Faz a decomposição.

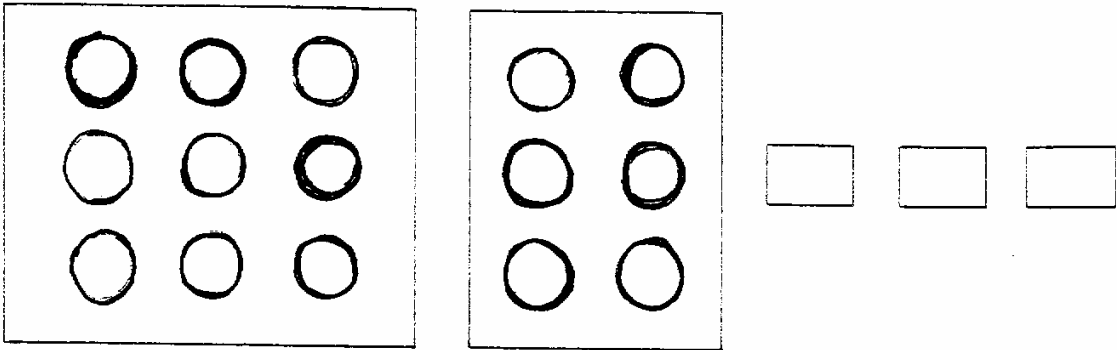
10	10	10	10	10	
6	+		9	+	
8	+			+	3
	+	5			

5 Completa as igualdades:

$19 + 1 = \square$	$\square + 16 = 20$	$\square + 7 = 20$
$17 + \square = 20$	$10 + 10 = \square$	$12 + \square = 20$


## PROBLEMAS

1 Quantos berlindes são?



2 Dos 19 alunos de uma sala de aula faltaram 4. Quantos alunos foram à escola?

3 Descobre o número de lápis que a Joana tem a mais do que o Miguel.



4 Calcula.

$13 + 4 = \square$

$17 + 2 = \square$

$15 - 4 = \square$

$19 - 6 = \square$

REVER OS TEMAS DADOS NO ANO ANTERIOR.	<h2 style="margin: 0;">MEIO FÍSICO E SOCIAL</h2> <h3 style="margin: 0;">AVALIAÇÃO DO ANO ANTERIOR</h3> <p>Nome: _____</p>	CLASSIFICAÇÃO: _____  DATA: _____
---------------------------------------	---	---

«Quando não se vai à praia – começa a escola.»

1 Assinala com  a resposta correcta.

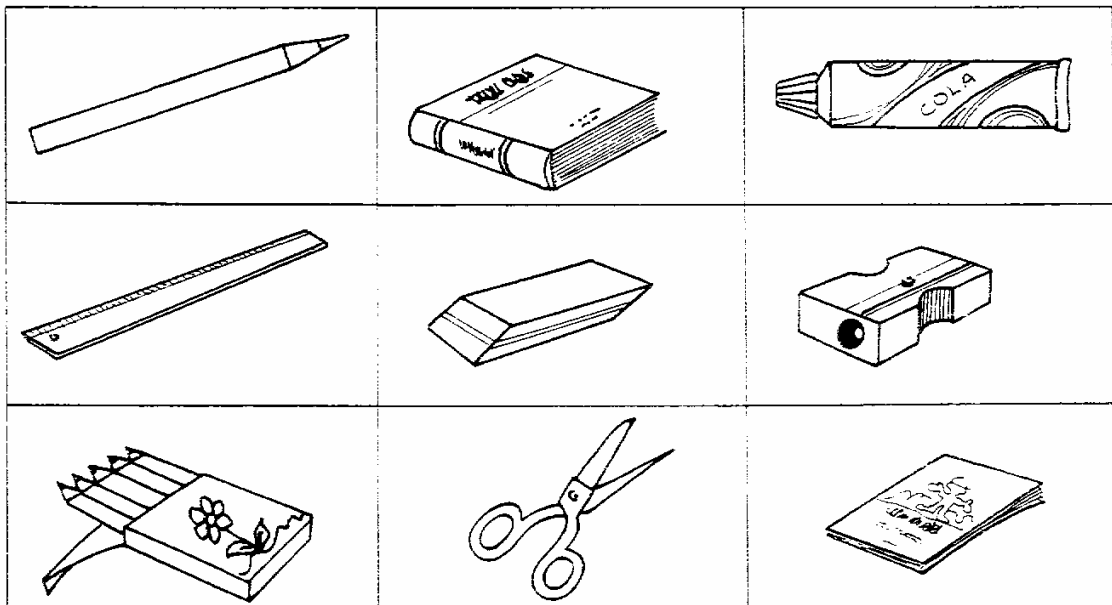
Eu passei as minhas férias de Verão...

- |  |  |  |
|--|--|--|
| • na aldeia <input type="checkbox"/>   | • na cidade <input type="checkbox"/>   | • na praia <input type="checkbox"/>    |
| • com os pais <input type="checkbox"/> | • com os avós <input type="checkbox"/> | • com os tios <input type="checkbox"/> |

2 Em que dia começou, para ti, a escola?

\_\_\_\_\_

3 Pinta, com lápis de cor, os materiais que usas mais vezes.



4 Completa.

Frequento a escola

5 Escreve **Sim** ou **Não**.

De manhã, quando acordo...




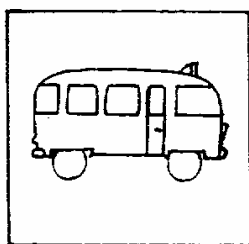
- levanto-me cedo.
- lavo-me no quarto de banho.
- visto-me e calço-me sozinho(a).
- tomo leite ao pequeno almoço.
- como pão com manteiga.


6 Sublinha a resposta certa.

Eu vou para a escola...

- a pé • de autocarro • de comboio • de automóvel • de bicicleta

7 Identifica os seguintes meios de transporte:





\_\_\_\_\_

8 O que fazes antes de atravessar a rua da tua escola?

\_\_\_\_\_

\_\_\_\_\_

9 Pinta a gravura que mostra a cena correcta.



**Fim**