

1. Pinta da mesma cor os pares de flores em que somados os seus números se obtém 50.



- 1.1 Ordena os números anteriores:

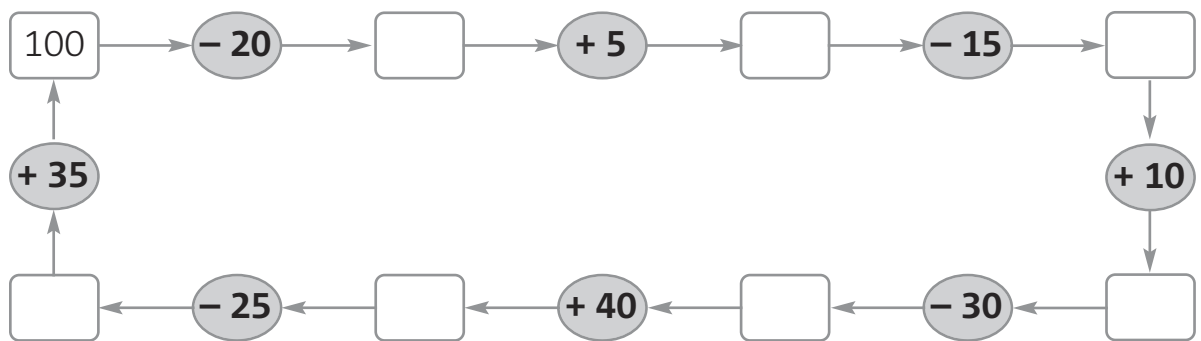
- Do menor para o maior (ordem crescente).

_____ < _____ < _____ < _____ < _____ < _____ < _____

- Do maior para o menor (ordem decrescente).

_____ > _____ > _____ > _____ > _____ > _____ > _____

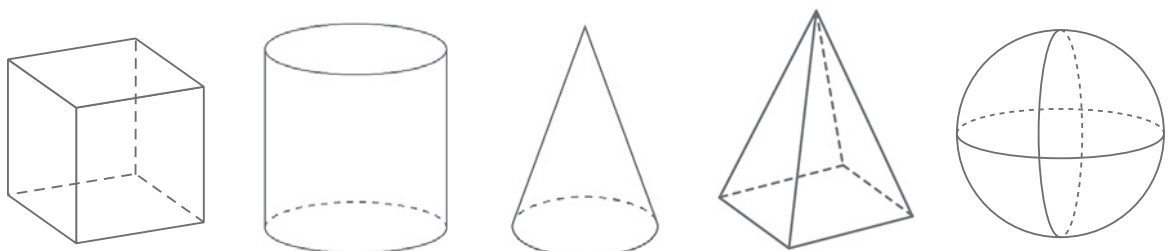
2. Parte do número 100 e completa os espaços, usando o cálculo mental.



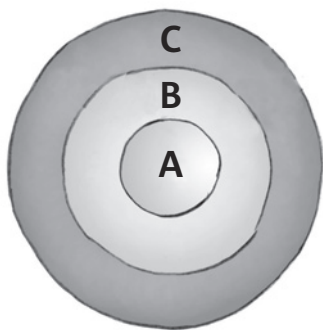
3. Pinta os sólidos seguintes de acordo com o código indicado.

Código:

- **Amarelo** – Sólidos apenas com superfícies planas.
- **Azul** – Sólidos com superfícies planas e não planas.
- **Vermelho** – Sólidos apenas com superfícies não planas.



4. Num jogo de tiro ao alvo, 4 amigos foram pontuados de acordo com o local onde as suas setas acertaram no alvo.



| Região do alvo | Pontuação |
|----------------|-----------|
| A | 25 |
| B | 10 |
| C | 5 |

4.1 No seguinte quadro encontra-se a distribuição das setas dos 4 amigos, por regiões do alvo. Calcula o número de pontos obtidos por cada um dos 4 amigos. Observa o exemplo.

| Nome \ Região do alvo | A | B | C | Total de pontos obtidos |
|-----------------------|---|---|---|-------------------------|
| Rosa Maria | 2 | 1 | 0 | $50 + 10 = 60$ |
| José Carlos | 1 | 2 | 1 | |
| Marta | 3 | 1 | 1 | |
| Orlando | 2 | 3 | 1 | |

4.2 Tendo em conta o número de pontos obtidos por cada amigo, escreve a classificação dos 4 amigos no jogo do tiro ao alvo.

| Nome | Rosa Maria | José Carlos | Marta | Orlando |
|---------|------------|-------------|-------|---------|
| Posição | | | | |

5. Numa loja de desporto vendem-se os seguintes artigos:



5.1 A Joana comprou as sapatilhas e o fato de treino e pagou com uma nota de 50 euros. Quanto recebeu de troco?