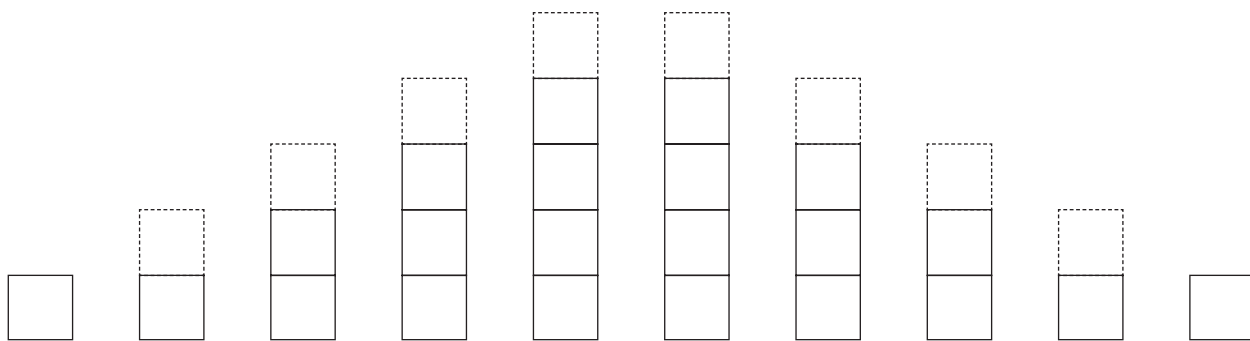


# 2 Os números até 5

- Cobrir o tracejado para completar cada uma das barras. Pintar as barras com as respectivas cores (1 – branco; 2 – vermelho; 3 – verde-claro; 4 – cor-de-rosa; 5 – amarelo). Escrever os números que faltam.



1 < 2 < \_\_\_ < \_\_\_ < 5 = 5 > \_\_\_ > \_\_\_ > \_\_\_ > \_\_\_



- Pintar as barras. Completar.



$$4 = 4$$



$$3 = \underline{\quad}$$



$$\underline{\quad} = \underline{\quad}$$

$$\underline{\quad} = \underline{\quad}$$

- Escrever os números do maior para o menor (ordem decrescente).

4                      2                      5  
1                      3                      0

- Escrever os números do menor para o maior (ordem crescente).

2                      4                      5  
1                      0                      3

5 > 4 > > > > 0

0 < < 2 < < < 5