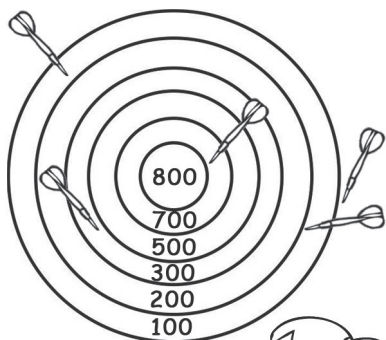


Nome: \_\_\_\_\_

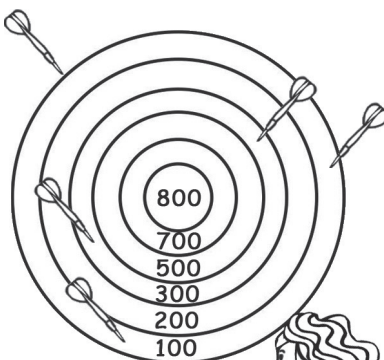
Escola: \_\_\_\_\_

Data:    -    -

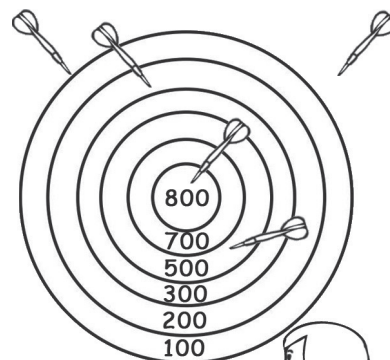
- 1 A Petra, a Ágata e a Sofia jogaram ao tiro ao alvo. Cada seta fora do alvo vale uma penalização de 150 pontos.



Petra



Ágata



Sofia

1.1. Depois de observares a pontuação das três amigas, responde.

- Quem ganhou o jogo do tiro ao alvo?

R.: \_\_\_\_\_

- Quem foi o jogador mais penalizado? Em quantos pontos?

R.: \_\_\_\_\_

- Quantos pontos de diferença há entre o primeiro e o último jogador?

R.: \_\_\_\_\_

- Se não houvesse penalizações, quem teria ganho o jogo?

R.: \_\_\_\_\_

- Qual era a pontuação máxima que poderiam conseguir?

R.: \_\_\_\_\_