



NOME

AVALIAÇÃO

N.º

TURMA

DATA

-

-


ENC. EDUC.

1. Realizou-se na escola um campeonato de cálculo mental entre as turmas do 4.º ano. As pontuações de cada turma foram registadas na tabela a seguir.

Etapa	4.º A	4.º B	4.º C	4.º D
1.ª	1345	564	1032	1578
2.ª	1252	1223	965	421

- 1.1 **Descobre** qual foi a turma que obteve maior pontuação. Usa o algoritmo para o fazeres.

- 1.2 **Quantos** pontos faltaram ao 4.º B, na 1.ª etapa, para ter feito tantos pontos como o 4.º D? Usa a reta numérica para descobrires.

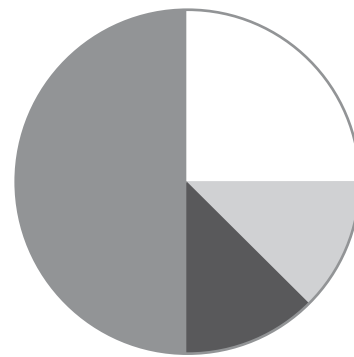


2. **Localiza** os números na reta.

1,4 2,3 1,9 0,8 2,9 0,2



3. Questionaram-se 840 alunos sobre o seu ingrediente de piza preferido e registaram-se os dados num gráfico circular. **Observa-o.**



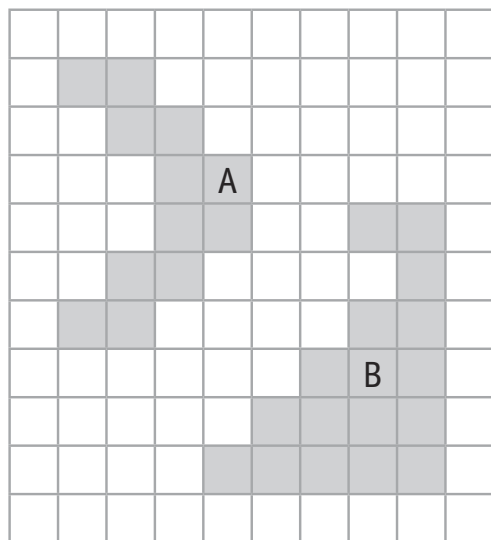
■ Fiambre □ Ananás ■ Milho ■ Outros

3.1. Qual é o ingrediente com maior preferência neste grupo? _____

3.2 Descobre quantos alunos escolheram cada ingrediente e **completa** a tabela.

Ingredientes	N.º de alunos
Fiambre	
Ananás	
Milho	
Outros	

4. Tendo como unidade de área □ e de perímetro —, indica a área da figura A e o perímetro da figura B.



4.1. Se a unidade de medida de área fosse □□, qual seria a área da figura A?

5. **Completa** adicionando as quantidades indicadas.

