


MATEMÁTICA

Nome : _____

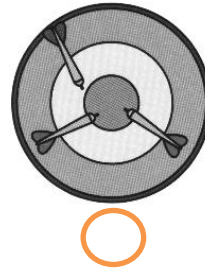
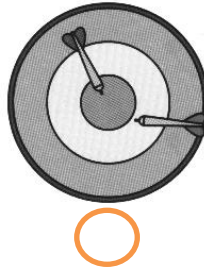
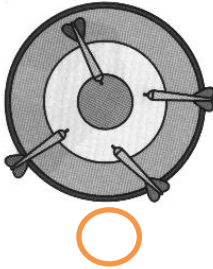
Data : __/__/__



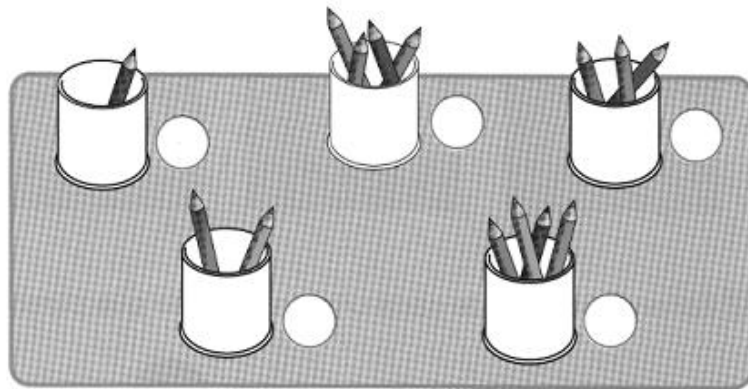
Desenha ou corta elementos para ficarem sempre quatro.



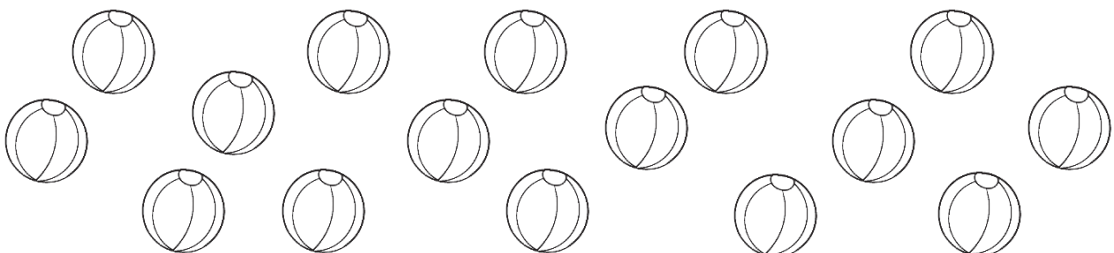
Escreve o número de setas atiradas a cada alvo.



Escreve o número de lápis de cada lata.
Pinta as latas que têm quatro lápis.



Faz grupos de quatro bolas contornando com o lápis.





Conta e escreve o número de dedos levantados em cada mão.













Liga cada brinquedo ao número de rodas que têm.



Compara, usando os sinais (> < =) ou escrevendo números.

4	___	3
4	___	2
4	___	1

3	___	4
2	___	4
1	___	4

4	>	___
3	<	___
___	=	4

<input type="text"/>	<	<input type="text"/>
<input type="text"/>	>	<input type="text"/>
<input type="text"/>	=	<input type="text"/>



Escreve debaixo de cada criança, a idade que parece que ela tem.









- 1
- 2
- 3
- 4