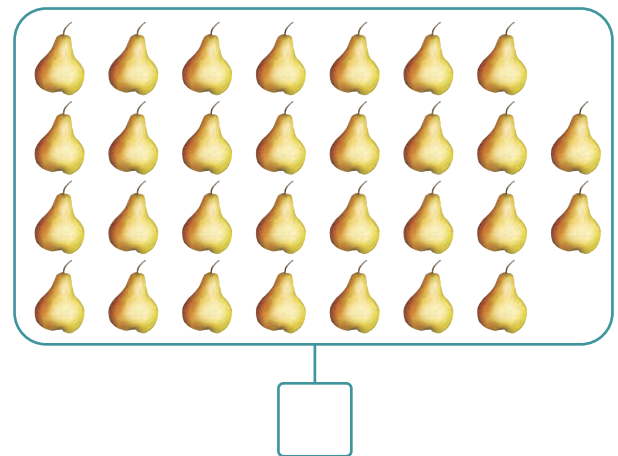






Nome: _____

Data: _____

1. Assinala com **X** os grupos em que o número de elementos é par.



2. Copia os números **pares**.

23 42 31 35 18 24 37 26 39

--	--	--	--	--	--	--	--	--

3. Copia os números **ímpares**.

29 12 35 38 43 41 27 16 44

--	--	--	--	--	--	--	--	--

4. O Alberto comprou um par de aviões e o menor número ímpar de bonecas, para oferecer aos seus sobrinhos.

- Sabendo que ele ofereceu um destes brinquedos a cada um dos seus sobrinhos, quantos sobrinhos tem?



Resposta: _____

- Quanto pagou pelos aviões?

Resposta: _____

- Ao todo quanto gastou na compra dos brinquedos?

Resposta: _____

- Sabendo que ele pagou com 1 nota de 20 euros, quanto recebeu de troco?

Resposta: _____