





Nome: \_\_\_\_\_



Data: \_\_\_\_\_

1. Observa e completa as frases.



 valem tanto como \_\_\_\_\_ moedas de .

 valem tanto como \_\_\_\_\_ moedas de .

 valem tanto como \_\_\_\_\_ moedas de .

2. Circunda o menor número de moedas necessárias para comprar cada objecto.



20 cêntimos



18 cêntimos



15 cêntimos



2. Numera as notas de **1** a **3** começando pela de menor valor.



3. Observa e completa.



Duas notas de 5 euros são \_\_\_\_\_ euros.



Uma nota de 10 euros vale tanto como \_\_\_\_\_ notas de \_\_\_\_\_ euros. Duas notas de 10 euros equivalem a \_\_\_\_\_ euros.



Uma nota de 20 euros vale tanto como \_\_\_\_\_ notas de \_\_\_\_\_ euros e tanto como \_\_\_\_\_ notas de 5 euros.

4. Completa.



15 cêntimos

O lápis custa  cêntimos.

A Carolina pagou com  cêntimos.

Vai receber de troco  cêntimos.

Então  -  =