

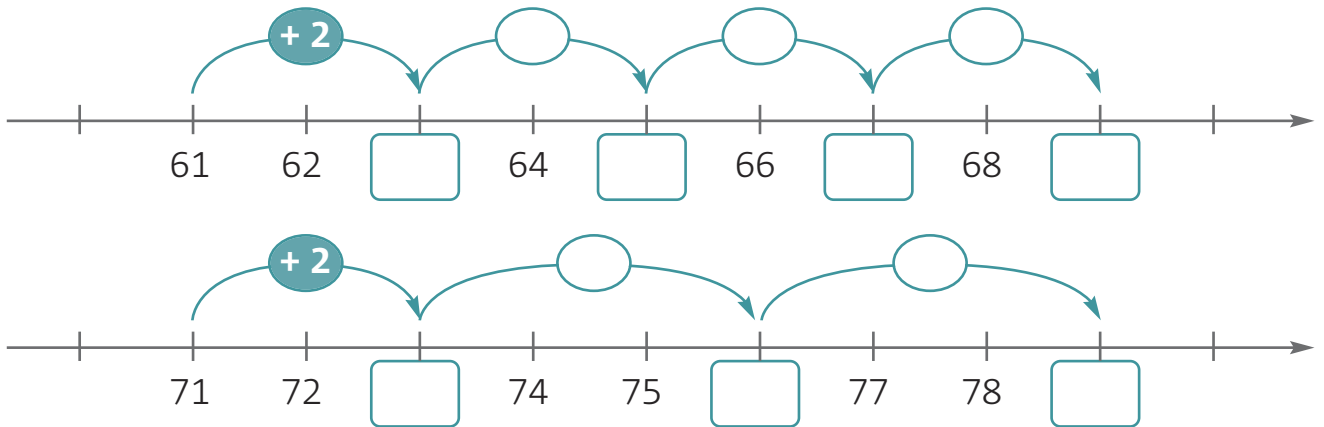
Nome: _____

Data: _____

1. Liga as operações com o mesmo valor.

$77 + 11$	$98 - 5$	$88 - 12$	$85 - 12$
$72 + 12$	$44 + 44$	$96 - 23$	$63 + 13$
$82 + 11$	$88 - 4$	$97 - 25$	$51 + 21$

2. Completa.



3. Completa a decomposição escrevendo o valor das notas.




<input type="text"/>	euros	+	<input type="text"/>	euros	+	5 euros	
<input type="text"/>	euros	+	<input type="text"/>	euros	+	<input type="text"/>	euros
<input type="text"/>	euros	+	<input type="text"/>	euros	+	<input type="text"/>	euros


4. Liga do objecto mais curto para o mais comprido.



5. Assinala com **X** os sólidos geométricos que só têm superfícies planas.



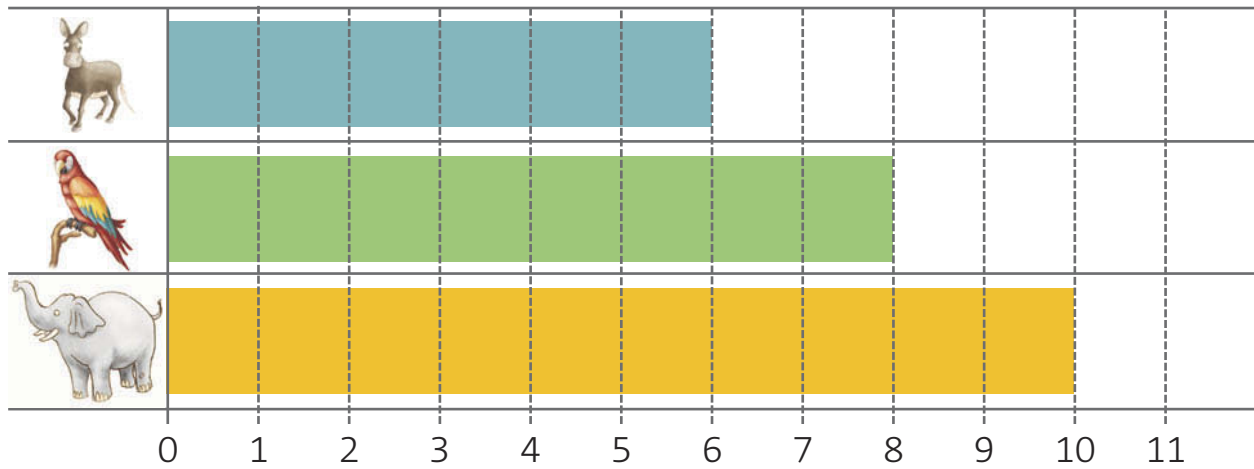






6. A turma do Rui foi visitar o jardim zoológico. No fim da visita registaram num gráfico as preferências relativas ao animal que cada aluno mais gostou de ver.


Animais que os alunos mais gostaram



● Assinala o animal preferido pelos alunos.







● Quantos alunos há na turma do Rui?

Resposta: _____

● Quantos alunos preferiram o burro e o elefante?

Resposta: _____