

Máximo Matemática A 12

Proposta de teste de avaliação

Matemática A

12.º ANO DE ESCOLARIDADE

Duração: 90 minutos | **Data:**

Na resposta aos itens de escolha múltipla, selecione a opção correta. Escreva, na folha de respostas, o número do item e a letra que identifica a opção escolhida.

Na resposta aos restantes itens, apresente todos os cálculos que tiver de efetuar e todas as justificações necessárias. Quando, para um resultado, não é pedida aproximação, apresente sempre o valor exato.

1. Numa escola secundária, os alunos do 12.º ano vão participar em atividades da Semana do Agrupamento.

- 1.1. Numa competição de matemática, participaram apenas alunos das turmas C e D.

Sabe-se que:

- $\frac{2}{5}$ eram da turma D;
- o número de rapazes era igual ao número de raparigas;
- $\frac{3}{4}$ dos rapazes eram da turma C.

Escolhe-se, ao acaso, um dos participantes.

Qual é a probabilidade de o aluno escolhido ser uma rapariga, sabendo que é da turma D ?

Apresente a resposta na forma de fração irredutível.

- 1.2. Dez amigos, três da turma C, cinco da turma D e dois alunos da turma A, vão sentar-se em duas filas do auditório da escola, cada uma com cinco lugares numerados de 1 a 5.

De quantas maneiras diferentes os dez amigos podem sentar-se, ficando os três alunos da turma 12.º C numa única fila?

- (A) 50 400 (B) 100 800
(C) 302 400 (D) 604 800

2. Seja E , conjunto finito, o espaço amostral associado a uma experiência aleatória, e sejam A e B dois acontecimentos em E , com $P(A) \neq 0$.

Sabe-se que:

- $P(B) = \frac{1}{3}$
- os acontecimentos A e B são independentes.

Calcule $P(\overline{B} | \overline{A})$.

3. A que é igual o valor central da 7.^a linha do Triângulo de Pascal?

- (A) 25 (B) 20
(C) 15 (D) 10

4. Seja Ω o espaço amostral associado a uma experiência aleatória, e sejam A e B dois acontecimentos ($A \subset \Omega$ e $B \subset \Omega$), com $P(B) \neq 0$.

Mostre que $P(A \cap B | B) + P(\bar{A} | B) = 1$.

5. Considere a sucessão (a_n) de termo geral $a_n = \frac{10n+3}{n+2}$.

Seja g a função definida em $] -\infty, 10[$ por $g(x) = \log_2(10-x)$.

A que é igual $\lim g[(a_n)]$?

- (A) $-\infty$ (B) $+\infty$
(C) 0 (D) 1

6. Considere a função f definida em \mathbb{R} por:

$$f(x) = \begin{cases} \frac{\sin(2x)}{x^2 - x} & \text{se } x < 0 \\ -2 & \text{se } x > 0 \\ \frac{1 - e^{2x}}{x} & \text{se } x > 0 \end{cases}$$

6.1. Mostre que a função f é contínua.

6.2. Determine, caso existam, as equações das assíntotas paralelas aos eixos coordenados.

6.3. Mostre que a reta de equação $y = x - 10$ intersesta o gráfico da função f em pelo menos um ponto no intervalo $]1, 2[$.

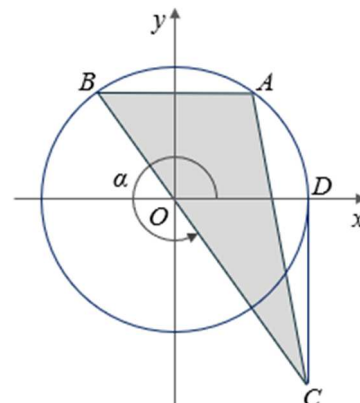
7. Qual é o limite da sucessão de termo geral $\left(\frac{3n+1}{3n}\right)^n$?

- (A) e^3 (B) e
(C) $e^{\frac{1}{3}}$ (D) $\frac{1}{e^3}$

8. Na figura, estão representados a circunferência trigonométrica e o triângulo $[ABC]$.

Sabe-se que:

- o ponto A pertence ao primeiro quadrante e à circunferência;
- o ponto B pertence ao segundo quadrante e à circunferência;
- o ponto D tem coordenadas $(1, 0)$;
- o segmento de reta $[AB]$ é paralelo ao eixo Ox ;
- a reta BC passa na origem do referencial;
- a reta CD é paralela ao eixo Oy .



Seja α a amplitude do ângulo com orientação positiva, cujo lado origem é o semieixo positivo

Ox e cujo lado extremidade é a semirreta OC $\left(\alpha \in \left] \frac{3\pi}{2}, 2\pi \right[\right)$.

Qual das expressões seguintes dá a área do triângulo $[ABC]$, em função de α ?

- (A) $\frac{\sin \alpha (\cos \alpha - 1)}{2}$ (B) $-\frac{\sin \alpha (\cos \alpha + 1)}{2}$
 (C) $\sin \alpha (\cos \alpha - 1)$ (D) $-\sin \alpha (\cos \alpha + 1)$

9. Seja f uma função de domínio \mathbb{R} e duas vezes diferenciável.

Considere as seguintes afirmações:

- I.** Se $f'(a) = 0$ e $f''(a) > 0$, então f tem um máximo relativo em $x = a$.
II. Se $f''(x) > 0$ num intervalo, então a função f é crescente nesse intervalo.
III. Se $f'(a) = 0$ e $f''(a) = 0$, então f tem um máximo relativo em $x = a$.

Justifique que as afirmações I, II e III são falsas.

Na sua resposta, apresente, para cada uma das proposições, uma razão que justifique a sua falsidade.

10. Admita que t minutos após se desligar um forno, a sua temperatura, T , em graus Celsius, é dada, por:

$$T(t) = 200 - 25 \ln(t+1), \quad 0 \leq t \leq 60$$

Existe um instante a , com $a \in [0, 1]$, para o qual a temperatura do forno, no intervalo de tempo $[a, a+1]$, diminui 7%.



Determine esse instante, recorrendo à calculadora.

Apresente o resultado em segundos, com arredondamento às décimas.

Se, nos cálculos intermédios, proceder a arredondamentos, conserve, no mínimo, três casas decimais.

Não justifique a validade do resultado obtido na calculadora.

Na sua resposta:

- Apresente a equação que lhe permitiu resolver o problema;
- Represente, num referencial, o(s) gráfico(s) da(s) função(ões) visualizado(s) na calculadora e assinale o(s) ponto(s) relevante(s) que lhe permitem resolver a equação.

FIM

Cotações

Item													
Cotação em pontos													
1.1.	1.2.	2.	3.	4.	5.	6.1.	6.2.	6.3.	7.	8.	9.	10.	Total
18	18	17	10	17	10	18	18	18	10	10	18	18	200

Proposta de resolução

1.

1.1. Sejam os acontecimentos:

 D : “O participante escolhido é da turma D.” F : “O participante escolhido é rapariga.”

Com os dados do enunciado, tem-se:

- $P(D) = \frac{2}{5}$
- $P(F) = P(\overline{F}) = \frac{1}{2}$
- $P(\overline{D} | \overline{F}) = \frac{3}{4}$

Pretende-se calcular $P(F | D) = \frac{P(F \cap D)}{P(D)}$.

$$P(\overline{D} \cap \overline{F}) = P(\overline{F}) \times P(\overline{D} | \overline{F}) = \frac{1}{2} \times \frac{3}{4} = \frac{3}{8}$$

Organizando os dados numa tabela, tem-se:

	F	\overline{F}	
D	$\frac{11}{40}$		$\frac{2}{5}$
\overline{D}	$\frac{9}{40}$	$\frac{3}{8}$	$\frac{3}{5}$
	$\frac{1}{2}$	$\frac{1}{2}$	1

$$P(\overline{D}) = 1 - \frac{2}{5} = \frac{3}{5}$$

$$P(\overline{D} \cap \overline{F}) = \frac{3}{5} - \frac{3}{8} = \frac{9}{40}$$

$$P(F \cap D) = \frac{1}{2} - \frac{9}{40} = \frac{11}{40}$$

$$\text{Portanto, } P(F | D) = \frac{\frac{11}{40}}{\frac{2}{5}} = \frac{\frac{11}{40}}{\frac{16}{40}} = \frac{11}{16}$$

1.2. Os três alunos da turma C podem sentar-se numa das 2 filas de 5 lugares cada uma de 5A_3 maneiras diferentes, uma vez que a ordem pela qual se sentam é relevante. Como a ordem pela qual se sentam também é relevante, os restantes 7 alunos podem sentar-se nos 7 lugares disponíveis de $7!$ maneiras diferentes.

Logo, nas condições do enunciado, os dez alunos podem sentar-se de $2 \times {}^5A_3 \times 7! = 604\,800$ maneiras diferentes.

Opção correta: (D)

$$\begin{aligned}
 2. \quad P(\bar{B}|\bar{A}) &= \frac{P(\bar{A} \cap \bar{B})}{P(\bar{A})} = \frac{P(\overline{A \cup B})}{P(\bar{A})} = \frac{1 - P(A \cup B)}{P(\bar{A})} = \\
 &= \frac{1 - P(A) - P(B) + P(A \cap B)}{P(\bar{A})} = \frac{P(\bar{A}) - P(B) + P(A) \times P(B)}{P(\bar{A})} = \\
 &= 1 - \frac{P(B) - P(A) \times P(B)}{P(\bar{A})} = 1 - \frac{P(B)[1 - P(A)]}{P(\bar{A})} = \\
 &= 1 - \frac{P(B)P(\bar{A})}{P(\bar{A})} = 1 - P(B) = 1 - \frac{1}{3} = \frac{2}{3}
 \end{aligned}$$

$P(A \cap B) = P(A) \times P(B)$, pois A e B são acontecimentos independentes.

3. A sétima linha do triângulo de Pascal é constituída por todas as combinações de um conjunto com 6 elementos: 6C_0 6C_1 6C_2 6C_3 6C_4 6C_5 6C_6

O valor central dessa linha é ${}^6C_3 = 20$.

Opção correta: **(B)**

$$\begin{aligned}
 4. \quad P(A \cap B | B) + P(\bar{A} | B) &= \frac{P((A \cap B) \cap B)}{P(B)} + \frac{P(\bar{A} \cap B)}{P(B)} = \\
 &= \frac{P(A \cap B) + P(\bar{A} \cap B)}{P(B)} = \frac{P[(A \cap B) \cup (\bar{A} \cap B)]}{P(B)} = \\
 &= \frac{P[(A \cup \bar{A}) \cap B]}{P(B)} = \frac{P(\Omega \cap B)}{P(B)} = \frac{P(B)}{P(B)} = 1
 \end{aligned}$$

$$\begin{aligned}
 (A \cap B) \cap (\bar{A} \cap B) &= \\
 &= A \cap \bar{A} \cap B \cap B = \emptyset \cap B = \emptyset
 \end{aligned}$$

$$5. \quad \lim(a_n) = \lim \frac{10n+3}{n+2} = \lim \frac{10(n+2)-17}{n+2} = \lim \left(10 - \frac{17}{n+2} \right) = 10 - 0^+ = 10^-$$

$$\text{Assim, } \lim g[(a_n)] = \lim_{x \rightarrow 10^-} g(x) = \lim_{x \rightarrow 10^-} \log_2(10-x) = -\infty.$$

Se $x \rightarrow 10^-$, $10-x \rightarrow 0^+$ e $\lim_{x \rightarrow 0^+} \log_2 x = -\infty$

Opção correta: **(A)**

6.

6.1. A função f é contínua em $]-\infty, 0[$ e em $]0, +\infty[$, porque, em cada caso, resulta de operações entre funções contínuas nesses intervalos (composta, diferença e quociente).

A função f é contínua em $x = 0$, se $\lim_{x \rightarrow 0^-} f(x) = \lim_{x \rightarrow 0^+} f(x) = f(0)$.

$$\bullet \quad f(0) = -2$$

$$\bullet \quad \lim_{x \rightarrow 0^-} f(x) = \lim_{x \rightarrow 0^-} \frac{\sin(2x)}{x^2 - x} = \lim_{x \rightarrow 0^-} \frac{\sin(2x)}{x(x-1)} =$$

$$= \lim_{x \rightarrow 0^-} \frac{\sin(2x)}{2x} \times \lim_{x \rightarrow 0^-} \frac{2}{x-1} \stackrel{y=2x}{=} \lim_{y \rightarrow 0^-} \frac{\sin y}{y} \times \frac{2}{-1} = 1 \times (-2) = -2$$

$y = 2x$ e
Se $x \rightarrow 0^-$, $y \rightarrow 0^-$

$$\begin{aligned} \bullet \lim_{x \rightarrow 0^+} f(x) &= \lim_{x \rightarrow 0^+} \frac{1 - e^{2x}}{x} = -2 \lim_{x \rightarrow 0^+} \frac{e^{2x} - 1}{2x} \stackrel{y=2x}{=} \\ &= -2 \lim_{y \rightarrow 0^+} \frac{e^y - 1}{y} = -2 \times 1 = -2 \end{aligned}$$

$$\begin{aligned} y &= 2x \\ \text{Se } x \rightarrow 0^+, y &\rightarrow 0^+ \end{aligned}$$

Logo, a função f é contínua em $x = 0$.

Portanto, a função f é contínua.

6.2. Assíntotas verticais

O gráfico da função f não tem qualquer assíntota vertical, uma vez que f é contínua em \mathbb{R} .

Assíntotas horizontais

$$\bullet \lim_{x \rightarrow -\infty} f(x) = \lim_{x \rightarrow -\infty} \frac{\sin(2x)}{x^2 - x} = \lim_{x \rightarrow -\infty} \frac{1}{x^2 - x} \times \sin(2x) = 0, \text{ pois}$$

$$\lim_{x \rightarrow -\infty} \frac{1}{x^2 - x} = \lim_{x \rightarrow -\infty} \frac{1}{x^2} = \frac{1}{+\infty} = 0 \text{ e a função definida por } \sin(2x) \text{ é limitada}$$

$$(\forall x \in]-\infty, 0[, -1 \leq \sin(2x) \leq 1).$$

Quando $x \rightarrow -\infty$, o gráfico de f admite como assíntota reta de equação $y = 0$

$$\begin{aligned} \bullet \lim_{x \rightarrow +\infty} f(x) &= \lim_{x \rightarrow +\infty} \frac{1 - e^{2x}}{x} = \lim_{x \rightarrow +\infty} \left(\frac{1}{x} - \frac{e^{2x}}{x} \right) = \\ &= \lim_{x \rightarrow +\infty} \frac{1}{x} - 2 \lim_{x \rightarrow +\infty} \frac{e^{2x}}{2x} \stackrel{y=2x}{=} 0 - 2 \lim_{y \rightarrow +\infty} \frac{e^y}{y} = -(+\infty) = -\infty \end{aligned}$$

$$\begin{aligned} y &= 2x \\ \text{Se } x \rightarrow +\infty, y &\rightarrow +\infty \end{aligned}$$

Quando $x \rightarrow +\infty$, o gráfico de f não admite qualquer assíntota horizontal

Portanto, o gráfico de f tem como única assíntota paralela aos eixos coordenados a reta de equação $y = 0$.

6.3. $f(x) = x - 10 \Leftrightarrow f(x) - x + 10 = 0 \Leftrightarrow$

Considerando $g(x) = f(x) - x + 10$, temos de provar que a equação $f(x) - x + 10 = 0$ tem pelo menos uma solução em $]0, 2[$, o que é equivalente a provar que a equação $g(x) = 0$ tem pelo menos uma solução no mesmo intervalo.

Como a função f é contínua em \mathbb{R} e a função definida por $-x + 10$ é contínua em \mathbb{R} , a função g também é contínua em \mathbb{R} e, portanto, contínua em $[1, 2]$.

$$g(1) = f(1) - 1 + 10 = \frac{1 - e^2}{1} + 9 = 10 - e^2 \approx 2,6 > 0$$

$$g(2) = f(2) - 2 + 10 = \frac{1 - e^4}{2} + 8 = \frac{17 - e^4}{2} \approx -18,8 < 0$$

Como $g(2) < 0 < g(1)$, pelo Teorema de Bolzano, podemos concluir que a equação

$g(x) = 0$ tem pelo menos uma solução em $]1, 2[$ ou, de forma equivalente, que a equação

$f(x) = x - 10$ tem pelo menos uma solução no mesmo intervalo, a reta de equação

$y = x - 10$ intersesta o gráfico de f em pelo menos um ponto em $]1, 2[$.

$$7. \quad \lim \left(\frac{3n+1}{3n} \right)^n = \lim \left(1 + \frac{1}{3n} \right)^n = \lim \left(1 + \frac{\frac{1}{3}}{n} \right)^n = e^{\frac{1}{3}}$$

Opção correta: (C)

$$8. \quad A_{[ABC]} = \frac{(x_A - x_B)(y_A - y_C)}{2}$$

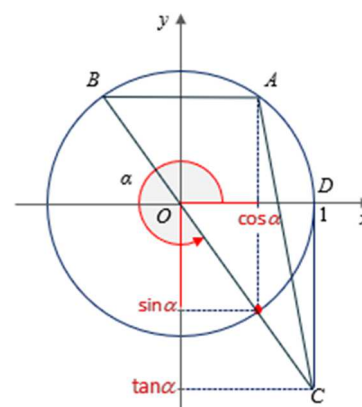
$$A(\cos \alpha, -\sin \alpha)$$

$$B(-\cos \alpha, -\sin \alpha)$$

$$C(1, \tan \alpha)$$

$$\begin{aligned} A_{[ABC]} &= A(\alpha) = \frac{[\cos \alpha - (-\cos \alpha)](-\sin \alpha - \tan \alpha)}{2} = \\ &= \frac{2 \cos \alpha (-\sin \alpha - \tan \alpha)}{2} = \frac{-2 \cos \alpha \sin \alpha - 2 \cos \alpha \tan \alpha}{2} = \\ &= \frac{-\sin(2\alpha) - 2 \sin \alpha}{2} = -\frac{2 \sin \alpha \cos \alpha + 2 \sin \alpha}{2} = \\ &= -\frac{2 \sin \alpha (\cos \alpha + 1)}{2} = -\sin \alpha (\cos \alpha + 1) \end{aligned}$$

Opção correta: (D)



9.

- Se $f'(a) = 0$ e $f''(a) > 0$, então f tem um mínimo relativo em $x = a$, pelo que a afirmação I é falsa.
- Se $f''(x) > 0$ num intervalo, significa que nesse intervalo o gráfico de f tem concavidade voltada para cima, pelo que a função f é crescente se $f'(x) > 0$ e decrescente se $f'(x) < 0$. Logo, a afirmação II é falsa, pois $f''(x) > 0$ não implica necessariamente que a função f seja crescente.
- Se $f'(a) = 0$ e $f''(a) = 0$, nada se pode concluir, pois em $x = a$ pode existir um mínimo relativo, um máximo relativo ou um ponto de inflexão. Por exemplo, se $f(x) = x^3$, então $f'(0) = 0$, $f''(0) = 0$ e em $x = 0$ existe um ponto de inflexão.

Logo, a afirmação III é falsa.

10. Pretende-se resolver graficamente a equação:

$$T(a+1) = 0,93T(a), \text{ com } a \in [0, 1]$$

Fazendo, na calculadora:

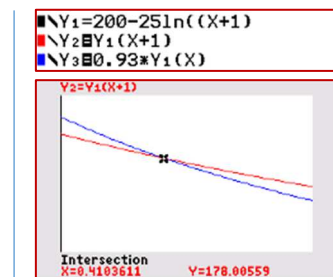
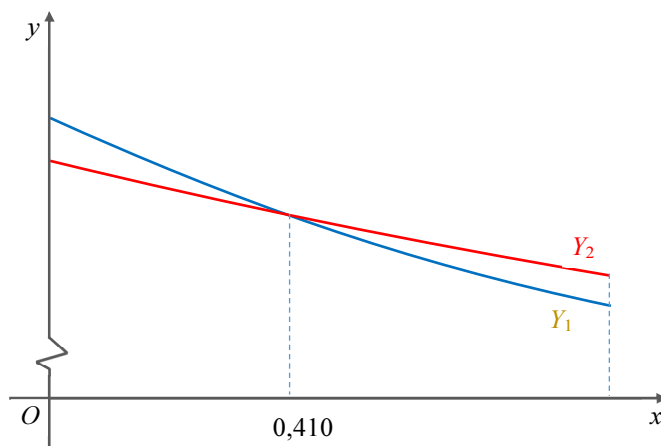
$$Y_1 = T(x) = 200 - 25 \ln(x+1)$$

$$Y_2 = Y_1(x+1)$$

$$Y_3 = 0,93 \times Y_1(x)$$

Determinou-se, no intervalo $[0, 1]$, a abcissa do ponto de interseção dos gráficos de Y_2 e Y_3 .

Obteve-se o seguinte resultado:



$$a \approx 0,410 \text{ min} = 0,410 \times 60 \text{ s} = 24,6 \text{ s}$$

Logo, $a \approx 24,6 \text{ s}$.