





Vamos medir

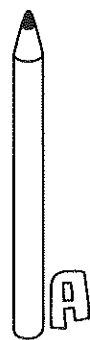
- Imagina que vais medir o comprimento da tua mesa com uma  e com . Qual te parece que vai caber mais vezes? Assinala com **X** a resposta que te parece mais correcta.



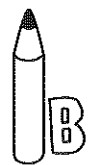
- Agora, prova! Utiliza a  e a  e mede a tua mesa. Afinal, qual coube mais vezes? Assinala com **X** a opção correcta.



- Observa o tamanho dos vários lápis. Responde.




A



B



C



D

– Qual é a letra correspondente ao lápis maior?

– E ao mais pequeno?

- Ordena os lápis por ordem crescente, de acordo com o seu tamanho. Utiliza a letra correspondente a cada um.

_____ < _____ < _____ < _____