









- Observar o bloco de folhas e as moedas que indicam o preço das folhas indicadas. Completar.






1  → 1 escudo → 

5  → 5 escudos → 

10  → \_\_\_ escudos → 

20  → \_\_\_ escudos → 

- Observar, na tabela, as moedas que cada menino gastou em folhas.

<i>gastou</i> →				
PEDRO	x x	x	x	
RITA	x x x	x	x	
SARA				x
JOÃO	x	x	x	

- Completar.

PEDRO →  $1 + 1 + 5 + 10 =$  \_\_\_ escudos.

RITA →  $1 + 1 +$  \_\_\_  $+$  \_\_\_  $+$  \_\_\_  $=$  \_\_\_ escudos.

SARA → \_\_\_ escudos.

JOÃO → \_\_\_  $+$  \_\_\_  $+$  \_\_\_  $=$  \_\_\_ escudos.

- Escrever por ordem crescente as importâncias que os meninos gastaram.

\_\_\_ < \_\_\_ \_\_\_