






## Euros

- A tabela mostra o que a Maria comprou e o valor de cada artigo.

					
20 cêntimos	X				
60 cêntimos			X		
100 cêntimos				X	
50 cêntimos		X			
200 cêntimos					X

- Lê, calcula e responde de acordo com a tabela anterior.
  - Quanto dinheiro gastou a Maria nas suas compras?  
R.: .....
  - Se a Maria tivesse consigo apenas 4 € seriam suficientes para pagar tudo?  
R.: .....
  - Quanto custou a borracha?  
R.: .....
  - Para pagar tudo, entregou uma nota de 10 €. Quanto é que a Maria recebeu de troco?  
R.: .....