

ESTUDO DO MEIO

RUBRICA:

NOME: _____ DATA: ____/____/____

ESCOLA: _____ INFORMAÇÃO: _____

1 – Liga cada função ao seu órgão principal.

Função

respiratória

digestiva

circulatória

excretora

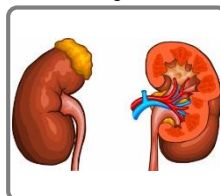
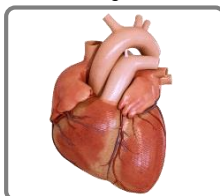
Órgão Principal

coração

estômago

pulmões

rins



2 – Assinala com X, a resposta certa.

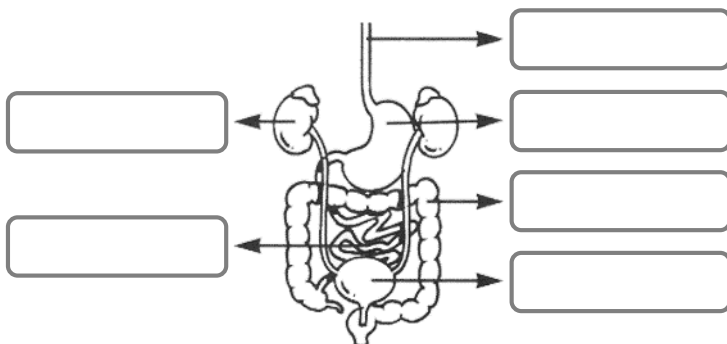
O teu corpo precisa de se alimentar porque os alimentos ...

 são saborosos. te dão energia e saúde. te ajudam a respirar.

3 – Observa o esquema e escreve nas etiquetas o nome dos órgãos que fazem parte do sistema urinário.

3.1 – Os restantes órgãos fazem parte do aparelho...



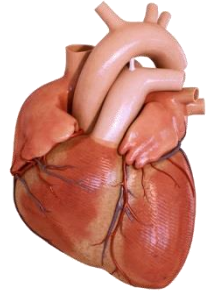


4 – Escreve V (Verdadeiro) ou F (Falso).

- A função digestiva é responsável pela transformação dos alimentos.
- O bolo alimentar forma-se na boca com a ajuda da saliva.
- No estômago, com a ajuda do suco gástrico, os alimentos transformam-se em partículas cada vez maiores.

5 – Observa e completa as frases.

- A gravura representa o _____ que é um órgão do sistema _____.
- O líquido bombeado pelo coração chama-se _____ e é de cor _____.
- Na circulação, o sangue sai do coração pelas _____ e regressa novamente ao coração pelas _____.



6 – Assinala com X.

- Quando corremos ou fazemos esforço...
 - o coração bate com mais força.
 - o coração não bate.
- Podemos saber o número de batimentos cardíacos...
 - contando as pulsações.
 - contando as horas de sono.

7 – A respiração é constituída por dois movimentos distintos : a inspiração e a expiração. Explica a diferença entre cada um deles.

7.1 – Na expiração expulsamos um gás que faz mal à saúde. Esse gás é o ...

- oxigénio vapor de água dióxido de carbono

8 – Todos os seres vivos originam seres semelhantes a si mesmos.


Isto é possível, graças à função _____.

9 – Completa as afirmações utilizando as expressões do quadro.

planeta	estrela	Sol	Lua
---------	---------	-----	-----

- a) O Sol é uma _____.
- b) A Terra é um _____.
- c) A Lua é um _____.
- d) A estrela que está mais próxima da Terra e nos dá luz e calor chama-se _____.
- e) O planeta que gira à volta da Terra chama-se _____.
- f) A Lua brilha porque é iluminada pela luz do _____.

10 – Escreve as afirmações corretas, eliminando as palavras erradas.



O número de oscilações dos pêndulos num determinado período de tempo *mantém-se/não se mantém*.

Um pêndulo mais comprido oscila *menos/mais* vezes que um pêndulo mais curto.

11 – Liga as indústrias às matérias-primas que utilizam e aos produtos que fabricam.

Indústrias	Matérias-primas	Produtos fabricados
têxtil ●	● frutas... ●	● Latas de conserva de peixe, compotas
laticínios ●	● peixes, frutas... ●	● louças...
conservas ●	● argila... ●	● sumos...
cerâmica ●	● leite ●	● queijo, iogurtes...
mobiliário ●	● lã, linho, algodão... ●	● móveis
bebidas ●	● madeira, resina... ●	● fios e tecidos