


Nome: \_\_\_\_\_ Data: \_\_\_\_\_

1. Preenche os espaços.



2. Com os números seguintes completa a subtracção.

454      354      268      267

□ - □ = 87

3. Efectua as operações.

Completa com os nomes das parcelas.

$751 - 263 = \underline{\hspace{2cm}}$

$946 - 538 = \underline{\hspace{2cm}}$

|       |       |
|-------|-------|
| 751   | _____ |
| - 263 | _____ |
|       | _____ |
|       | _____ |


|       |       |
|-------|-------|
| 946   | _____ |
| - 538 | _____ |
|       | _____ |
|       | _____ |

4. Traça setas a ligar os números. Tem em atenção o valor da seta de cada exercício.

**→ - 150**

**→ - 185**

5. Com o teu compasso cobre as linhas das circunferências.



5.1 Traça um raio na circunferência maior.

5.2 Traça um diâmetro numa das circunferências menores.

6. Copia os números para cada uma das operações.

2500 10 25 250

×  =

3500 27 35 100

÷  =

357 35 700 200 100

×  =

9750 975 10 9700

÷  =




- 10.** Para se preparar para um exame, o Pedro vai ter de ler um livro com 120 páginas numa semana. Observa e completa a tabela.

|               | Lê por dia | Faltam ainda ler  |
|---------------|------------|---|
| Domingo       | 20         | $120 - 20 = 100$  |
| Segunda-feira | 12         | $100 - \underline{\quad} = \underline{\quad}$               |
| Terça-feira   | 18         | $\underline{\quad} - \underline{\quad} = \underline{\quad}$ |
| Quarta-feira  | 15         | $\underline{\quad} - \underline{\quad} = \underline{\quad}$ |
| Quinta-feira  | 10         | $\underline{\quad} - \underline{\quad} = \underline{\quad}$ |
| Sexta-feira   | 16         | $\underline{\quad} - \underline{\quad} = \underline{\quad}$ |
| Sábado        | 29         | $\underline{\quad} - \underline{\quad} = \underline{\quad}$ |

Conseguiu ler as 120 páginas numa semana?

R.: \_\_\_\_\_

- 11.** Um pescador pescou 325 peixes. Vendeu 238. Quantos peixes ainda tem por vender?



R.: \_\_\_\_\_

- 11.1** Sabendo que vendeu 38 peixes por 152 €, 100 peixes a 3 € cada e 100 peixes a 2 € cada, quanto apurou com a venda dos 238 peixes?

R.: \_\_\_\_\_