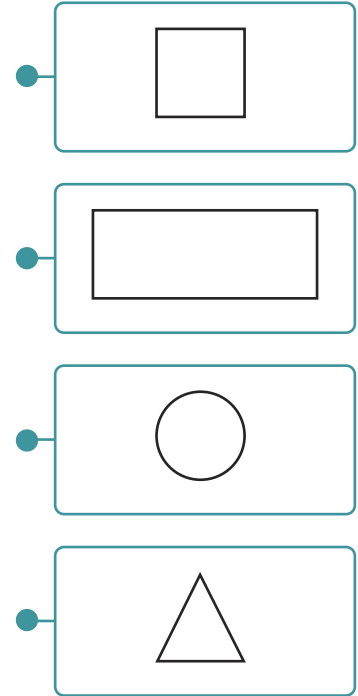



Nome: _____

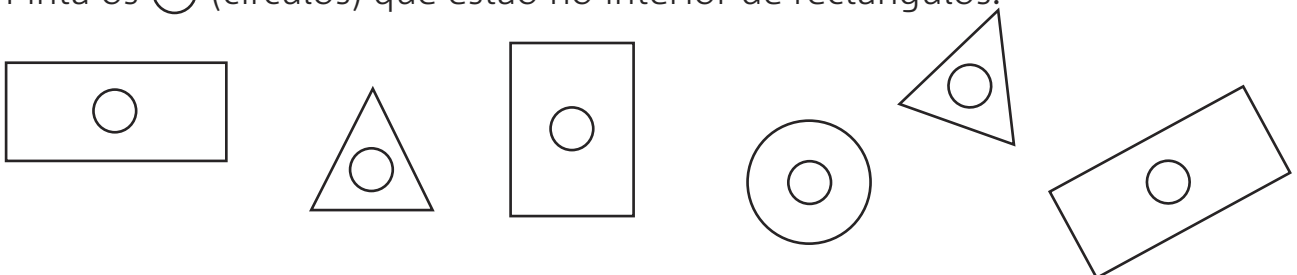
Data: _____

1. Liga cada sólido às superfícies que nele se encontram.



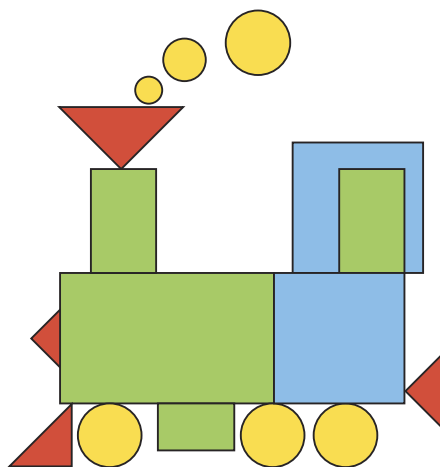

2. Assinala na tabela as superfícies de cada sólido geométrico.

3. Pinta os ○ (círculos) que estão no interior de rectângulos.



● Quantos (rectângulos) encontraste?

4. Conta as figuras com a mesma forma e regista as quantidades.



A

B

● Assinala com **X** as opções que tornam as frases verdadeiras.

A figura que tem mais \triangle é a figura
 ↗ A
 ↘ B

A figura que tem mais \bigcirc é a figura
 ↗ A
 ↘ B

A figura que tem mais \square é a figura
 ↗ A
 ↘ B

2. Completa o padrão.
