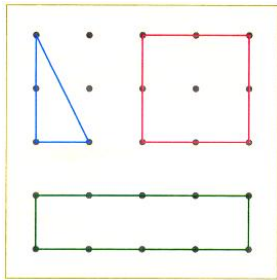


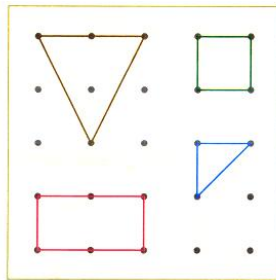


O Rui, o Ivo e o Paulo estão a representar figuras geométricas no geoplano.

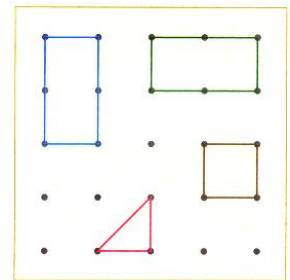
Os geoplanos seguintes pertencem aos três amigos.



A



B



C

Atendendo às seguintes pistas, diz a quem pertence cada um dos geoplanos.

- Pistas:**
- O Paulo representou dois triângulos, um quadrado e um retângulo.
  - O Ivo representou dois retângulos, um quadrado e um triângulo.
  - O Rui representou um quadrado, um retângulo e um triângulo.

A - \_\_\_\_\_ B - \_\_\_\_\_ C - \_\_\_\_\_

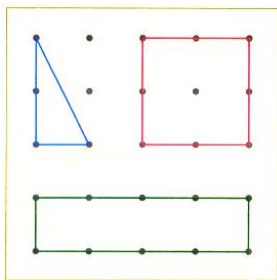
Nome: \_\_\_\_\_ Ano: \_\_\_\_\_ Turma: \_\_\_\_\_

Escola: \_\_\_\_\_ Data: \_\_\_\_\_ Pontuação: \_\_\_\_\_

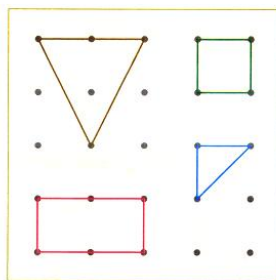


O Rui, o Ivo e o Paulo estão a representar figuras geométricas no geoplano.

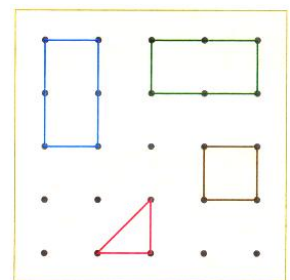
Os geoplanos seguintes pertencem aos três amigos.



A



B



C

Atendendo às seguintes pistas, diz a quem pertence cada um dos geoplanos.

- Pistas:**
- O Paulo representou dois triângulos, um quadrado e um retângulo.
  - O Ivo representou dois retângulos, um quadrado e um triângulo.
  - O Rui representou um quadrado, um retângulo e um triângulo.

A - \_\_\_\_\_ B - \_\_\_\_\_ C - \_\_\_\_\_

Nome: \_\_\_\_\_ Ano: \_\_\_\_\_ Turma: \_\_\_\_\_

Escola: \_\_\_\_\_ Data: \_\_\_\_\_ Pontuação: \_\_\_\_\_