

Cotações																
	1.ª Parte					2.ª Parte										
Questões	1.	2.	3.	4.	5.	1.1. a)	1.1. b)	1.2.	2.	3.1.	3.2.	3.3.	4.1.	4.2.	5.1.	5.2.
Cotações	8	8	8	8	8	12	12	20	20	10	12	20	12	15	12	15

1.ª Parte

1. $A(x, y, z)$ tal que $x < 0 \wedge y < 0 \wedge z > 0 \wedge x^2 + (y+1)^2 + z^2 \leq 4$.

Opção (D)

2. $\vec{u}(3, -8, 1)$, $A(3, 0, -6)$ e $B(x, y, z)$

$$\overrightarrow{AB} = B - A = (x-3, y, z+6)$$

$$\vec{u} = \overrightarrow{AB} \Leftrightarrow \begin{cases} x-3=3 \\ y=-8 \\ z+6=1 \end{cases} \Leftrightarrow \begin{cases} x=6 \\ y=-8 \\ z=-5 \end{cases}$$

O ponto B tem coordenadas $(6, -8, -5)$.

Opção (C)

3. Uma equação da reta $r: x = -2$

O ponto $P(3k-4, 8k+2)$ pertence à reta r se e só se $3k-4 = -2$, ou seja, $k = \frac{2}{3}$.

Opção (D)

$$4. f(x) = -10 \Leftrightarrow \frac{1-3x}{2} = -10 \Leftrightarrow x = 7$$

$$f^{-1}(-10) = 7$$

Opção (A)

$$5. f(x) = (2+k)x - 5$$

A função f é decrescente se e só se $2+k < 0$, ou seja, $k < -2$.

Opção (B)

2.ª Parte

1.1. a) $A\left(\frac{1}{2}, 3\right)$

O ponto A pertence à reta r se e só se existe $k \in \mathbb{R}$ tal que:

$$\begin{cases} \frac{1}{2} = -1 + 3k \\ 3 = 5 - 4k \end{cases} \Leftrightarrow \begin{cases} k = \frac{1}{2} \\ k = \frac{1}{2} \end{cases}$$

Como existe $k = \frac{1}{2}$, conclui-se que A pertence à reta r .

1.1. b) Das equações paramétricas da reta r identifica-se o vetor $\vec{v}(3, -4)$ como sendo um vetor diretor da reta r . O declive da reta r é igual a $-\frac{4}{3}$.

A reta s pode ser representada pela seguinte equação na forma reduzida: $y = -\frac{4}{3}x + 8$, sendo o declive $-\frac{4}{3}$. Como as retas r e s têm igual declive, conclui-se que são paralelas.

1.2. $s: y = -\frac{4}{3}x + 8$

A interseção da reta s com o eixo Ox é o ponto $A(x, 0)$ tal que $0 = -\frac{4}{3}x + 8$, ou seja, $x = 6$.

Assim, tem-se $A(6, 0)$.

A interseção da reta s com o eixo Oy é o ponto $B(0, y)$, sendo y a ordenada na origem da reta s , ou seja, 8. Assim, tem-se $B(0, 8)$.

O perímetro do triângulo $[OBC]$ é dado por: $\overline{OB} + \overline{OA} + \overline{AB}$.

$$\overline{OB} = 8, \overline{OA} = 6 \text{ e } \overline{AB} = \sqrt{(6-0)^2 + (0-8)^2} = \sqrt{36+64} = 10$$

Assim, tem-se $\overline{OB} + \overline{OA} + \overline{AB} = 8 + 6 + 10 = 24$.

O perímetro do triângulo $[OBC]$ é igual a 24 (unidades de comprimento).

2. Uma equação vetorial da reta r :

$$(x, y, z) = (-2, 3, -1) + k(-1, 2, 3), k \in \mathbb{R}$$

O ponto P tem coordenadas $(x, y, 2)$ e pertence à reta r .

Assim, tem-se:

$$(x, y, 2) = (-2, 3, -1) + k(-1, 2, 3), k \in \mathbb{R}$$

Daqui resulta que:

$$\begin{cases} x = -2 - k \\ y = 3 + 2k \\ 2 = -3k \end{cases} \Leftrightarrow \begin{cases} x = -2 + \frac{2}{3} \\ y = 3 - \frac{4}{3} \\ k = -\frac{2}{3} \end{cases} \Leftrightarrow \begin{cases} x = -\frac{4}{3} \\ y = \frac{5}{3} \\ k = -\frac{2}{3} \end{cases}$$

O ponto P tem coordenadas $\left(-\frac{4}{3}, \frac{5}{3}, 2\right)$.

3.1. $D'_f = \{f(-1), f(0), f(1), f(2), f(3)\}$

$$f(-1) = 2, f(0) = 0, f(1) = 3, f(2) = 2, f(3) = 6$$

$$D'_f = \{0, 2, 3, 6\}$$

3.2. A proposição $\forall x_1, x_2 \in A, x_1 \neq x_2 \Rightarrow f(x_1) \neq f(x_2)$ é falsa.

Basta observar que a função f é não injetiva. Pois, $-1 \neq 2$ e $f(-1) = f(2) = 2$.

3.3. $g(x) = -\frac{2x}{3} + 2$

A reta r pode ser definida pela equação $y = -\frac{2x}{3} + 2$.

O ponto A tem coordenadas $(x, 0)$ e $0 = -\frac{2x}{3} + 2$, ou seja, $x = 3$. Assim, o ponto A tem coordenadas $(3, 0)$. O ponto B tem coordenadas $(0, 2)$, atendendo a que 2 é a ordenada na origem da equação reduzida da reta r .

O ponto C , centro da circunferência, é o ponto médio de $[AB]$. Assim, tem-se $C\left(\frac{3+0}{2}, \frac{0+2}{2}\right)$, ou seja, $C\left(\frac{3}{2}, 1\right)$.

O raio da circunferência é igual a $\frac{\overline{AB}}{2}$. Como $\overline{AB} = \sqrt{(3-0)^2 + (0-2)^2} = \sqrt{13}$, o raio é igual $\frac{\sqrt{13}}{2}$.

A região colorida representada na figura pode ser definida pela condição:

$$y \geq -\frac{2x}{3} + 2 \wedge \left(x - \frac{3}{2}\right)^2 + (y - 1)^2 \leq \frac{13}{4}$$

4. $f(x) = 3x - 1$ e $g(x) = \frac{x}{2} + 1$

4.1. $f \circ g(4) = f(g(4)) = f(3) = 8$

Assim, tem-se: $f \circ g(4) = 8$.

4.2. $A = \{x: f(x) > 0\}$ e $B = \{x: g(x) \leq 0\}$.

$$f(x) > 0 \Leftrightarrow 3x - 1 > 0 \Leftrightarrow x > \frac{1}{3} \qquad A = \left] \frac{1}{3}, +\infty \right[$$

$$g(x) \leq 0 \Leftrightarrow \frac{x}{2} + 1 \leq 0 \Leftrightarrow x + 2 \leq 0 \Leftrightarrow x \leq -2 \qquad B =]-\infty, -2]$$

Então, $A \cup B =]-\infty, -2] \cup \left] \frac{1}{3}, +\infty \right[$. Daqui resulta que $\overline{A \cup B} = \left] -2, \frac{1}{3} \right]$.

5.1. $V(0, x, 2x+1)$

Sendo a pirâmide quadrangular regular, a projeção ortogonal do vértice V sobre o plano xOy é o ponto de coordenadas $(0, x, 0)$, centro do quadrado $[ABCD]$.

Coordenadas dos vértices da base da pirâmide:

$$A(x, 0, 0), B(x, 2x, 0), C(-x, 2x, 0) \text{ e } D(-x, 0, 0)$$

5.2. Área da base da pirâmide, em função de x , é dada por $(2x)^2$, ou seja, $4x^2$.

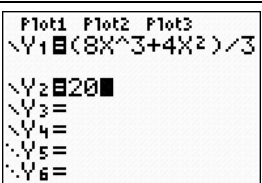
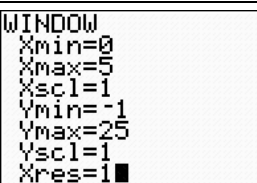
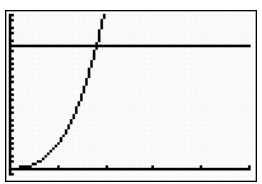
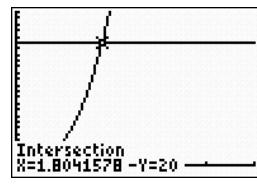
Altura da pirâmide, em função de x , é igual à cota do vértice V , ou seja, $2x+1$.

Volume da pirâmide, em função de x , é igual a $\frac{1}{3} \times (4x^2)(2x+1)$, ou seja, $\frac{8x^3 + 4x^2}{3}$.

Pretende-se determinar x , de modo que $\frac{8x^3 + 4x^2}{3} = 20$.

Recorrendo à calculadora, pode-se obter o valor pretendido procedendo tal como é sugerido a seguir.

Resolver graficamente a equação $\frac{8x^3 + 4x^2}{3} = 20$.

<p>1. Definir funções.</p>		<p>2. Escolher a janela de visualização adequada.</p>	
<p>3. Visualizar as representações gráficas.</p>		<p>4. Identificar o ponto de interseção dos gráficos e obter respetivas coordenadas.</p>	

O valor de x arredondado às décimas é 1,8.

Assim, as coordenadas do vértice V são $(0; 1,8; 4,6)$.

Nota: a ordenada e a cota são valores não exatos.

FIM