

**Proposta de teste de avaliação**

**Matemática A**

**12.º ANO DE ESCOLARIDADE**

---

**Duração:** 90 minutos | **Data:**

---

## Caderno 1

(é permitido o uso de calculadora)

Na resposta aos itens de escolha múltipla, selecione a opção correta. Escreva, na folha de respostas, o número do item e a letra que identifica a opção escolhida.

Na resposta aos restantes itens, apresente todos os cálculos que tiver de efetuar e todas as justificações necessárias. Quando, para um resultado, não é pedida a aproximação, apresente sempre o valor exato.

1. Um saco contém treze bolas sendo nove brancas, numeradas de 1 a 9, e quatro pretas iguais entre si. As bolas apenas se distinguem pelo número e pela cor.

1.1. Tiram-se, ao acaso, sucessivamente e sem reposição, duas bolas do saco.

Qual é a probabilidade de a segunda bola extraída ter um número par sabendo que a primeira bola extraída foi preta?

- (A)  $\frac{4}{13}$       (B)  $\frac{1}{3}$       (C)  $\frac{5}{12}$       (D)  $\frac{4}{9}$

1.2. Suponha agora que as treze bolas vão ser colocadas numa fila, encostadas umas às outras, da esquerda para a direita.

Quantas filas diferentes é possível formar de modo que as bolas com número ímpar fiquem no início da fila?

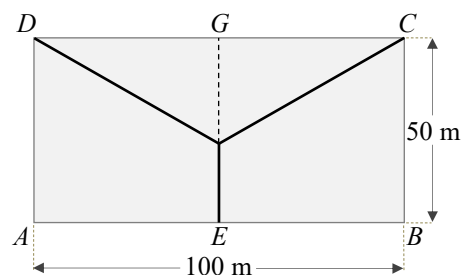
- (A) 201 600      (B) 4 838 400      (C) 8400      (D) 8640

2. Seja  $h$  uma função real de variável real, contínua, de domínio  $[-1, 1]$ .

Pode afirmar-se que:

- (A) A função  $h$  tem mínimo.  
(B) A função  $h$  tem pelo menos um zero.  
(C)  $h(1)$  é o máximo da função  $h$ .  
(D) O gráfico da função  $h$  pode ter uma assíntota.

3. Através da colocação de uma rede, pretende-se dividir em três partes um terreno agrícola retangular como é sugerido no esquema da figura ao lado:



O retângulo  $[ABCD]$  representa o terreno e a linha formada pelos segmentos de reta  $[EF]$ ,  $[FD]$  e  $[FC]$  representa a rede.

Sabe-se que:

- o ponto  $E$  é o ponto médio de  $[AB]$ ;
  - o ponto  $G$  é o ponto médio de  $[DC]$ ;
  - o ponto  $F$  é um ponto móvel que pertence a  $[EG]$ ;
  - $x$  é a amplitude, em radianos, do ângulo  $FDG$ , com  $0 \leq x \leq \frac{\pi}{4}$ ;
  - os lados representados por  $[AB]$  e  $[BC]$  medem, respetivamente, 100 m e 50 m.
- 3.1. Mostre que o comprimento,  $L$ , em metros, da rede pode ser dado, em função de  $x$ , por
- $$L(x) = 50 + \frac{50(2 - \sin x)}{\cos x}$$
- 3.2. Sabendo que  $0 \leq \alpha \leq \frac{\pi}{4}$  e  $\tan \alpha = \frac{5}{12}$ , mostre que para  $x = \alpha$  o comprimento da rede é igual a 137,5 m.
- 3.3. Determine o comprimento da rede se o campo ficar dividido em três partes com a mesma área. Apresente o resultado em metros arredondado às décimas.
- 3.4. Mostre que a função derivada de  $L$  é dada por  $L'(x) = \frac{50(2 \sin x - 1)}{\cos^2 x}$ .
- 3.5. Determine o valor de  $x$  para o qual o comprimento da rede é mínimo.

Fim do Caderno 1

COTAÇÕES (Caderno 1)

Item								
Cotação (em pontos)								
1.1.	1.2.	2.	3.1.	3.2.	3.3.	3.4.	3.5.	
10	10	10	14	14	14	14	14	100

## Caderno 2

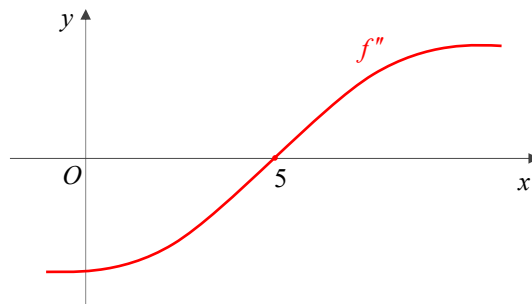
(não é permitido o uso de calculadora)

Na resposta aos itens de escolha múltipla, selecione a opção correta. Escreva, na folha de respostas, o número do item e a letra que identificam a opção escolhida.

4. Considere a função  $g$ , de domínio  $]-\infty, \pi]$ , definida por

$$g(x) = \begin{cases} x + \sqrt{4-x} & \text{se } x \leq 0 \\ \frac{\sin(4x)}{x + \sin x} & \text{se } 0 < x \leq \pi \end{cases}$$

- 4.1. Mostre que a função  $g$  é contínua no ponto  $x = 0$ .
- 4.2. Estude a função  $g$  quanto à existência de assíntotas ao seu gráfico.
5. Na figura está representada, num referencial o.n.  $xOy$ , parte do gráfico de  $f''$ , segunda derivada de uma função  $f$ , de domínio  $\mathbb{R}$ .



Qual das afirmações seguintes é **falsa**?

- (A) O ponto do gráfico da função  $f$  com abcissa 5 é um ponto de inflexão.
- (B)  $f'(0) > f'(5)$  ( $f'$  é a primeira derivada de  $f$ ).
- (C) O gráfico da função  $f$  tem a concavidade voltada para baixo em  $[0, 5]$ .
- (D) A reta tangente ao gráfico da função  $f$  no ponto de abcissa 5 é, entre todas as retas tangentes ao gráfico, a que tem declive máximo.

6. Seja  $f$  a função, de domínio  $[0, \pi]$ , definida por  $f(x) = x \sin(2x) + \cos(2x)$  e seja  $r$  a reta tangente ao gráfico de  $f$  no ponto de abcissa  $\frac{\pi}{4}$ .

6.1. Mostre que a reta  $r$  é paralela à bissetriz dos quadrantes pares.

6.2. Qual dos pontos cujas coordenadas a seguir se indicam pertence à reta  $r$ ?

(A)  $A\left(\frac{\pi}{2}, \frac{\pi}{4}\right)$                       (B)  $B\left(\frac{\pi}{4}, \frac{\pi}{2}\right)$

(C)  $C\left(0, \frac{\pi}{2}\right)$                       (D)  $D\left(\frac{\pi}{2}, \frac{\pi}{2}\right)$

6.3. Mostre que  $f''$ , segunda derivada de  $f$ , é definida por  $f''(x) = -4x \sin(2x)$ .

6.4. Estude a função  $f$  quanto ao sentido das concavidades do seu gráfico e quanto à existência de pontos de inflexão.

7. Um ponto  $P$  desloca-se numa reta numérica durante um intervalo de tempo  $I$ , de tal forma que a respetiva abcissa é dada por  $x(t) = 2 \sin\left(\frac{\pi}{3} - \pi t\right)$ , com  $t \in I$ .

Qual é o ângulo de **fase** deste oscilador harmónico?

(A)  $\frac{\pi}{3}$                       (B)  $-\pi$                       (C)  $2$                       (D)  $\frac{\pi}{6}$

**Fim da prova**

**COTAÇÕES (Caderno 2)**

Item								
Cotação (em pontos)								
4.1.	4.2.	5.	6.1.	6.2.	6.3.	6.4.	7.	
14	14	10	14	10	14	14	10	<b>100</b>
TOTAL (Caderno 1 + Caderno 2)								<b>200</b>

## Anexo

## Formulário

## Geometria

Comprimento de um arco de circunferência:

 $\alpha r$  ( $\alpha$  – amplitude, em radianos, do ângulo ao centro;  $r$  – raio)Área de um polígono regular: *Semiperímetro*  $\times$  *Apótema*

Área de um sector circular:

 $\frac{\alpha r^2}{2}$  ( $\alpha$  – amplitude, em radianos, do ângulo ao centro;  $r$  – raio)Área lateral de um cone:  $\pi r g$  ( $r$  – raio da base;  $g$  – geratriz)Área de uma superfície esférica:  $4\pi r^2$  ( $r$  – raio)Volume de uma pirâmide:  $\frac{1}{3} \times$  *Área da base*  $\times$  *Altura*Volume de um cone:  $\frac{1}{3} \times$  *Área da base*  $\times$  *Altura*Volume de uma esfera:  $\frac{4}{3}\pi r^3$  ( $r$  – raio)

## Progressões

Soma dos  $n$  primeiros termos de uma progressão  $(u_n)$ :Progressão aritmética:  $\frac{u_1 + u_n}{2} \times n$ Progressão geométrica:  $u_1 \times \frac{1 - r^n}{1 - r}$ 

## Trigonometria

 $\sin(a + b) = \sin a \cos b + \sin b \cos a$  $\cos(a + b) = \cos a \cos b - \sin a \sin b$  $\frac{\sin A}{a} = \frac{\sin B}{b} = \frac{\sin C}{c}$  $a^2 = b^2 + c^2 - 2bc \cos A$ 

## Complexos

 $(\rho \operatorname{cis} \theta)^n = \rho^n \operatorname{cis}(n\theta)$  ou  $(\rho e^{i\theta})^n = \rho^n e^{in\theta}$  $\sqrt[n]{\rho \operatorname{cis} \theta} = \sqrt[n]{\rho} \operatorname{cis}\left(\frac{\theta + 2k\pi}{n}\right)$  ou  $\sqrt[n]{\rho} e^{i\theta} = \sqrt[n]{\rho} e^{i\frac{\theta + 2k\pi}{n}}$  $(k \in \{0, \dots, n-1\}$  e  $n \in \mathbb{N})$ 

## Probabilidades

 $\mu = p_1 x_1 + \dots + p_n x_n$  $\sigma = \sqrt{p_1 (x_1 - \mu)^2 + \dots + p_n (x_n - \mu)^2}$ Se  $X$  é  $N(\mu, \sigma)$ , então: $P(\mu - \sigma < X < \mu + \sigma) \approx 0,6827$  $P(\mu - 2\sigma < X < \mu + 2\sigma) \approx 0,9545$  $P(\mu - 3\sigma < X < \mu + 3\sigma) \approx 0,9973$ 

## Regras de derivação

 $(u + v)' = u' + v'$  $(uv)' = u'v + uv'$  $\left(\frac{u}{v}\right)' = \frac{u'v - uv'}{v^2}$  $(u^n)' = n u^{n-1} u'$  ( $n \in \mathbb{R}$ ) $(\sin u)' = u' \cos u$  $(\cos u)' = -u' \sin u$  $(\operatorname{tg} u)' = \frac{u'}{\cos^2 u}$  $(e^u)' = u' e^u$  $(a^u)' = u' a^u \ln a$  ( $a \in \mathbb{R}^+ \setminus \{1\}$ ) $(\ln u)' = \frac{u'}{u}$  $(\log_a u)' = \frac{u'}{u \ln a}$  ( $a \in \mathbb{R}^+ \setminus \{1\}$ )

## Limites notáveis

 $\lim \left(1 + \frac{1}{n}\right)^n = e$  ( $n \in \mathbb{N}$ ) $\lim_{x \rightarrow 0} \frac{\sin x}{x} = 1$  $\lim_{x \rightarrow 0} \frac{e^x - 1}{x} = 1$  $\lim_{x \rightarrow +\infty} \frac{\ln x}{x} = 0$  $\lim_{x \rightarrow +\infty} \frac{e^x}{x^p} = +\infty$  ( $p \in \mathbb{R}$ )

Proposta de resolução

Caderno 1

1. Bolas brancas: 9



Bolas pretas: 4



1.1. Se a primeira bola extraída foi preta, ficaram no saco 12 bolas entre as quais quatro são numeradas com número par (2, 4, 6 e 8).

Logo, a probabilidade pedida é igual a  $\frac{4}{12} = \frac{1}{3}$ .

**Resposta: (B)**

1.2. As cinco bolas com número ímpar podem ser ordenadas, no início da fila, de 5! maneiras diferentes. Os lugares para as quatro bolas com números pares podem ser escolhidos, nos restantes oito lugares da fila, de  ${}^8A_4$  maneiras diferentes.

As quatro bolas pretas, por serem iguais entre si, ocuparão os restantes quatro lugares de forma única.

Portanto, é possível formar  $5! \times {}^8A_4 = 201\,600$  filas diferentes.

Em alternativa, poderíamos considerar:

$$5! \times \frac{8!}{4!} = 201\,600$$

↳ Número de maneiras de ordenar 8 bolas entre as quais há 4 iguais

**Resposta: (A)**

2. Sendo  $h$  uma função real de variável real contínua em  $[-1, 1]$  então  $h$  admite máximo e mínimo absolutos (teorema de Weierstrass). Logo, a função  $h$  tem mínimo.

**Resposta: (A)**

3. 3.1.  $\frac{\overline{FG}}{\overline{DG}} = \tan x \Leftrightarrow \frac{\overline{FG}}{50} = \tan x \Leftrightarrow \overline{FG} = 50 \tan x$

$$\frac{\overline{DG}}{\overline{DF}} = \cos x \Leftrightarrow \frac{50}{\overline{DF}} = \cos x \Leftrightarrow \overline{DF} = \frac{50}{\cos x}$$

$$\overline{EF} = 50 - \overline{FG} = 50 - 50 \tan x$$

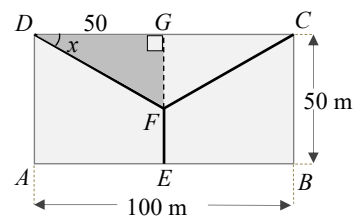
$$L = \overline{EF} + \overline{DF} + \overline{FC} = \overline{EF} + 2\overline{DF}$$

$$L(x) = 50 - 50 \tan x + 2 \times \frac{50}{\cos x}$$

$$L(x) = 50 - \frac{50 \sin x}{\cos x} + \frac{100}{\cos x}$$

$$L(x) = 50 + \frac{100 - 50 \sin x}{\cos x}$$

$$L(x) = 50 + \frac{50(2 - \sin x)}{\cos x}$$



Proposta de teste de avaliação

3.2.  $0 \leq \alpha \leq \frac{\pi}{4}$  e  $\tan \alpha = \frac{5}{12}$

$$1 + \tan^2 \alpha = \frac{1}{\cos^2 \alpha}$$

$$1 + \left(\frac{5}{12}\right)^2 = \frac{1}{\cos^2 \alpha} \Leftrightarrow 1 + \frac{25}{144} = \frac{1}{\cos^2 \alpha} \Leftrightarrow \frac{144 + 25}{144} = \frac{1}{\cos^2 \alpha} \Leftrightarrow$$

$$\Leftrightarrow \frac{169}{144} = \frac{1}{\cos^2 \alpha} \Leftrightarrow \cos^2 \alpha = \frac{144}{169} \Leftrightarrow \cos \alpha = \pm \sqrt{\frac{144}{169}}$$

Como  $0 \leq \alpha \leq \frac{\pi}{4}$ ,  $\cos \alpha = \frac{12}{13}$ .

$$\tan \alpha = \frac{5}{12} \Leftrightarrow \frac{\sin \alpha}{\cos \alpha} = \frac{5}{12} \Leftrightarrow \sin \alpha = \cos \alpha \times \frac{5}{12}$$

$$\sin \alpha = \frac{12}{13} \times \frac{5}{12} = \frac{5}{13}$$

$$L(\alpha) = 50 + \frac{50(2 - \sin \alpha)}{\cos \alpha} = 50 + \frac{50\left(2 - \frac{5}{13}\right)}{\frac{12}{13}} =$$

$$= 50 + \frac{13}{12} \times 50 \times \frac{21}{13} = 50 + \frac{50 \times 7}{4} = 137,5$$

$$L(\alpha) = 137,5 \text{ m}$$

3.3. Área do terreno =  $100 \times 50 \text{ m}^2 = 5000 \text{ m}^2$

Como os trapézios  $[AEFD]$  e  $[EBCF]$  têm áreas iguais, para que o campo fique dividido em três partes com a mesma área basta que a área do triângulo  $[DFC]$  seja igual à terça parte da área total.

$$\text{Área}_{[DFC]} = \frac{\overline{DC} \times \overline{FG}}{2} = \frac{100 \times 50 \tan x}{2} = 2500 \tan x$$

$$\text{Área}_{[DFC]} = \frac{5000}{3} \Leftrightarrow 2500 \tan x = \frac{5000}{3} \Leftrightarrow \tan x = \frac{2}{3}$$

Como  $0 \leq x \leq \frac{\pi}{4}$ ,  $\tan x = \frac{2}{3} \Leftrightarrow x = \arctan\left(\frac{2}{3}\right)$

$$\arctan \frac{2}{3} \approx 0,588 \text{ rad}$$

$$L(0,588) = 50 + \frac{50(2 - \sin 0,588)}{\cos 0,588} \approx 136,9$$

O comprimento da rede é aproximadamente igual a 136,9 metros.



$$\begin{aligned}
 3.4. \quad L'(x) &= 50' + 50 \left( \frac{2 - \sin x}{\cos x} \right)' = 0 + 50 \times \frac{(2 - \sin x)' \cos x - (2 - \sin x)(\cos x)'}{\cos^2 x} = \\
 &= 50 \times \frac{-\cos x \cos x - (2 - \sin x)(-\sin x)}{\cos^2 x} = 50 \times \frac{-\cos^2 x + (2 - \sin x) \sin x}{\cos^2 x} = \\
 &= 50 \times \frac{-\cos^2 x - \sin^2 x + 2 \sin x}{\cos^2 x} = 50 \times \frac{-1 + 2 \sin x}{\cos^2 x} \\
 L'(x) &= \frac{50(2 \sin x - 1)}{\cos^2 x}
 \end{aligned}$$

$$\begin{aligned}
 3.5. \quad L'(x) = 0 &\Leftrightarrow \frac{50(2 \sin x - 1)}{\cos^2 x} = 0 \wedge 0 \leq x \leq \frac{\pi}{4} \Leftrightarrow \\
 &\Leftrightarrow 2 \sin x - 1 = 0 \wedge \cos^2 x \neq 0 \wedge 0 \leq x \leq \frac{\pi}{4} \Leftrightarrow \\
 &\Leftrightarrow \sin x = \frac{1}{2} \wedge 0 \leq x \leq \frac{\pi}{4} \Leftrightarrow x = \frac{\pi}{6}
 \end{aligned}$$

O sinal de  $L'(x)$  depende apenas do sinal de  $2 \sin x - 1$ .

$x$	0		$\frac{\pi}{6}$		$\frac{\pi}{4}$
$L'$	-	-	0	+	+
$L$		↘		↗	

Mín.

O comprimento da rede é mínimo para  $x = \frac{\pi}{6}$  rad.

### Caderno 2

4. 4.1.  $g$  é contínua em  $x = 0$  se existir  $\lim_{x \rightarrow 0} g(x)$ .

$$\lim_{x \rightarrow 0^-} g(x) = \lim_{x \rightarrow 0^-} (x + \sqrt{4 - x}) = 0 + \sqrt{4 - 0} = 2$$

$$\lim_{x \rightarrow 0^+} g(x) = \lim_{x \rightarrow 0^+} \frac{\sin(4x)}{x + \sin x} \stackrel{\left(\frac{0}{0}\right)}{=} \lim_{x \rightarrow 0^+} \frac{\sin(4x)}{x} = \lim_{x \rightarrow 0^+} \frac{4 \sin(4x)}{1 + \frac{\sin x}{x}} =$$

$$= \frac{4 \lim_{x \rightarrow 0^+} \frac{\sin(4x)}{4x}}{1 + \lim_{x \rightarrow 0^+} \frac{\sin x}{x}} = \frac{4 \lim_{y \rightarrow 0^+} \frac{\sin y}{y}}{1 + 1} = \frac{4 \times 1}{2} = 2$$

$$\left. \begin{array}{l} y = 4x \\ \text{Se } x \rightarrow 0^+, y \rightarrow 0^+ \end{array} \right\}$$

$$g(0) = 0 + \sqrt{4 - 0} = 2$$

Como  $\lim_{x \rightarrow 0^-} g(x) = \lim_{x \rightarrow 0^+} g(x) = g(0)$ , existe  $\lim_{x \rightarrow 0} g(x)$ .

Logo, a função  $g$  é contínua no ponto  $x = 0$ .

**Proposta de teste de avaliação**

4.2. Como  $g$  é contínua em  $]-\infty, 0]$ , o seu gráfico não tem assíntotas verticais.

Seja  $y = mx + b$  a assíntota quando  $x \rightarrow -\infty$ , se existir.

$$m = \lim_{x \rightarrow -\infty} \frac{g(x)}{x} = \lim_{x \rightarrow -\infty} \frac{x + \sqrt{4-x}}{x} \stackrel{(\infty)}{=} \lim_{x \rightarrow -\infty} \frac{x + \sqrt{x^2 \left( \frac{4}{x^2} - \frac{1}{x} \right)}}{x} = \lim_{x \rightarrow -\infty} \frac{x + |x| \sqrt{\frac{4}{x^2} - \frac{1}{x}}}{x} =$$

$$= \lim_{x \rightarrow -\infty} \frac{x - x \sqrt{\frac{4}{x^2} - \frac{1}{x}}}{x} = \lim_{x \rightarrow -\infty} \frac{x \left( 1 - \sqrt{\frac{4}{x^2} - \frac{1}{x}} \right)}{x} = \lim_{x \rightarrow -\infty} \left( 1 - \sqrt{\frac{4}{x^2} - \frac{1}{x}} \right) = 1 - 0 = 1$$

$$b = \lim_{x \rightarrow -\infty} (g(x) - mx) = \lim_{x \rightarrow -\infty} (x + \sqrt{4-x} - x) = \lim_{x \rightarrow -\infty} (\sqrt{4-x}) = +\infty$$

Não existe assíntota quando  $x \rightarrow -\infty$ .

Dado que  $D_g = ]-\infty, \pi]$ , o gráfico de  $g$  também não tem assíntota quando  $x \rightarrow +\infty$ .

Portanto, o gráfico de  $g$  também não tem assíntotas.

5. Do conhecimento do sinal de  $f''$  podemos tirar as conclusões a seguir resumidas sobre as funções  $f'$  e  $f$ :

$x$		5	
$f''$	-	0	+
$f'$	$\searrow$	Mín	$\nearrow$
$f$	$\cap$	P.I.	$\cup$

Assim,

- o ponto do gráfico da função  $f$  com abcissa 5 é um ponto de inflexão;
- como  $f'$  é decrescente em  $[0, 5]$ ,  $f'(0) > f'(5)$ ;
- o gráfico da função  $f$  tem a concavidade voltada para baixo em  $[0, 5]$ .
- $f'$  tem um mínimo para  $x = 5$ . Logo, é falso que a reta tangente ao gráfico da função  $f$  no ponto de abcissa 5 tenha declive máximo.

**Resposta: (D)**

6.  $f(x) = x \sin(2x) + \cos(2x)$ ,  $x \in [0, \pi]$

$$6.1. \quad f'(x) = (x \sin(2x))' + (\cos(2x))' =$$

$$= x' \sin(2x) + x (\sin(2x))' - (2x)' \sin(2x) =$$

$$= \sin(2x) + x \times 2 \cos(2x) - 2 \sin(2x) = 2x \cos(2x) - \sin(2x)$$

O declive da reta tangente ao gráfico de  $f$  no ponto de abcissa  $\frac{\pi}{4}$  é igual a  $f'\left(\frac{\pi}{4}\right)$ .

$$f'\left(\frac{\pi}{4}\right) = 2 \times \frac{\pi}{4} \times \cos\left(2 \times \frac{\pi}{4}\right) - \sin\left(2 \times \frac{\pi}{4}\right) =$$

$$= \frac{\pi}{2} \times \cos\left(\frac{\pi}{2}\right) - \sin\left(\frac{\pi}{2}\right) = \frac{\pi}{2} \times 0 - 1 = -1$$

Portanto, a reta  $r$  tem declive  $-1$ , ou seja, é paralela à bissetriz dos quadrantes pares.

6.2. Como a reta  $r$  tem declive  $-1$ , a sua equação reduzida é da forma  $y = -x + b$ .

$$f\left(\frac{\pi}{4}\right) = \frac{\pi}{4} \times \sin\left(2 \times \frac{\pi}{4}\right) + \cos\left(2 \times \frac{\pi}{4}\right) = \frac{\pi}{4} \times \sin\left(\frac{\pi}{2}\right) + \cos\left(\frac{\pi}{2}\right) = \frac{\pi}{4} \times 1 + 0 = \frac{\pi}{4}$$

O ponto de coordenadas  $\left(\frac{\pi}{4}, \frac{\pi}{4}\right)$  pertence à reta  $r$ :

$$\frac{\pi}{4} = -\frac{\pi}{4} + b \Leftrightarrow b = \frac{\pi}{4} + \frac{\pi}{4} \Leftrightarrow b = \frac{\pi}{2}$$

$\frac{\pi}{2}$  é a ordenada na origem. Logo, o ponto de coordenadas  $\left(0, \frac{\pi}{2}\right)$  pertence à reta  $r$ .

**Resposta: (C)**

6.3.  $f''(x) = (2x \cos(2x))' - (\sin(2x))' =$

$$= (2x)' \cos(2x) + 2x(\cos(2x))' - (2x)' \cos(2x) =$$

$$= 2 \cos(2x) - 2x \times 2 \sin(2x) - 2 \cos(2x) = -4x \sin(2x)$$

6.4.  $f''(x) = 0 \Leftrightarrow -4x \sin(2x) = 0 \wedge x \in [0, \pi] \Leftrightarrow$

$$\Leftrightarrow (-4x = 0 \vee \sin(2x) = 0) \wedge 2x \in [0, 2\pi] \Leftrightarrow$$

$$\Leftrightarrow (x = 0 \vee 2x = 0 \vee 2x = \pi) \wedge 2x \in [0, 2\pi] \Leftrightarrow x = 0 \vee x = \frac{\pi}{2}$$

$x$	0		$\frac{\pi}{2}$		$\pi$
$-4x$	0	-	-	-	-
$\sin(2x)$	0	+	0	-	0
$f''$	0	-	0	+	0
$f$		$\cap$	-1	$\cup$	

P.I.

$$f\left(\frac{\pi}{2}\right) = \frac{\pi}{2} \times \sin\left(2 \times \frac{\pi}{2}\right) + \cos\left(2 \times \frac{\pi}{2}\right) = \frac{\pi}{2} \times \sin \pi + \cos \pi = \frac{\pi}{2} \times 0 - 1 = -1$$

O gráfico da função  $f$  tem a concavidade voltada para baixo em  $\left[0, \frac{\pi}{2}\right]$  e voltada para cima em

$\left[\frac{\pi}{2}, \pi\right]$ . O ponto de coordenadas  $\left(\frac{\pi}{2}, -1\right)$  é um ponto de inflexão.

7.  $x(t) = 2 \sin\left(\frac{\pi}{3} - \pi t\right) = 2 \cos\left[\frac{\pi}{2} - \left(\frac{\pi}{3} - \pi t\right)\right] = 2 \cos\left(\frac{\pi}{2} - \frac{\pi}{3} + \pi t\right) = 2 \cos\left(\pi t + \frac{\pi}{6}\right)$

O ângulo de fase do oscilador harmónico é  $\frac{\pi}{6}$ .

**Resposta: (D)**