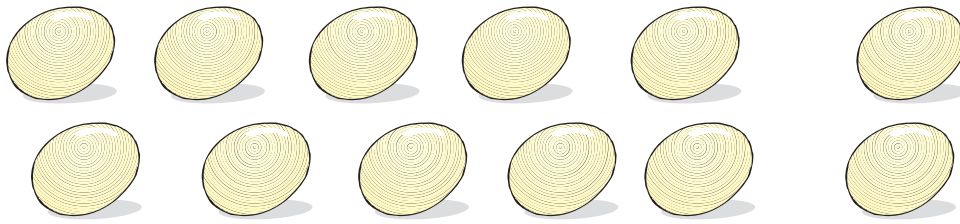





## Os números até dezasseis (16)



- Conversar sobre os exercícios propostos.
- Formar grupos de dez em cada situação.
- Registrar nas tabelas o número de agrupamentos e o dos elementos que sobram.



	
1	2
doze	



$$10 + 2 = 12$$



	
1	
treze	



$$10 + 3 = 13$$




	
catorze	



$$10 + 4 = 14$$



	
quinze	

$$10 + 5 = \underline{\quad}$$



	
dezasseis	

$$10 + 6 = \underline{\quad}$$