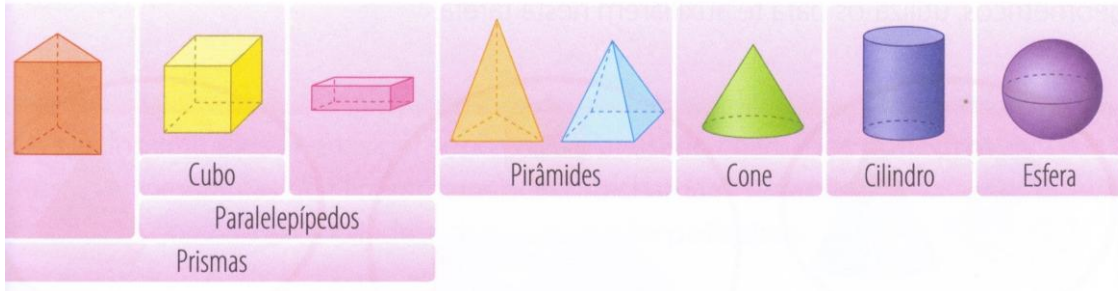


Sólidos geométricos

Observa os nomes de alguns sólidos geométricos.

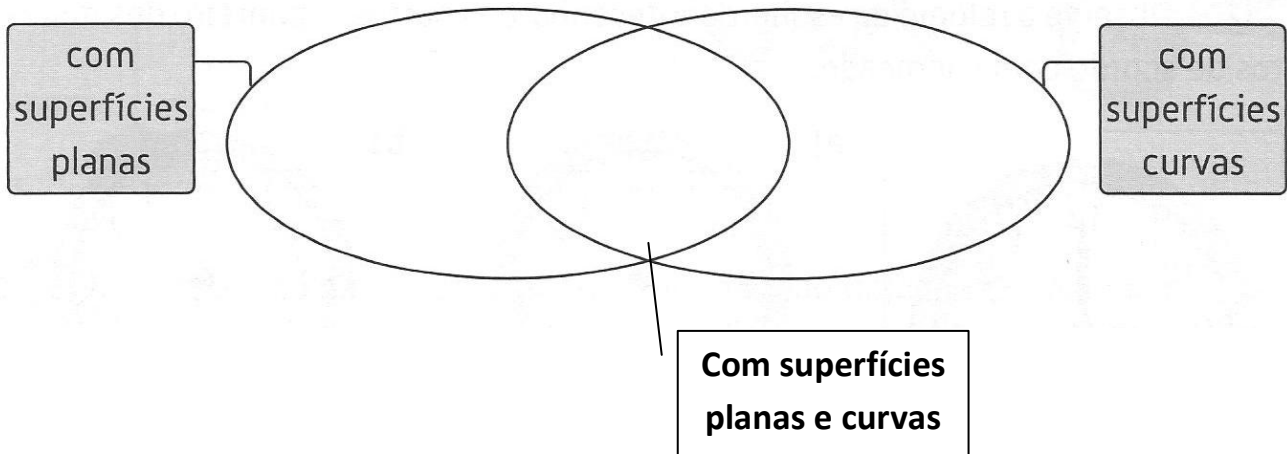
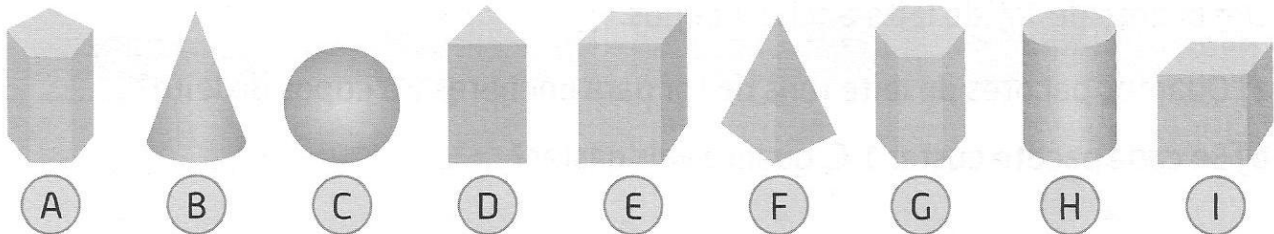


1 - Agrupa os sólidos segundo as suas características

Sólidos apenas com superfícies planas	Sólido apenas com superfícies curvas	Sólidos com superfícies planas e curvas
_____	_____	_____
_____		_____
_____		_____


Diagrama de Venn

2 - Observa os sólidos e completa o diagrama de Venn, com as respetivas letras.

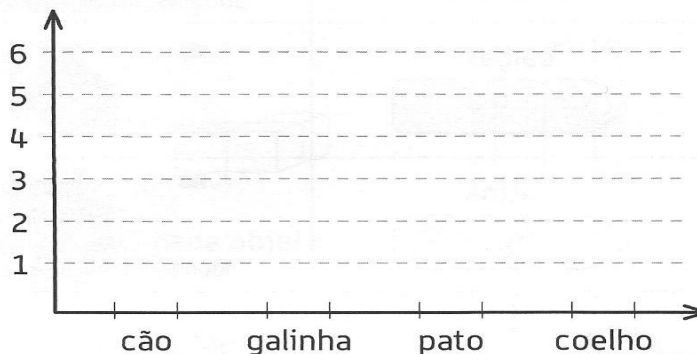


3 - Observa o pictograma que revela a quantidade de animais que há no quintal da avó.

A partir do pictograma, completa a tabela de frequências absolutas e o respetivo gráfico de barras.



animal	frequência absoluta
cão	_____
galinha	_____
pato	_____
coelho	_____



3.1 – Responde.

a – Quantos animais vivem no quintal? _____

b – Quantas galinhas há a mais do que coelhos? _____

4 – Na figura estão representados alguns colegas da Gabriela.



4.1 - Escreve, no local correto do diagrama de Venn, o nome de cada criança.

