








Nome: _____ Data: _____

1. Assinala com **X** o estado do tempo que se verifica hoje.

					
sol	chuva	vento	encoberto	trovoada	neve

2. Observa como estão os meninos vestidos e identifica a estação do ano. Escreve duas frases para cada uma das imagens.

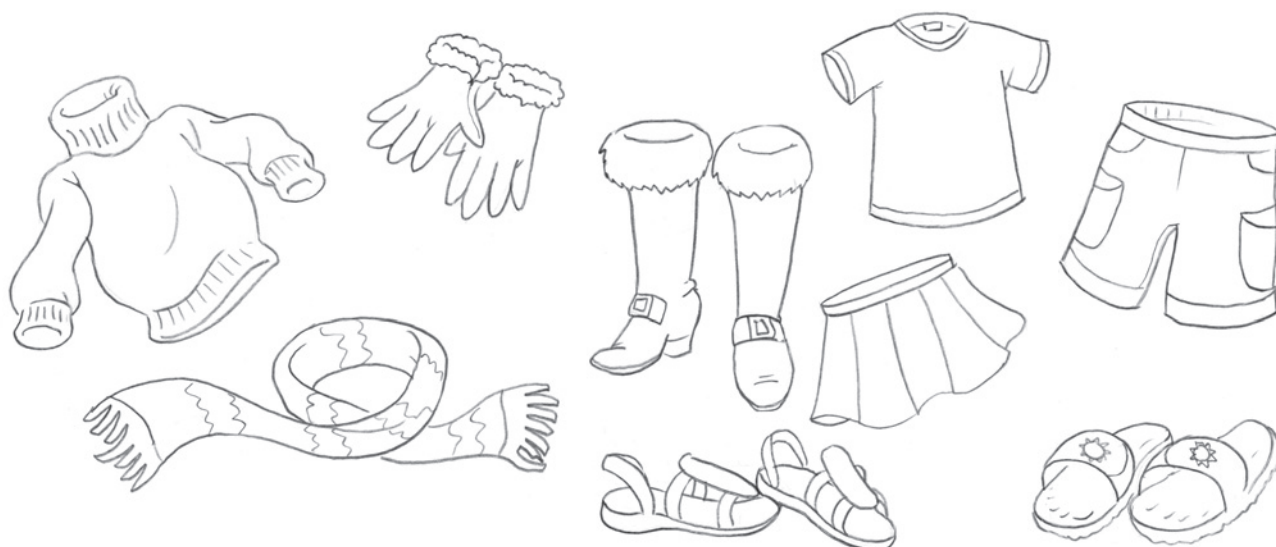
		_____

		_____

		_____

		_____

3. Pinta as peças de vestuário que usas no inverno. Risca as que não podes usar.



4. Assinala com **X** as afirmações verdadeiras.

Nas regiões desérticas...

de dia é muito quente.

de noite é muito frio.

cai muita neve.

a chuva cai com abundância.

há muita areia.

praticamente não há plantas.

Nas regiões geladas...

vivem muitas focas e pinguins.

o solo está permanentemente coberto de neve e gelo.

o calor é intenso.

vivem os esquimós.

5. Faz a correspondência correta.

- | | | |
|--------------------------------|---|---------------------------------------|
| Os esquimós vivem em | ● | ● muito frio. |
| No deserto há pouca | ● | ● muitos dias sem beber água. |
| No deserto, de dia, é | ● | ● água, poucas plantas e muita areia. |
| No deserto, à noite, faz | ● | ● grande variedade de seres vivos. |
| O camelo aguenta | ● | ● à região onde vivem. |
| Nas florestas tropicais há uma | ● | ● muito quente. |
| Os animais estão adaptados | ● | ● regiões geladas. |

6. Observa as imagens, identifica os animais e escreve a que região pertencem. (selva, deserto, região gelada).



Animal: _____

Região: _____



Animal: _____

Região: _____



Animal: _____

Região: _____