



NOME

AVALIAÇÃO

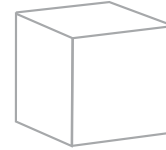
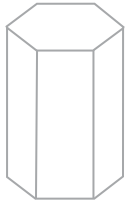
N.º

TURMA

DATA  -  -

ENC. EDUC.

1. Observa os sólidos geométricos. **Pinta** os não poliedros.

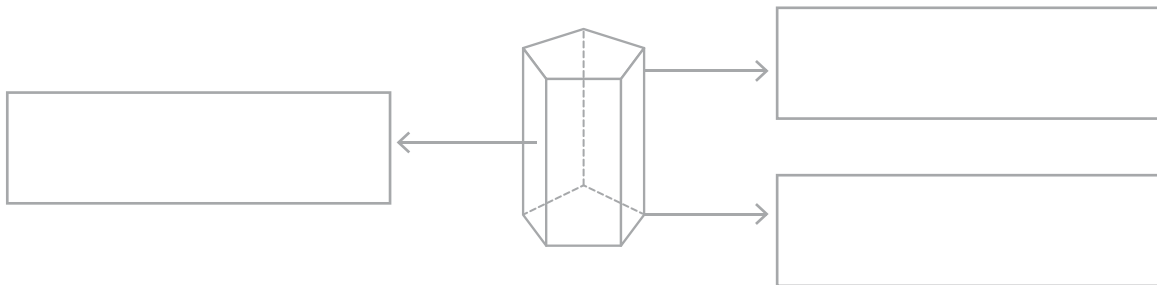


Prismas

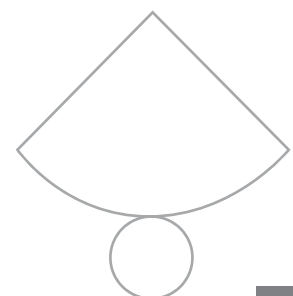
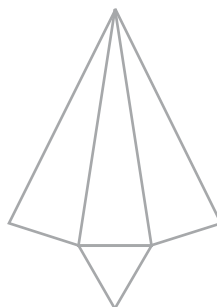
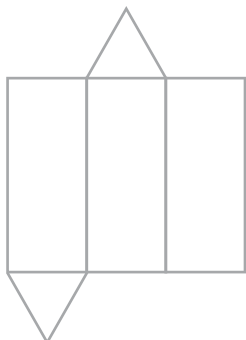
Pirâmides

1.1 **Liga** os poliedros ao grupo a que pertencem.

2. **Legenda** a imagem com: aresta, vértice e face.



3. **Liga** cada sólido à planificação que lhe corresponde.




4. **Observa** o registo feito no Jardim Zoológico no mês de setembro.

Locais	N.º de visitantes		
	6.ª feira	Sábado	Domingo
Espetáculo dos golfinhos	13 572	24 675	21 831
Exposição das araras	9249	23 124	27 183

4.1 **Descobre** qual foi o dia em que houve mais visitantes nestas duas atividades. Explica como pensaste.

5. A imagem a seguir mostra parte do pátio da escola, cujo pavimento é feito de mosaicos diferentes. **Observa-a.**



5.1 **Quantos** mosaicos de cada tipo foram necessários para pavimentar o pátio?

6. **Efetua** os cálculos. Podes usar a reta numérica.

$726 + 99 =$

$923 - 50 =$