



Crescente e decrescente

- Observa as duas situações.

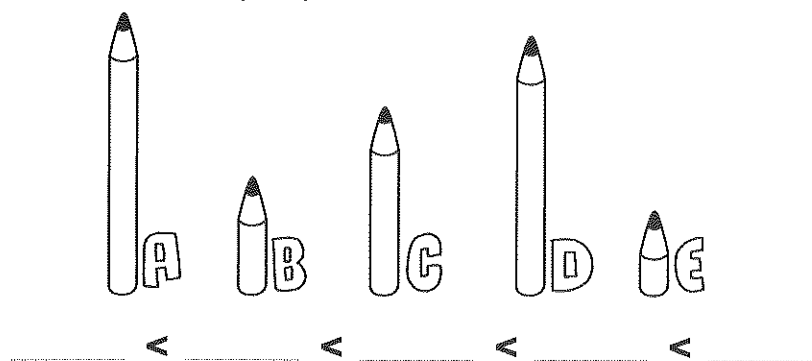
Crescente



Decrescente



- Observa os lápis. A cada lápis corresponde uma letra. Coloca as letras, ordenando os lápis por ordem **crescente** de altura.



- Repete o exercício, mas desta vez coloca os lápis por ordem **decrescente** de acordo com a altura.

_____ > _____ > _____ > _____ > _____

- Observa os números seguintes:

20	2	12	0	15	5	7
----	---	----	---	----	---	---

– Escreve-os por ordem **decrescente**.

_____ > _____ > _____ > _____ > _____ > _____

– Agora, escreve-os por ordem **crescente**.

_____ < _____ < _____ < _____ < _____ < _____