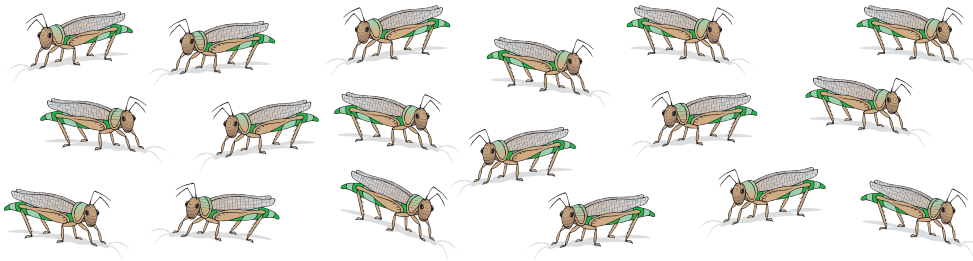


8

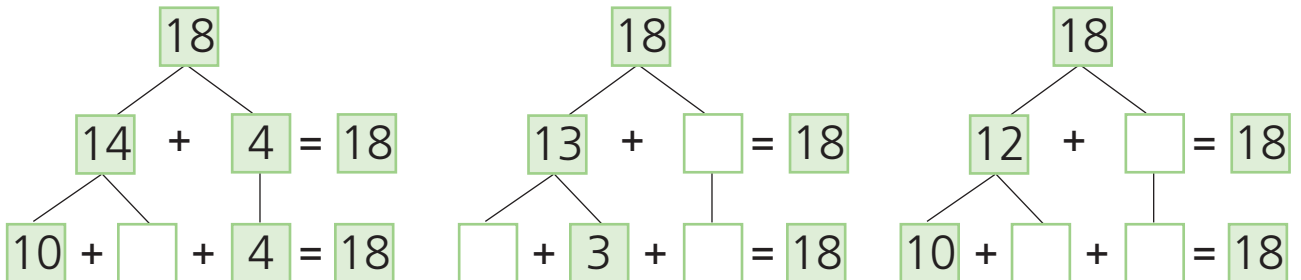
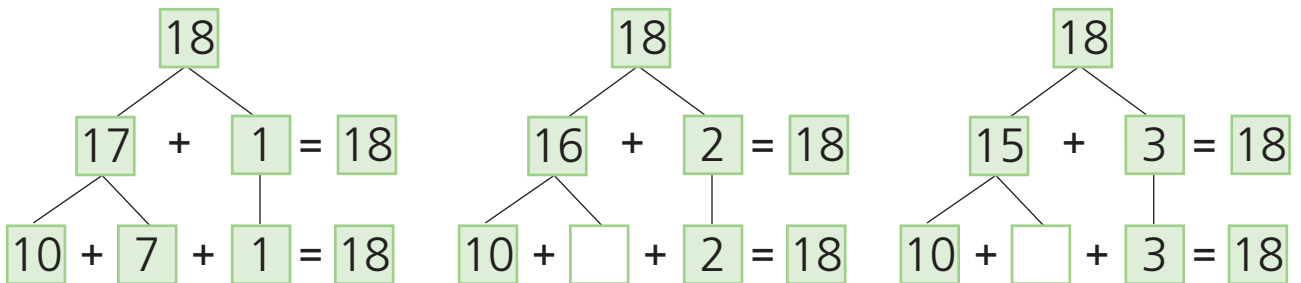
Composição e decomposição de números (o número 18)

- Conversar sobre os exercícios propostos. Fazer grupos de dez. Registrar.




d	u
dezoito	

- Calcular e completar.



- Observar e completar.

São 18 joaninhas. Tapo 3. Ficam ____.




$$18 - 3 = \underline{\quad}$$

SÃO	TAPO	FICAM
18	14	____
18	____	8
18	12	____
18	____	2
18	5	____
18	____	9

Composição e decomposição de números (o número 19)



- Conversar sobre os exercícios propostos. Formar grupos de dez. Registrar.



d	u
dezanove	

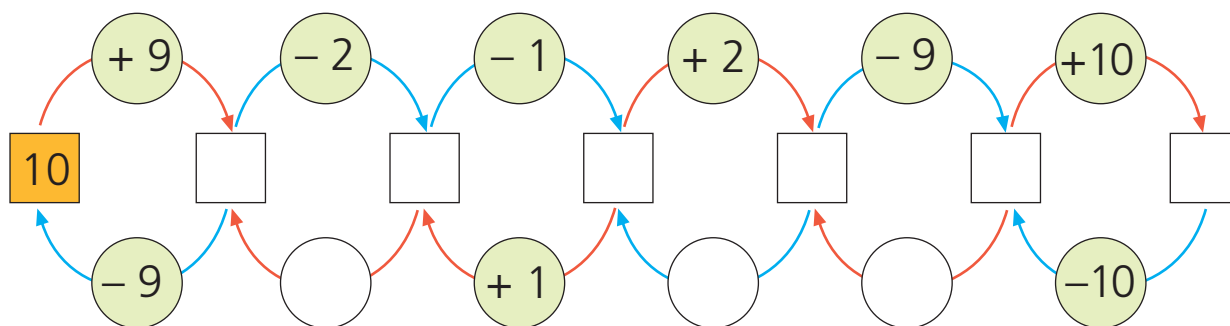
- Pintar da mesma cor, duas a duas, as casas cujos números somam 19 e a respectiva etiqueta (ver exemplo).

18	17	16	15	14	13	12	11	10
3	8	5	1	7	9	2	4	6

$10 + 9 = 19$	$17 + 2 = 19$	$18 + 1 = 19$	$14 + 5 = 19$	$12 + 7 = 19$
---------------	---------------	---------------	---------------	---------------

$13 + 6 = 19$	$11 + 8 = 19$	$15 + 4 = 19$	$16 + 3 = 19$
---------------	---------------	---------------	---------------

- Completar.



- Ligar os números por ordem. Pintar.

