

1.º caderno

Escola Masculina de Caria

ANO LECTIVO DE 1966-1967

CADERNO DIÁRIO

DISCIPLINA

ALUNO N.º

ANO 1966

TURMA

NOME

Sourenco Manuel Calheiros

Ditado

Daniel deu a lição do costume, e, às cinco horas, recebeu ordem de se retirar, ordem que cumpriu sem se pôr a fazer e a pensar muito.

Ele a voltar as costas e o reitor a pôr o chapéu na cabeça para ir na pista. A tarefa não era fácil; basta lembrar-nos da agilidade de Daniel, natural à sua idade, e compará-la com os movimentos do velho padre que, com a pressa que levava, impelia adiante de si todas as pedras soltas do caminho.

Foi seguindo direito pelas ruas que o conduzião a casa do José das Dornas e perguntando a quantos conhecidos encontrava se tinham visto passar o pequeno.

Exercício de Gramática

Escreve da Ditado palavras:

Monossilábicas - deu e às de se que e

Bem a pôr na lhe ir a mão da com e de

Dissilábicas - lição cinco horas ordem cum-
puiu

20

Trissilábicas - Daniel costume recebeu
 retirar esperar cabeça tarefa ~~Daniel~~
 Dissilábicas - agilidade movimentos
 adiante conduziam perguntando
Bos

Aritmética

Efectua a seguinte operação

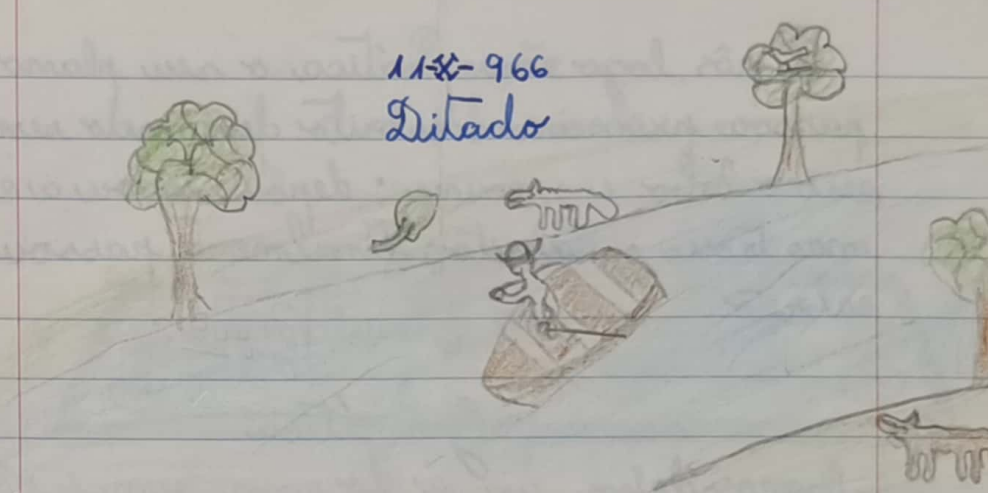
$$750,9684 \times 640,7 =$$

$\begin{array}{r} 750,9684 \\ \times 640,7 \\ \hline 52563788 \\ 30038736 \\ \hline 45058104 \\ 48114545388 \end{array}$	$\begin{array}{r} 48114545388 \overline{) 640,7} \\ \underline{32655} \\ 062045 \\ \underline{43823} \\ 53848 \\ \underline{25628} \\ 0,00000 \end{array}$
--	--

Chapéu Daniel

1156-966

Ditado



Um barqueiro chegou à margem do rio com um lobo um cabrito e uma couve e pôs-se a descobrir o meio de atravessar para o outro lado. O problema era difícil de resolver porque como o barqueiro era pequeno cada coisa tinha que ir por sua vez.

Diz o homem lá consigo: — Se passo primeiro o lobo o cabrito come a couve; se começo pela couve o maroto do lobo papo o cabrito; se levo o cabrito aí fico sobre brasas pois não sei o que transportar em seguida... Por fim bateu na testa cheio de alegria e exclamou: — Hei!

É pôs logo em prática o seu plano: passou primeiro o cabrito deixando sempre o lobo e a couve; depois levou a couve mas trouxe o cabrito; Finalmente passou o cabrito.

u **Pou**

Gramática

Monossilabos - um á do com um e pô-^{ta}

Dissilabos - chegou margem rio lobo uma

Trissilabos - barqueiro cabrito descobrir

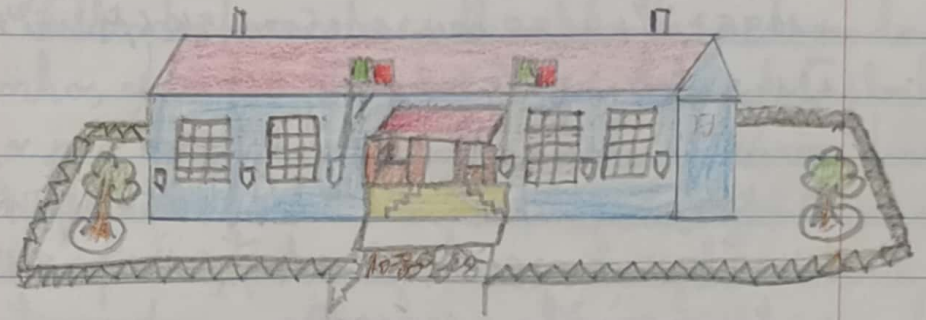
Polissilabos - atravessar Finalmente

Aritmética

Reduzir a dam e adicionar

$275,9 \text{ cm} = 0,2759 \text{ dam}$	$0,2759$	
$80,142 \text{ km} = 801,42 \text{ dam}$	$801,42$	B
$64273,878 \text{ m} = 6,42738 \text{ dam}$	$6,42738$	3
$7438,6 \text{ dm} = 74,386 \text{ dam}$	$74,386$	
$9325,07 \text{ km} = 93250,7 \text{ dam}$	$93250,7$	7
$325,06 \text{ m} = 3,2506$	$3,2506$	
	9416571528	

Reação A minha escola



Eu gosto muito da minha escola porque foi aonde eu aprendi as letras e os algarismos e depois muitas outras coisas. A minha escola tem três grandes janelas de cada lado um grande cabide duas salas dois gabinetes. Tem três filas de carteiras um grande quintal um quadro preto e também uma secretária um grande telheiro para brincarmos quando estiver a chover um alpendre etc ainda tem a volta da escola um jardim e casa de banho

Aritmética

$$725,4 \text{ cm}^2 + 2,0075 \text{ Km}^2 + 210,5 \text{ dam}^2 + 3,84 \text{ ca} + \\ + 1095 \text{ m}^2 + 42,75 \text{ ha} + 3008,5 \text{ ar} + 5186,4 \text{ dm}^2 + 214270 + \\ + 214,27 \text{ km}^2 + 2,7085 \text{ m}^2 = \text{m}^2$$

$$0,07254 \text{ m}^2 + 2007500 \text{ m}^2 + 21050 \text{ m}^2 + 53,84 \text{ m}^2 + 0,010957 \\ + 427500 \text{ m}^2 + 3008,5 \text{ m}^2 + 0,51864 \text{ m}^2 + 2142700 + \\ + 2142700 \text{ m}^2 + 2,708500 \text{ m}^2 =$$

0,07254 m ²	
2007500	
21050	
53,84	
0,010957	<u>3</u>
427500	3
3008,5	
51,864	
2142700	
214700	
2708500	
752506329897	

17-X-1966

Ditado

Filho de honrados e humildes lavradores do interior, cedo foi para o Porto ganhar pelo trabalho o pão de cada dia. Mas este operário, destinado pela humildade do seu nascimento a ser um operário, tinha a nobre aspiração de subir. Quando começou a ganhar a vida, mal sabia ler e escrever. Tirava, por isso, do seu mísero salário, alguns vinténs para pagar a quem o ensinasse.

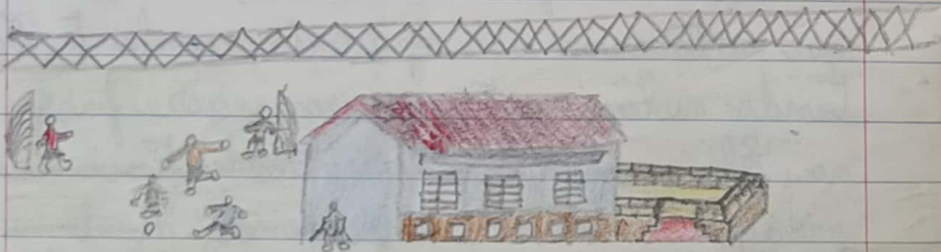
Quando os seus companheiros de trabalho iam para a taberna, ou se deitavam a dormir, conservava ele os olhos a estudar á luz de um candeeiro. Assim se foi instruindo, ao mesmo tempo que se tornava um operário excelente. Frequentando aulas nocturnas, conseguiu fazer o curso. Ele, que tantas dificuldades tivera nos seus princípios, tornou-se professor. Muito mais instruído do que a maior parte dos seus colegas, não se limitou a ensinar instrução primária. começou míseros vinténs princípios contábil

Aritmética

Reduzir a dal e adicionar

$2,759 \text{ ml} = 275,9 \text{ dal } e$	275,9 dal
$6004,3 \text{ dl} = 60043 \text{ dal } e$	60,043 dal
$7,2954 \text{ kl} = 729,54 \text{ dal } e$	729,54
$81403 \text{ ml} = 81,403 \text{ dal } e$	8,1403
$34739 \text{ l} = 34739 \text{ dal } e$	352146
$35214,6 \text{ cm}^3 = 35,2146 \text{ dal } e$	0,42857
$4285,7 \text{ ml} = 4,2857 \text{ dal } e$	0,0051009
$51009 \text{ m}^3 = 51009 \text{ dal } e$	728,54
$7285,4 \text{ dl} = 72854 \text{ dal } e$	642,75
$64275 \text{ hl} = 64275 \text{ dal } e$	8,2753
$8205,3 \text{ cl} = 82053 \text{ dal } e$	22462437309

Redação



Os nossos Professores são os que mais devemos amar e seguir aos nossos pais, porque

os Professores fazem o melhor que podem para fazermos as coisas bem feitas e também ensinam-nos como devemos amar a Deus, os nossos pais e os nossos semelhantes.

Por isso, devemos agradecer-lhes por tudo o que fazem por nós e igualmente aos nossos Pais porque eles também nos fazem o mesmo bem.

Gramática

Das frases a seguir, escreve no seu devido lugar as palavras abaixo designadas

O homem é o rei dos animais O cão é um animal doméstico Eu vi uma menina muito bonita A escola onde aprendo ainda é nova e tem um jardim engraçado na primavera

Artigos - O um uma Os
Substantivos - homem animais cão menina escola jardim rei animal Primavera cão
Adjectivos - é aprendo engraçado bonita
Verbos - aprendo

Problemas

I A mãe do Sr Rui comprou um fato e um sapato para o fato comprou 1,25 m de fazenda a 120 000 o metro e os sapatos custaram 125 000 que despesa fez a mãe do Rui

II Para pagar a despesa a mãe do Rui entregou uma nota de 500 000 e com o troco comprou pano para lençóis a 20 000 o metro. Quantos metros comprou.

$$\begin{array}{r}
 120\,000 \times 1,25 = 222\,000 \quad 1,25 \quad 222\,000 \\
 222\,000 + 125\,000 = 347\,000 \quad \times 120\,000 \quad + 125\,000 \\
 \hline
 \quad \quad \quad 340 \quad \quad \quad 347\,000 \\
 \hline
 \quad \quad \quad 185 \\
 \hline
 R = 347\,000 \quad 222\,000 \quad \text{P}
 \end{array}$$

$$\begin{array}{r}
 500\,000 - 347\,000 = 153\,000 \quad 500\,000 \quad 153\,000 \quad 20\,000 \\
 153\,000 : 20\,000 = 7,65 \quad \underline{347\,000} \quad 13\,000 \quad 7,65 \\
 \quad \quad \quad 153\,000 \quad 10\,000 \\
 \hline
 R = 7,65 \quad \quad \quad \text{P} \quad 0000
 \end{array}$$

19-X-1966

Ditado

Os antigos tinham bastante dificuldade em fazer lume; mantinham-no sempre aceso no lar. Era à volta dessa pedra gradeada que se reunia a família, nas longas noites de Inverno; sobre ela se preparava o alimento. Por isso, começou a chamar-se à casa da família, a esse cantinho acolhido, quente e protector,

O nosso lar começa por ser a casa paterna, com todas as recordações da nossa infância descuidosa. Mais tarde, todos aspiram a fundar um novo, mas não devem esquecer onde nasceram e se criaram.

Pobrezinhos daqueles que, neste mundo, nunca conheceram o doce acolhido que todos sentem, mas ninguém pode descrever!

Este mundo só terá sossego, quando todas as criaturas tenham o seu lar, e sejam educadas de maneira que o respeitem, cultivem e amparem como uma coisa sagrada.

P. Z

Gramática

Exercice como se deve falar as frases a seguir e sublinha os pronomes

Dá a eu o livro que compraste. Ele é para eu.
A casa é para eu, porque ela é de mim. Bem com eu à missa. O copo é para tu. Quereres vir com nós? O cavalo é de nós. Eu vou com vós à casa é de vós.

Dá-me o livro. Ele é para mim. A casa é para mim. Bem comigo à missa. O copo é para ~~tu~~. Quereres vir conosco. O cavalo é nosso. Eu vou convosco. A casa é vossa.

Aritmética

Como se classificam as medidas de superfície. Em quadradas e agrárias.
Qual é a unidade principal das medidas quadradas? É o metro quadrado.
Quais os seus múltiplos? dam^2 hm^2 km^2 .
A que são equivalentes as medidas

$$m^2 = ca$$

$$hm^2 = ha$$

$$dam^2 = a$$

$$km^2 = m^2$$

Qual a relação dessas medidas de um para com o outro?
Ditado

Não há mais lindo país do que o nosso com o seu clima ameno e o seu céu azul e o seu solo fértil. O Português porém abandona muitas vezes a sua terra amiga e hospitaleira para ir fertilizar com o seu trabalho a terra alheia. Quantas vezes enganado pela ambição da riqueza e sem a preparação necessária vai arruinar a saúde e perde a vida em trabalhos rudes e penosos como nunca teve na sua terra!

Quanto desenganados voltam mais pobres, mais doentes e mais infelizes do que foram! E quanto mais nunca tornam a ouvir o

Toque familiar e amigo do sino da sua aldeia! Mirrados de trabalhos de doenças de saudades. enfim lá deixam para sempre os ossos em terra estranha.

Boas

Moral e Religião

Quando nós somos verdadeiros amigos de alguém?

Quem é o nosso maior amigo e porquê?

Qual é o nosso dever para com Deus?

Escreve a oração que deves dizer todos os dias?


Nós somos verdadeiramente amigos, quando os nossos amigos estão tristes e nós estamos com pena deste amigo. E quando vemos que eles andam felizes, andamos contentes.

O nosso maior amigo é Deus.

Devemos fazer sempre a vontade de Deus e fazer com que ele se sinta feliz.

- Senhor nós vos agradecemos por nos terdes tanto amor.

- Ajudai-nos a fazer sempre a vontade de Deus para merecermos a felicidade do Céu.



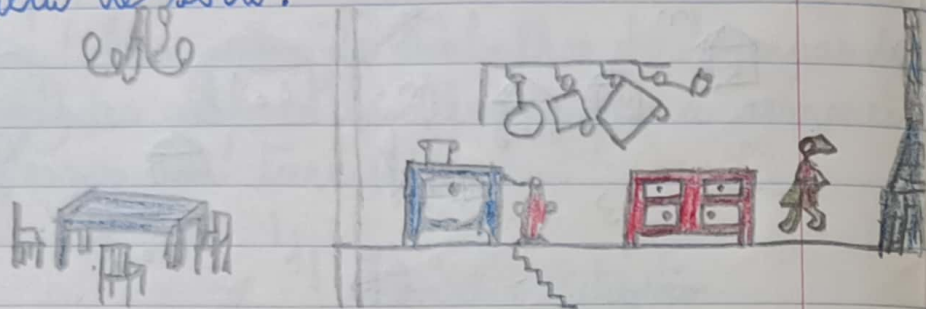
Redação

O método

Há pessoas a quem não chega o tempo para nada.

Nós devemos ter cada coisa no seu lugar, cada lugar para cada coisa. Fazendo assim pouparemos muito tempo e muitas vezes temos tempo para descansar e outras com pouco que fazer, fazem tudo à pressa e não sabem onde estão as coisas de que precisam. Às vezes de noite precisam de qualquer coisa, levantam-se e não logo descobrem a coisa que precisam. Outras de noite também se levantam e não sabem onde estão as coisas. Estas pessoas não têm método e depois, queixam-se das

falta de sorte.



Problemas

I A Beatriz para pagar 2,5 de bacalhau entregou uma nota de 100,00. Recebeu de troco 55,00. Como pagou o quilo?

$$\begin{array}{r}
 2,5 \quad 100,00 - 55,00 = \quad 100,00 \quad \overline{) 55,00} \quad \underline{2,5} \\
 = 45,00 \quad 45,00 \div 2,5 = \quad \underline{55,00} \quad 125 \quad 125,00 \\
 = 18,00 \quad 0,45,00 \quad 90
 \end{array}$$

II Na compra de 2,5m de pano, a Beatriz gastou 37,50. Quanto pagaria se tivesse de comprar 4,75m?

$$\begin{array}{r}
 37,50 : 2,5 = \quad 4,25 \quad 37,50 \quad \overline{) 4,25} \quad \underline{4,25} \\
 15,00 \times 4,75 = 71,25 \quad 125 \quad 15,00 \quad \underline{15,00} \\
 \quad \quad \quad 0,0 \quad \quad \quad \underline{2375} \\
 \quad \quad \quad \quad \quad \quad \underline{475} \\
 \quad \quad \quad \quad \quad \quad 7125,00
 \end{array}$$

III - Um tanque tem de comprimento 2,5m de largura 1,75m de altura 1,8m. Quantos litros de água leva esse tanque?

$$\begin{array}{r}
 C 2,5m \quad 1,75 \quad 4,375 \\
 L 1,75m \quad \underline{\times 2,5} \quad \underline{\times 1,8} \\
 A 1,8m \quad 975 \quad 35000 \\
 \underline{350} \quad \underline{4375} \\
 7,8750 = 7875l \quad 4,375 \quad 78750
 \end{array}$$

Ditado

Mais vale prevenir que remediar, costumamos fazer-se muitas vezes.

Mas se toda a gente conhece e repete esta verdade, há muitos que a não praticam. É assim a imprudência é a causa de muitas desgraças. Conhecemos, por exemplo, um simpático velhinho, que tinha à porta da sua casa um escada de pedra, sem corrimão. Um dia, em que o pobre velho, já tão velho, ia a subir a escada desequilibrou-se e caiu ao quintal. Embora a altura não fosse grande, partiu uma perna

ficando paralisado para o resto dos seus dias,
o que teria evitado com uma despesa insignifi-
cante. Evitemos cuidadosamente todos os males que,
uma vez sucedidos, muitas vezes não têm remédio.

Gramática

Com o verbo dar as palavras yo sé a lição exer-
ce uma frase no presente, pretérito e futuro

O yo sé dá a lição

O yo sé deu a lição

O yo sé dará a lição

Classifica morfológicamente as palavras


O - artigo definido masculino singular

yo sé - Substantivo comum masculino singular

deu - É a forma do verbo dar

a - artigo definido feminino singular

lição - Substantivo comum feminino singular



Aritmética

Reduzir a incompleto, o numero:

$$15 \text{ d } 18 \text{ h } 35 \text{ m } 40 \text{ s} = 1362940 \text{ s}$$

		22715 m
24 h	378 h	x 60 m
x 15 l	x 60 m	1362900 s
120	22680 m	+ 40 s
24	+ 35 m	1362940 s
360 h	22715 m	
18 h		
378 h		

Reduzir a complexo

		60 s
204828 s	1173 m	60 m
104	573	19 h
442	33 m	
228		
48 s		

Ditado

Muitas das terras hoje ocupadas pelos Portugueses
pertenceram outrora aos Lusitanos, raça desti-
mida e irrequieta, que nunca levou a bem a
dominação por estranhos.

A Lusitânia foi abrangida por muitos povos antigos. Entre esses povos contam-se os Romanos, que se estabeleceram como dominadores premendo todas as resistências.

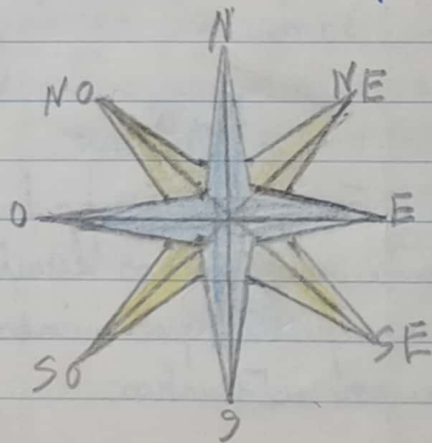
Durante dezenas de anos a Lusitânia resistiu aos invasores, que, surpreendidos aqui e ali, sofreram constantes desastres.

Entre os chefes dos Lusitanos, devemos fixar um nome principalmente o de Viriato, que, de simples pastor, se foi elevando até vencer os Romanos em batalhas campais.

Inevitável nas lutas em campo aberto foi morto à traição.

Exercício de Geografia

Desenha a Rosa dos ventos e responde às perguntas a seguir:

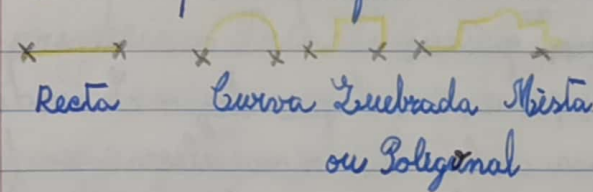


O que entendes por orientação? Orientação é saber onde estamos, isto é saber para onde devemos de nos dirigir.

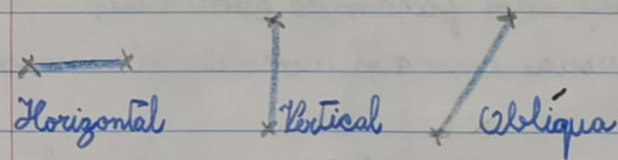
Quais os processos que conheces para nos orientarmos? Podemos orientar-nos, não pelo Sol, pela Brisa, e pela Estrela Polar.

Geometria


Linhas quanto à forma



Linhas rectas quanto à direcção



Linhas rectas quanto à posição relativa



Redação

Sobre a tua lição de Religião responde às perguntas:

Quando é que nós ficamos a pertencer à Família Divina:

Antes do nosso Batismo a que família pertencemos.

O que recebemos dos nossos Pais?

E que devemos a Deus

Quais são as palavras que diz o sacerdote quando deita a água sobre a nossa cabeça no Batismo

O que desaparece de nós quando no nos batizamos

Qual é o pecado original dos nossos 1^{os} pais

Se conservarmos a vida divina que somos nós

Como é que nós falamos com Deus

O que se passa em nós no dia do nosso Batismo.

Nós ficamos a pertencer à Família Divina no dia do nosso Batismo

Antes do nosso batismo pertencemos à Família Humana

Recebemos dos nossos pais só o corpo,

Devemos a Deus a alma

O sacerdote quando nos deita a água na cabeça diz: Eu te Baptizo em nome do Pai do Filho e do Espírito Santo.

Quando nos batizamos desaparece de nós o pecado original

O pecado original é o pecado dos nossos primeiros Pais, Adão e Eva

Se conservarmos a Vida Divina, nós somos um Templo de Deus.

Nós falamos com Deus por meio das orações

Nós, no dia do nosso batismo recebemos a Graça Santificante



31-X-1966

Ditado

Li Luanda percorrimos hoje Portugal dentro de uma carruagem do caminho de ferro ou recortados num automóvel nem de longe avaliamos o trabalho que representa a Nacionalidade Portuguesa.

Mas fechando os olhos procuraremos recordar alguns factos do nosso passado glorioso.

D. Afonso Henriques trabalha desde a infância até ao fim da vida no alargamento do território à custa dos usurpadores mouros. D. João I de guarda à terra dos seus antepassados castiga em Aljubarrota com auxílio de Nun, Álvaro Pereira a audácia dos Castelhanos que desejam aproveitar-se do trabalho dos Portugueses durante a primeira dinastia.

2-XI-1966

Ditado

Depois da morte de el-rei D. Fernando quis o rei de Castela conquistar Portugal. Um poderoso exército castelhano invade o País e

alguns fidalgos portugueses esquecidos da lealdade que deviam à sua Pátria. x

Ta fazer o mesmo Gonçalo Vazquez Coutinho alcaide-mor de Trancoso quando sua mãe D. Brites de Moura informada da intenção do filho lhe falou deste modo:

— Vossos antepassados meu filho sempre foram leais e fiéis à Pátria. Se tentais mudar o nome que tendes apud halai-me primeiro que não quero sobreviver à vossa infâmia.

Gramática

Sublinha os verbos e responde às perguntas.

- O yaimé faltou à escola; é um mandrião.
- Sujeito da primeira oração. O yaimé
- Predicado - faltou
- Sujeito - O yaimé
- Predicado - É um mandrião.

- Roubaram o automóvel.
- Sujeito - Indeterminado
- Predicado - Roubaram

Chove muito -

Yujito - Não existe (Inexistente)

Predicador - Chove

Reduzir a kg e adicionar


2705g =	2,705 kg	2,705 kg	
96284g =	962,84 kg	962,84	
5392kg =	5392 kg	5392	
64186m ³ =	64186 kg	64186	
75243 dg =	7,5243 kg	7,5243	
50028 dag =	5,0028 kg	5,0028	1
28647 mg =	28,647 kg	28,647	1
53969g =	53,969 kg	53,969	
714086 dm ³ =	714086 kg	714086	
42953 cm ³ =	42,953 kg	42,953	
92742 cg =	9,2742 kg	9,2742	
53864 mg =	53,864 kg	53,864	
		<hr/>	
		26415242841	

A B C D E F G H I J K L M N O P Q R S T U V W X Y Z

F U V W X Y Z A B C D E F G H I J K L M N O P Q R S T U V W X Y Z

N O P Q R S T U V W X Y Z

اللهم صل على محمد وآل محمد



Predação - O perigo das armas

Um pai, vindo da caça, dependurou as suas armas num cabide, mas, ao alcance de dois filhos que viram o pai a dependurar as armas.

Quando o pai saiu, os filhos foram buscar uma cadeira e um deles subiu até tirar as armas.

O mesmo filho dando um tiro, feriu a irmã que foi logo levada para o hospital. O filho arrependido foi visitar a irmã que estava muito ferida. Esta história também nos mostra a imprevidência.

Predação - Religião

O que ordena o 1º Mandamento da Lei de Deus

O 2º Mandamento

Para sermos filhos do pai do céu o que devemos fazer?

Como é que nós conversamos com Deus?

E quando o devemos fazer?

O que devemos pedir principalmente a Deus?

Quando empregamos o nome de Deus, como devemos fazer?

Escreve a oração do amor a Deus e ao próximo:

O 1º Mandamento ordena-nos adorar a Deus e amá-lo sobre todas as coisas.

O 2º manda-nos amar o próximo como a nós mesmos.


Para sermos filhos do Pai do Céu devemos amá-lo e adorá-lo.

Conversamos com Deus por meio das orações.

Devemos fazê-lo de manhã, quando nos levantamos, e à noite, quando nos deitamos; antes e depois das refeições; depois dos trabalhos e antes dos trabalhos. Nas ocasiões de tentação e nos atos do culto.

Devemos pedir a Deus que nos perdoe o pecado. Devemos fazê-lo com todo o respeito, quando empregamos o nome de Deus.

Meu Deus, amo-Te de todo o meu coração porque és infinitamente bom; e, por amor de Ti amo o meu próximo como a mim mesmo.



Problemas

$$\begin{array}{r} \text{I} - 30800 : 2,5 \text{ m} = 12300 \\ 12300 \times 0,2 = 2460 \\ \text{R} = 2460 \end{array} \quad \begin{array}{r} 30800 \quad | \quad 2,5 \text{ m} \quad 12300 \\ 050 \quad 12300 \quad \times 0,2 \\ \hline 00 \quad \quad \quad 2460 \end{array}$$

$$\begin{array}{r} \text{II} - 7550800 \times 0,15 = 1132620 \\ 1132620 - 7550800 = -6418180 \\ \text{R} = 6.418.150 \end{array} \quad \begin{array}{r} 7550800 \quad 7.550.800 \\ \times 0,15 \\ \hline 3775 \quad \quad \quad 6.418.150 \\ 755 \\ \hline 11326200 \end{array}$$

III $0,5 \text{ dam} \times 0,5 \text{ dam} = 0,25 \text{ dam}^2 = 2,5 \text{ ca}$


I 4.200 d'écus

II $80 \text{ cm} \quad 0,01 = 1 \text{ cm}$

III $65 \text{ cm} \times 3 = 195 \text{ cm} = 1,95 \text{ m}$

$R = 1,95 \text{ m}$

Ditado



Os Altos Infantes, D. Duarte, D. Pedro, D. Henrique, D. João, D. Fernando e D. Isabel, filhos de D. João I e de D. Filipa de Lencastre, recompensaram bem os cuidados dos seus educadores.

Mas de todos os Infantes deveremos res-

A B C D E F G H
I J K L M N O P Q
R S T U V X Z

liantar D. Henrique, que não pertence apenas à história de Portugal: é uma figura notável em todo o mundo pelos serviços prestados nos Descobrimientos.

Foi o principal promotor da empresa militar, donde resultou a conquista de Ceuta, praticando aí feitos de extrema valentia. Arrostando contra o parecer de uns e contra o temor de outros, insistiu tenazmente com os marinheiros que ia educando, e os segredos das Ilhas do Atlântico e da Costa Ocidental da África começaram a desvendarem-se.

Gramática

Escreve uma frase nos tempos: Presente; Pret. perfeito; Pret. Imperfeito; Pret. mais que perfeito; Futuro do Indicativo; Presente do conjuntivo; Pret. imp. do Conj; Futuro do Conj; Condição do verbo estudar com as palavras o João... adão

O João estuda a lição

O João estudava a lição

O João estudava lição
 O João estudava lição
 O João estudava lição
 O João estude a lição
 O João estudava lição
 O João estudava lição
 O João estudava lição

$$2,759 \text{ km}^2 + 6053 \text{ a} + 8695 \text{ m}^2 + 420,86 \text{ km}^2 + 3420,7 \text{ dm}^2 +$$

$$+ 42986 \text{ ca} + 8,2759 \text{ ma} + 352,74 \text{ dam}^2 + 538,6 \text{ cm}^2 +$$

$$+ 864,75 \text{ ha} = \text{m}^2$$

$$2759000 \text{ m}^2 + 60530 \text{ m}^2 + 8695 \text{ m}^2 + 4208600 \text{ m}^2$$

$$+ 34207 \text{ m}^2 + 4298600 \text{ m}^2 + 8275900 \text{ m}^2 + 35274 \text{ m}^2$$


$$+ 05386 \text{ m}^2 + 8647500 \text{ m}^2 +$$

8-XI

8-XI-1966

Redações As árvores

De todas as árvores tenho a certeza que a oliveira é de todas a mais útil em Portugal. Eu vou falar de árvores. As árvores acompanham o homem desde pequenino, até à sua morte. Eu conheço muitas árvores. A macieira, a pereira a bananeira, etc. De entre elas a oliveira é a melhor árvore que eu conheço. A oliveira serve para muitas coisas. Para lenha para azeite, etc. Vou dizer como se fabrica o azeite. Primeiro exprime-se a azeitona com umas máquinas próprias. Depois vão para as prensas, o azeite misturado com a água rura cai para uns tanques. Mas o azeite leva muitas impurezas. E acontece que o azeite vai para cima donde se tira



Problemas

I - $14,85 \overset{m}{\div} 0,6 = 2,475m$

14,85	106
28	2,475m
45	
30	
0	

R = 2,475m

II - $17,5 \div 3,5m = 5 \text{ cortes}$

17,5	35
00	5

R = 5 recortes

III $900800 \div 0,3$

900800	3
0	3.000.000

R = 3.000.000

IV - $10570m \div 3,5h =$

10570	35h
007	3.020m
00	

R = 3.020

V - $96,75l \div 0,75l = 129$

96,75	75
217	129
675	
00	

Ditado

No segundo cerco foi mister acudir a D. João de Castro, um dos Governadores mais notáveis que tivemos, pela ciência, valentia, e probidade.

Desbaratados os sitiantes numa batalha campal, o Governador, como grande estrategico que era, procurou reparar a fortaleza ou, antes, construí-la de novo, pois ficara em ruínas.

Para conseguir o dinheiro necessário, que empenhar as barbas na Câmara de Joazeiro esta, restituindo o honrado penhor, mandou vinte mil pardais que sobre ele pedia D. João de Castro.

Gramática

Classifica morfologicamente as palavras no segundo cerco

No. Contração da preposição em com o artigo

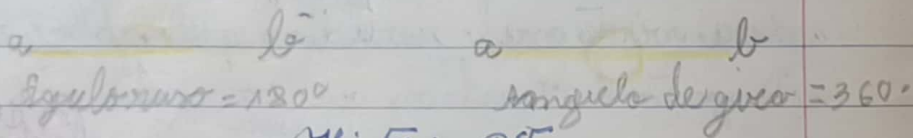
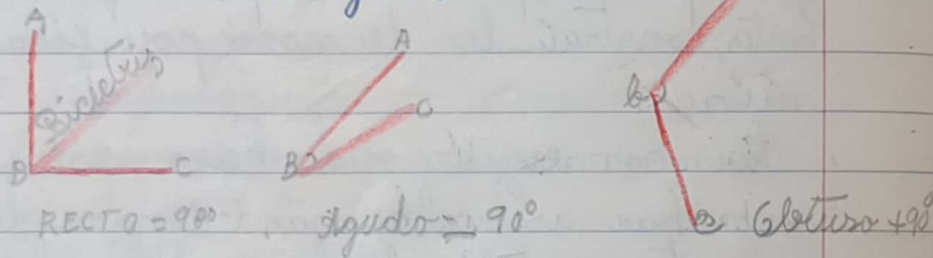
Segundo — numeral ordinal

Cerco — Substantivo comum masculino

Boa

Foi - forma do verbo ir infinito
 mister - substantivo
 Acudir - forma do verbo acudir infinito
 A - preposições simples
 Dio - substantivo próprio
 O - artigo masculino singular
 Poder - Substantivo comum **dup.**

Geometria
 Ângulos



História Pátria

- a) Quem foi o fundador da Nacionalidade Portuguesa
 b) O que fez ele durante a sua vida
 c) Quais as batalhas que teve com o Rei de Leão para conseguir a Independência?

d) Em que ano nos foi dada a Independência e aonde?

- e) E depois do Tratado de Zamora, o que fez D. Afonso Henriques?
 f) Diz o nome de algumas terras por ele conquistadas.
 g) Quem ajudou quem ajudou D. Afonso Henriques nessas conquistas?
 h) Conhece o nome de alguns monumentos por ele fundados?

- a) Foi D. Afonso Henriques
 b) Lutou com o rei de Leão, e contra os mouros
 c) Corneja e de Valdevez.
 d) Em 1143 pelo tratado de Zamora
 e) Lutou contra os mouros para alargar o território
 f) Santarém, Lintra, Alameda, Palmela e outras
 g) Grandes guerreiros como: D. Fuas Roizinho, Martim Moniz, Mem Ramires, bruzados e as Ordens Religiosas;
 h) O convento de Santa Cruz, a Sé Velha em Coimbra e outros.

Boas

Redacção

- a) Diz o que aprendeste na pequena história que vos contei antes de falarmos no 3º Mandamento da Lei de Deus e no 1º da Santa Igreja.
- b) Qual é o dia que Deus guardou para Ele?
- c) Para santificarmos o Domingo, o que devemos fazer?
- d) Agora escreve o que nos diz o 3º Mandamento da Lei de Deus.

e) Escreve também o 1º Mandamento da Santa Igreja





a) Aprendi que nós devemos guardar o Domingo para irmos à missa e descansarmos

b) O dia que Deus guardou para ele

foi o domingo?

- c) Devemos rezar às missas e a todos os actos do culto?
- d) O 3º Mandamento ensina-nos a santificar os domingos e festas de guarda.
- e) Cuidar missa inteira e abster-se de trabalhos servis nos domingos e festas de guarda

Ditado



Enquanto as forças não nos permitirem estudar os trabalhos do nosso maior escritor procuremos reter o nome do Poeta e o título da sua ^{obra} principal — Os Lusíadas. Mais tarde seguiremos nessa obra a viagem de Vasco da Gama, desde a praia do Presteio até à Índia.

A vida de Portugal, a nossa história, acha-se aí resumida em episódios de uma beleza incomparável! Ganha a arma da ~~am~~ ⁺ mar largo, e os marinheiros olham, saudosos, muitos pela ⁺ última vez a terra a desaparecer.

Vêm, depois, os mil trabalhos da jornada - doenças, traições, combates, tempestades - e, por fim, encontramos um rei amigo, o rei de Melinde.

Gramática

Escrever, do Ditado palavras

Sinónimas

Preter - aprender

Presumida - em poucas palavras

Episódios - factos

Antónimos

Tarde - cedo

Incomparável - comparável

Amigo - inimigo

Palavras derivadas

Força - forçoso, forçosamente, ~~o~~ forçar

Viagem - viajante, ~~viagador~~ etc
 História - histórico, historiador etc

Aritmética

Efectua as operações

	35
12A 6M 15d 18h 20m	69 16 15 1176
15 8 20 12 35	20A 4M 16d 12h
+ 9 7 16 15 42	- 62 7 09 20 30
37 22 52 46 97	7 ^A 9 ^M 6 ^d 15 ^h 39 ^m
10 22 22 37	P

97	60	46	24	52	30	22	12
37	1	22	1	22	1	10	1

Ditado

Os Portugueses gemeram, durante ~~seis~~ ⁺ sessenta anos, sob a dependência de Castela. Os ~~re~~ ⁺ vascos sofridos avivavam cada vez mais o espírito patriótico, até que, no dia 1^o de Dezembro de 1640, os Portugueses puderam libertar-se do pesado cativeiro.

Não podia perder a independência uma ⁺ nação onde se falava uma ⁺ língua tão be

la como a portuguesa, e que, pela valentia e pelo ~~o~~ espírito de sacrificio dos nossos soldados e dos nossos missionarios, se tinha ~~es~~propalado por todo o mundo, desde a America até ao Extremo Oriente; onde se tinham praticado accões heróicas, m como as dos Descobrimentos, interessavam toda a hu-
manidade.

Gramática

Análise sintática

Sublinha os verbos das frases a seguir e responde às perguntas

«Alexandre Herculano foi um grande historiadador e escreveu muitos livros.»

Quantas orações tem o período? Tem duas

Qual o sujeito? Alexandre Herculano - A, H

E os predicados? foi um grande historiadador - ~~o~~ escreveu

Que função desempenha «um grande historiadador» nome predicativo de sujeito

E a expressão «muitos livros» complementos directos

Prof

$$2,759t + 400,80m^3 + 8,4276g + 56,94dag + 43213dm^3 + 9,3582m^3 + 5,39689 + 6,2835m^3 + 97,526kg + 52074dg + 7531,8cg + 8642mg = Kg$$

$$2759kg + 400,93kg + 0,84276kg + 56,94kg + 43,213t + 10,093582kg + 539,68kg + 6283,5kg + 97,526kg + 0,52074kg + 0,75318kg + 0,008642 = kg$$

2759kg	
400,93	
0,84276	
56,94	
43,213	
10,093582	
539,68	5
6283,5	5
97,526	
0,52074	
0,75318	
0,008642	
96459846182	

P

Redação - O Pão



Nós não devemos estragar o pão porque há muita gente pobre que não tem dinheiro para o comprar. Por isso, não o devemos estragar. Há muita gente que o atira fora como uma coisa sem valor mas nós não devemos proceder assim. O pão é feito dos cereais. Deus, até se introduziu no pão talvez por andarmos a aventá-lo. Os cereais vão para as eiras onde são debulhados o grão vai para o moinho onde fica uma farinha vai para nossas eiras ou para as padarias de onde se fabrica o pão.

Conta com prova real

$$3508,6 : 0,0008605 = (\text{até às centésimas}) 4077396,86$$

9686

3508,60000000		0,0008605	4077396,86
066600		4077396,86	<u>0,0008605</u>
66350			2038698430
34150			2446438116
83350			<u>3261917488</u>
59050			350859998030
74200			<u>0,000001970</u>
53600			350860000000
0,000001970			

Ditado

Durante 40 anos de Revolução Nacional o nosso País progrediu e pôs-se a par de progressivas nações.

Uma política interna e externa com rumo inalterável tornou possível modificar o conceito em que internacionalmente éramos tidos.

Hoje é com legítimo orgulho que passadas as nossas fronteiras patenteamos a Naci.

onalidade Portuguesa e com maior orgulho ainda damos conta do respeito e carinho que imediatamente nos envolvem.

Em tempos remotos Portugal descobriu o mundo; recentemente o mundo parece ter descoberto Portugal. Nunca um número tão grande de Estrangeiros acorreu ao nosso País. Turistas atraídos pela beleza da paisagem pela serenidade dos costumes procuram as nossas cidades e vilas invadem as nossas praias e termas em ruidosa alegria.

Gramática
Análise morfológica

Classifica as palavras:

- (Constante) - Durante - Adescribivo de tempo
- Revolução Nacional - Locução substantiva própria
- o - Artigo indefinido masculino singular
- nosso - Adjectivo determinativo possessivo
- País - Substantivo próprio
- Progrediu - Forma do verbo progredir
- progressivos - Adjectivo qualificativo
- Uma - Artigo indefinido


Política - Substantivo

Aritmética

Reduzir a dal e adicionar

2759,6 dl = 27,59 dal	27,596 dal
40,035 hl = 400,35 dal	400,35
62,143 mbc = 62,143 dal	6,2143
73528 m ³ = 735,28 dal	735,28
5640,7 cl = 5,6407 dal	5,6407 <u>5</u>
325,43 dm ³ = 32,543 dal	32,543
430014 l = 430,014 dal	430,014
286095 m ³ = 286095 dal	0,0286095
75326 kg = 753,86 dal	753,86
42752 em ³ = 4275,2 dal	4275,2
	<hr/>
	62900287095

Redacção - Uma bela acção



Nós não devemos ficar com aquilo que não nos pertence porque só nos causa preocupações e sobresaltos e muitas vezes ainda vamos parar à cadeia. Vou contar uma história para mostrar o que devemos fazer um menino indo para a escola encontrou um relógio de pulso, spanhou-o e foi para a escola, No caminho, encontrou um guarda e o menino deu-lhe o relógio e foi para a escola muito contente

Religião

a) Sobre a vossa lição de hoje, responde às perguntas estas

- a) Quem é o nosso maior amigo?
- b) É nós sabemos se gratos para com Ele? Porquê?
- c) Quais foram as primeiras pessoas ingratas para Deus?
- d) É por causa da desobediência de Adão e Eva o que resultou?
- e) O que é pecado?
- f) Que espécie de pecado conheceis?
- g) Quando pecamos mortalmente, o que acon-

tece?

h) É para que Deus volte a habitar em nós, o que devemos fazer?

i) Quais as condições para haver pecado mortal?

- a) O nosso maior amigo é Deus
- b) Muitas vezes não somos gratos para Ele, porque devemos amá-Lo, e esquecemo-Lo; devemos adorá-Lo, e desobedecemos-Lo
- c) Foram Adão e Eva os primeiros que desobedeceram a Deus
- d) Resultou a doença e o sofrimento do pecado dos nossos primeiros Pais
- e) A desobediência a Deus, é o pecado mortal e o venial
- f) Deus foge de nós
- h) Uma confissão bem feita e o arrependimento de Deus
- i) Matéria grave, perfeito conhecimento e completo consentimento

Ditado

18-XI-1966



Quando as lanchas estão em perigo, as mulheres poveiras acorrem à praia e imploram o auxílio de S. José e de Nossa Senhora da Lapa.

Aos gritos dilacerantes das mulheres corresponde a heroicidade dos pescadores, que vão arriscar a vida para acudir aos companheiros em luta com as ondas.

Entre os heróis é justo salientar um nome, José Rodrigues Meais o Cego do Meais — que tantas e tantas vezes se arriscou para salvar mais de oitenta vidas.

Presentindo o furor da água, se tinham ficado lanchas ao largo, saltava da cama,

corria à praia e observava atentamente os ares.

Gramática

Sublinha os verbos do período a (a) seguir e responde às perguntas:

« O Cego do Meais salvou mais de oitenta vidas e a Póvoa ergueu-lhe um busto na praia »

Quantas orações tem? *Tem duas*

Classifica-as — *Salvou e ergueu*

Quais os predicados — *Salvou e ergueu*

E os sujeitos — *Cego do Meais e Póvoa*

Qual a função ^{da} expressão mais de oitenta vidas » e um busto » *Complemento directo*

E a forma pronominal « lhe » *Complemento indirecto*

História

a) *Telem* conquistou Silves aos mouros pela 1ª vez

b) — Quando se reuniram as cortes históricas

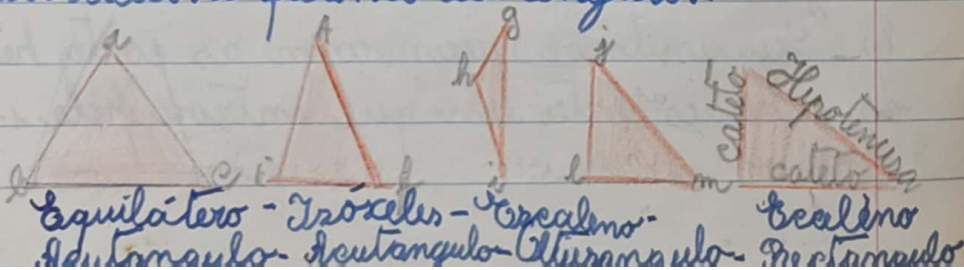
c) — *Telem* ^{as} cortes em que entrou pela 1ª vez o Povo

- d) Qual o rei que conquistou o resto do Algarve
- e) Qual o rei mais instruído da 1ª dinastia
- f) Quando se deu a Batalha do Salado
- g) Quem fundou a 1ª Universidade e o 1º nome desta
- h) Qual o rei que mudou a capital de Coimbra para Lisboa?

- a) Foi D. Sancho I pela 1ª vez
- b) Foi no reinado de D. Afonso II *em Coimbra*
- c) Foi nas cortes de Coimbra que entrou p
- d) Foram as Cortes de Leiria no reinado de
- e) Foi D. Dinis o rei mais instruído da 1ª din
- f) Foi no reinado de D. Afonso IV
- g) Foi D. Dinis com o nome de Estudo Geral
- h) Foi D. Afonso III que a mudou

Geometria

Classifica os triângulos a seguir quanto aos lados e quanto aos ângulos:



Ditado

Um dos mais encantadores lugares do Ribatejo é o Vale de Santarém, aldeia celebrizada por Garrett, com os seus rouxinóis e a sua amenidade incomparável.

Numa bela tarde de Primavera, saímos de Santarém, com vários companheiros, e caválgamos pela Beizéria em direcção a Valada. Depois de galoparmos longo tempo, embriagados de ar puro e vida livre, ao cair a noite, entramos pelo Vale de Santarém e ponte de Balseca em direcção à cidade. Com os cavalos a passo, iam os calados e recolhidos, como se receássemos com as nossas palavras perturbar a paz exterior.

Os rouxinóis, às dezenas, empoleirados nos choupos altos e esguios, atiravam para o céu as suas divinas cantigas.

Gramática

Classifica morfologicamente as palavras

Um - É um *pronome* indefinido

Dos - Contração da *preposição* de com o artigo os

Mais - É um advérbio de quantidade
 Encantador - É um adjetivo verbo encantar
 Lugares - É um substantivo
 Do - É a contração da preposição de com o artigo
 Ribatejo - É uma locução substantiva própria
 É - É a forma do verbo ser
 O - É um artigo definido
 Vale de Santarém - É uma locução substantiva própria

Problemas

I Dois amigos têm juntamente 150 000 mais um deles tem o dobro do outro qual é a quantia de cada um?

$$150000 \div 3 = 50000$$

$$150000 - 50000 = 100000$$

II - O pai e o filho trabalham numa oficina ganhando os dois por dia 48 000 quanto ganha o pai sabendo que o filho ganha 0,2 por dia

$$48000 \times 0,2 = 9600$$

$$48000 - 9600 = 38400$$

III - Uma mulher comprou uma galinha por 25 000 por quanto a há de vender para ganhar 0,3 daquela quantia?

$$25000 \times 0,3 = 7500$$

$$25000 - 7500 = 17500$$


IV O pavimento de um pátio tem 8 filas de mosaicos e cada fila tem 22 mosaicos e cada mosaico tem 16 dm² de superfície do pátio?

$$22 \times 8 = 176$$

$$176 \times 16 \text{ dm}^2 = 2816 \text{ dm}^2$$

$$2816 \text{ m}^2$$

Redacção
Os rios



Os rios dão-nos muitos benefícios entre eles a electricidade e os seus peixes como o barbo as trutas o sável etc. para a nossa alimentação.

Os rios também são óptimos, para fazer mover fábricas e moinhos.

A electricidade é muito boa, e quanto aos benefícios nos dá também, antigamente não havia electricidade e tudo era uma tristeza, mas agora podemos vencer o muitas dificuldades graças aos rios

duf

$$964307582,70000 \div 7,58 = 127217359,195$$

964307582,7000	0	7,58	
2063			127217359,195
5470			
1647			127217359,195
1315			7,58
5578			977738873560
2722			636086795975
4487			890921514365
6970			96430758269810
1480			900190
7920			96430758270000
3980			
900190			

22 de Novembro 1966 Lourenço Manuel
Ditado

No dia 23 de Abril de 1500, Pedro Álvares Cabral lançou âncora em frente de um pequeno rio, e, achando bom o ancoradouro, deu-lhe o nome de Porto Seguro.

Os portugueses foram-se fixando na terra, estabelecendo cruzamentos com os selvícolas e com os negros idos da África, e, dentro em pouco, opunham-se vitoriosamente às tentativas dos conquistadores franceses, holandeses e ingleses.

No século XVIII descobriam-se no Brasil as célebres minas de ouro, e diamantes tão exploradas no tempo de D. João V. Em virtude das invasões francesas, a nossa corte vê-se obrigada a abandonar a Corte e dentro em pouco, o Rio de Janeiro, povoação insignificante, atinge grande esplendor pela criação de estabelecimentos de ensino, bibliotecas, museus, tribunais etc.

Gramática

Sublinha os verbos do período e responde às perguntas:

«Pedro Álvares Cabral nasceu em Belmonte e foi o descobridor do Brasil»

Quantas orações tem o período? Tem duas
Como as classifica-as? principal e coordenada

Qual o sujeito das duas? Pedro Álvares Cabral - P.A.C.
E os predicados? nasceu e foi o descobridor
Que função desempenha a expressão «o descobridor»? Nome predicativo do sujeito

Problema


I - O Paulo e o filho ganharam 9000 recebendo o filho 0,75 do que ganha o pai. Qual é o salário de cada um

9000	1 + 0,75 = 1,75	9000,00	1,75
9000	= 51650 = 38450	02500	51843
		0750	
		0506	

P = 38450 ao filho e ao pai 51850,05

Redação

II -



Conheço muitos animais domésticos. De

todos, o mais útil é o boi. Ele até é capaz de acorrentar grandes carradas e serve para muitas coisas. Os chifres, servem para muitas coisas, como botões e até para fazer as miniaturas, etc. Também se come a carne. Mas há um animal ainda mais útil, a vaca, que nos dá a carne, o leite, que é um grande alimento para nós crianças, e para se fabricar queijo e manteiga. Também nos dá o vitelinho que tem a carne muito boa.


Aritmética

$$2,705 \text{ cm}^3 + 40098 \text{ ml} + 8,643 \text{ m}^3 + 519,86 \text{ dl} + 975,34 \text{ l} + 86405 \text{ m}^3 + 64732 \text{ dm}^3 + 5,2149 \text{ Kl} + 92,75 \text{ l} + 72,10 \text{ Kl} = \text{dal}$$

$$902705 \text{ dal} + 740098 + 8643 \text{ dal} + 54086 \text{ dal} + 975,34 \text{ dal} + 6485 \text{ dal} + 64,732 \text{ dal} + 521,91 \text{ dal} + 92,75 \text{ dal} + 72,104 \text{ dal} + \text{dal}$$

902705	5,1086 dal	64,732 dal	980,465	868,33685
4,0098	975,34	52,149	678,972	
<u>+8643</u>	<u>0,006485</u>	<u>92,75</u>	<u>72,104</u>	
868,33685	980,467005	678,972	753,49027	

Ditado



O trecho do rio que eu tinha percorrido é extraordinariamente pitoresco. Nas suas margens, principalmente na esquerda, a vegetação atinge enorme desenvolvimento. São gigantescos maciços de árvores, de um verde carregado e sombrio, onde a luz quase não penetra, e onde se desenvolvem, na meia-obscuridade, os fetos, os musgos e as trepadeiras. De quando em quando, um afluente despeja do alto as suas águas, que formam lindas e aparatosas cataratas. Mas os pequenos regatos, que, de um e de outro lado, se precipitam na corrente impetuosa, são inúmeros, estirando na cor verde das margens,

longas fitas de espuma, de vinte a trinta metros, que, à luz do Sol despedem mil reflexos dourados e prateados.

Aritmética **Boa**

Um depósito de fundo quadrado com $1,75\text{m}$ de lado tem água até $\frac{2}{5}$ da sua altura que dá de $3,5$ quantos litros de água contém

$$L = 1,75\text{m} \times \frac{2}{5} \times 3,5\text{m}$$

$$S = \frac{L \times L}{2} = \frac{1,75 \times 1,75}{2} = 3,0625\text{m}^2$$

$$3,0625\text{m}^2 \times 3,5\text{m} = 10,71875\text{m}^3$$

$$10,71875 \times 2 = 4287,5\text{L}$$

$$S = \frac{L \times L}{2} = \frac{1,75 \times 1,75}{2} = 3,0625\text{m}^2$$

$$3,0625\text{m}^2 \times 3,5\text{m} = 10,71875\text{m}^3$$

$$10,71875 \times 2 = 4287,5\text{L}$$

Ditado

Às vezes, escondidos na espessura, apenas deixam ouvir as suas vozes sussurrantes, que se fundem no grande silêncio reinante naquelas vastas regiões abandonadas, onde apenas se descobre um ou outro povo aninhado nas margens. Lá, o pombo bravo, o papagaio voam sobre a corrente, de margem para margem, agrada dos destas grandes florestas sempre verdes e vivas, que megulham nas margens águas as raízes e as ramagens. Nelas aparece toda a casta de macacos. Acodem também às margens, banhando-se ou bebendo, o porco-bravo e a pequenina e delicada gazela. Às vezes, um bando majestoso de elefantes, atravessa o rio lentamente.

Gramática **Boa**

Escreva uma frase com as palavras «oi lanche comeu» no presente, no pretérito e no futuro. Depois mudam a 1ª frase para a voz passiva?

Presente indicativo

O yosi come o lanche

Preterito perfeito

O yosi comiu o lanche

Futuro Ind.

O yosi comerá o lanche


Voz passiva O lanche é comido pelo yosi

Reduzir a kg e adicionar

Boz

275,08 cm ³ = 27,508 hg	27508 hg	
40095 m ³ = 40095 hg	40095	
6275,3 g = 62,753 hg	62,753	
53864 t = 538640 hg	538640	
4290,5 mg = 42905 hg	9042095	
75,369 hg = 75,369 hg	75,369	
65493 m ³ = 65493 hg	0,65493	0
421,86 dg = 42,186 hg	42,186	0
53694 dg = 53,694 hg	53,694	
75,386 cg = 7,5386 hg	0,075386	
35034 div = 3503,4 hg	3503,4	
28695 g = 2869,5 hg	2869,5	
	<hr/>	
	58537482411	

Redação - A caridade




Nós devemos fazer o melhor que pudermos para andarmos sempre contentes e também com isso podemos fazer caridade. Vou contar uma história que o mostra. Um menino andava sempre a pedir à mãe que lhe desse alguma coisa para dar a um velhinho que ali morava perto. Esta história dá-nos um exemplo de caridade. Já li no meu livro de leitura outra que vou contar. Mas não é só dando que a gente faz caridade. Um menino andando por uma floresta viu uma velhinha carregada de lenha e o menino ajudou-a.

Reduzir a um complexo o número

$\neq 90845 \neq =$

790845	60s	13180m	60m	219h	24h
190		13180m	118	219h	03 9d
188			580		
484			40m		
045					

Ditado



De repente avisto a uns duzentos metros oito búfalos que pastam em paz e sossego. Não percebo nem coitados a proximidade do inimigo. Aligeiro o passo. Entre mim e eles só há uma distância de cem metros. Agacho-me e rastejo em direção dos búfalos até uns cinquenta metros. Um deles apre-

renta-se de flanco, ~~diz~~ eu aponto facho fogo. Os búfalos voltam-se ao mesmo tempo e rapidamente para o sítio donde partira a detonação e preparam-se para a carga. Ergo-me para me firmar e visar melhor o inimigo. Os búfalos de sobrem-me precipitam-se contra mim de cauda espetada no ar e as hastes emriste.

Gramática

Escreva o 1º período do Ditado, sublinhe os verbos e responda às perguntas a seguir

De repente avisto a uns duzentos metros oito búfalos que pastam em paz e sossego»

Quantas orações tem? Tem duas

Classifica-as? Principal e subordinada relativa

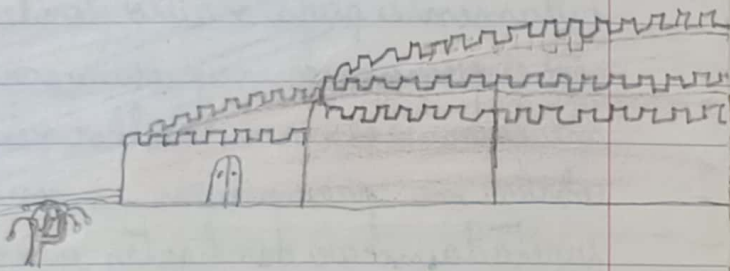
Quais os sujeitos? eu; os búfalos

Os predicados? avisto; e pastam

Qual a função da expressão «oito búfalos»? Complemento directo

Ditado

Ditado



A cidade de Mocimboa na pequena ilha do mesmo nome, encontra-se a uma pequena distância da costa da nossa África Oriental. Já foi a capital da província, mas está hoje muito caída da sua antiga importância.

O que ela apresenta de mais notável é o seu histórico e enorme castelo, formidável ca de fortificação para o seu tempo.

Ainda hoje ele se impõe a nacionais e estrangeiros como um padrão inextinguível de valor, de ciência e de pertinácia da grande raça portuguesa do século XVI. Foi, pode dizer-se, esta fortaleza, construída com pedras de Portugal, transportada nas naus, que assegurou

nos e que firmou o domínio português em toda a costa de Moçambique.

Aritmética

Boa

Efectua as operações

$$27509 \times 100 = 2750900$$

$$64,95 \times 0,1 = 6,495$$

$$64,375 \div 10 = 6,4375$$

$$27596 \times 0,01 = 275,96$$

$$900864 \times 1000 = 900864000$$

$$3,5869 \div 0,001 = 3586,9$$

$$8075,3 \div 1000 = 8,0753$$

$$8,6437 \div 0,01 = 864,37$$

Das fracções a seguir, escreve no seu devido lugar as ordinárias, decimais, próprias e impróprias.

$$\frac{3}{5}, \frac{15}{10}, \frac{20}{100}, \frac{2}{8}, \frac{9}{6}, \frac{25}{1000}, \frac{4}{6}, \frac{5}{5}$$

$$5 \quad 10 \quad 100 \quad 8 \quad 6 \quad 1000 \quad 6 \quad 5$$

Ordinárias: $\frac{3}{5}, \frac{8}{4}, \frac{2}{8}, \frac{9}{6}, \frac{4}{6}, \frac{5}{5}$

Decimais: $\frac{15}{10}, \frac{20}{100}, \frac{25}{1000}$

Próprias: $\frac{3}{5}, \frac{20}{100}, \frac{2}{8}, \frac{25}{1000}, \frac{4}{6}$

Impróprias: $\frac{15}{10}, \frac{8}{4}, \frac{9}{6}, \frac{5}{5}$

Ditado

Timor é uma das ilhas do arquipélago da Sunda, situado ao norte da Austrália. Pertence a Portugal e à Indonésia. É portuguesa a parte oriental, a região de Oussai-Imbemo, que fica encaixada no território da Indonésia, e os ilhéus de Atauro e Jaco.

A ilha é muito montanhosa: o Pámelau, que tem uma altitude de quase três mil metros, é o seu pico mais elevado. O solo de Timor é fertilíssimo, em especial a região do Sul.

Abundam as madeiras preciosas: o sândalo, o pau-rosa, o pau-preto, o eucalipto, a caneleira e o bambu, etc. Cultiva-se o café, o coqueiro, o algodão, o cacáu e as oleaginosas. A borracha e a cera são exploradas.

Gramática

Escreve do Ditado palavras:

Sinónimas Antónimas

Bandos grupos $\left\{ \begin{array}{l} \text{Saíam} - \text{Entravam} \\ \text{Impotentes} - \text{potentes} \end{array} \right.$

Estabeleceram - $\left\{ \begin{array}{l} \text{potentes} - \text{potentes} \\ \text{Abreada} - \text{hasteadas} \end{array} \right.$

Pilhar roubar

Impotentes - sem forças $\left\{ \begin{array}{l} \text{Inimigos} - \text{amigos} \end{array} \right.$

Derivadas

Mar - marítimo marinho marinheiro

Terra - terreno terreno terra bravo

Auxílio - auxiliar auxiliando

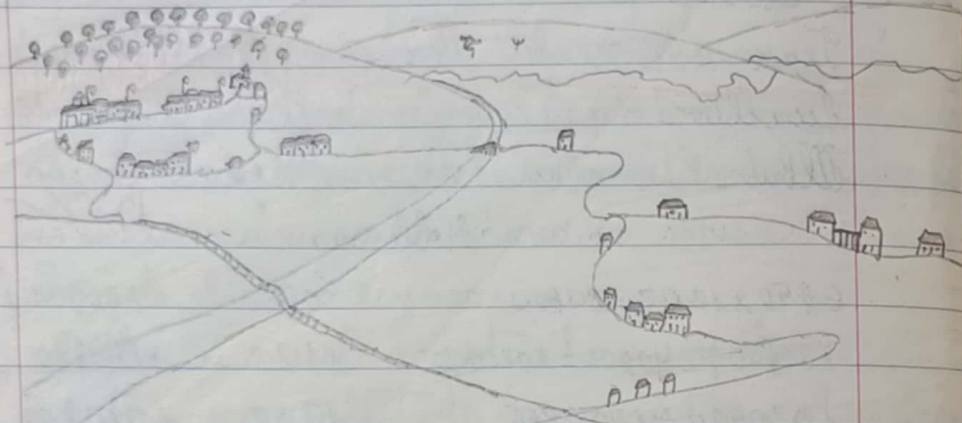
Ilha - Ilhota ilhéu ilheiros

I Problemas

$6450 \times 120 = 780400$	C 450	780400	1.020400
$780400 + 240400 = 1.020800$	$\times 120$	+240400	06000 0000
$1.020800 \div 120 = 845$	1300	1.020400	
	65		
	780400		

II $206 \times 2120 = 44800$	2420	44800	5450
$44800 \div 5150 = 8m$	$\times 206$	0000	8m
	44800		

Pedacção



A minha terra é muito bonita. Tem uma igreja, o cemitério, o depósito de água que na Primavera e no Verão está cheia de andorinhas e outros pássaros. Também tem quatro cafés, umas tabernas, seis ou sete lojas, duas escolas, mas o que é melhor para mim é a minha casa, a minha família e a igreja onde fui baptizado. Caria é muito rica e tem o posto da Guarda Nacional Republicana

Aritmética

$$2750,9 \text{ cm}^2 + 42953 \text{ Km}^2 + 621,25 \text{ ca} + 437,28 \text{ hb} + 64275 \text{ m}^2$$

$$42,75 \text{ a} + 91058 \text{ ma} + 795,8 \text{ dm}^2 + 52973 \text{ m}^2$$

$$0,0027509 \text{ dam}^2 + 42953 \text{ dam}^2 + 6,2175 \text{ dam}^2 + 4372,3 \text{ dam}^2$$

$$+ 900064275 \text{ dam}^2 + 142,75 \text{ dam}^2 + 910580 \text{ dam}^2 + 907958 \text{ da}$$

$$+ 52973 \text{ dam}^2 = \text{dam}^2$$

$$0,0027509 \text{ dam}^2$$

$$42953$$

$$6,2175$$

$$4372,3$$

$$900064275$$

$$142,75$$

$$910580$$

$$907958$$

$$52973$$

$$958060,4473175$$

Ditado

As formigas-brancas ou térmitas são dos insectos mais nocivos que se encontram na África Portuguesa. Como o seu principal alimento é a m

deira fazem grandes estragos nos edifícios e plantações.

Há lugares em que a terra está completamente minada: pousando-se à noite numa tábua no solo de manhã já se encontra roída. Trabalham sempre às escuras protegidas por uma camada de argila amassada com a própria saliva. Sustentam verdadeiras guerras com umas pequenas formigas pretas que quase só de formigas brancas se alimentam. Por isso estas trabalham sempre protegidas por um túnel de barro. Quando são atacadas pelas formigas pretas tapam rapidamente todas as entradas sem se importarem com as que ficam de fora.

Problemas

I - $2.040.000 + 600.000 = 2.640.000$ | 2

$= 2.640.000$ 06 1.320.000

$2.640.000 : 2 = 1.320.000$ 04

0

II - $4 \times 6 = 24$

$35.000 \times 24 = 840.000$

$\cdot 35.000$ 24
 $\cdot 24$
 $\cdot 140$
 $\cdot 72$

III - $27.000 + 30.000 + 7.000 =$
 $= 64.000$
 $100.000 - 64.000 = 35.000$

$\frac{100.000}{-64.000}$ $\frac{35.000}{10.000} | 25$
 35.000 0.500
 $R = 35.000$ 00

IV - $8h 35m - 14h 35m$
 $= 6h$
 $342 : 6h = 57 Km$

$\frac{342}{42} | 6h$
 0 $57 Km$

V - $120 l \times 2.50 = 300.000$
 $300.000 : 1.5 m = 200.000$

$\frac{300.000}{00} | 1.5 m$
 200.000
 $R = 200.000$

VI - $12 \times 12.000 = 144.000$
 $144.000 \times 0,05 = 7.200$
 $144.000 - 7.200 = 136.800$

$\frac{144.000}{00} \cdot 0,05$
 7.200
 $R = 136.800$

VII - $2.400 : 12,5 = 192$
 24.000

$\frac{2.400}{1450} | 12,5$
 0250
 000

