



Poesias divertidas

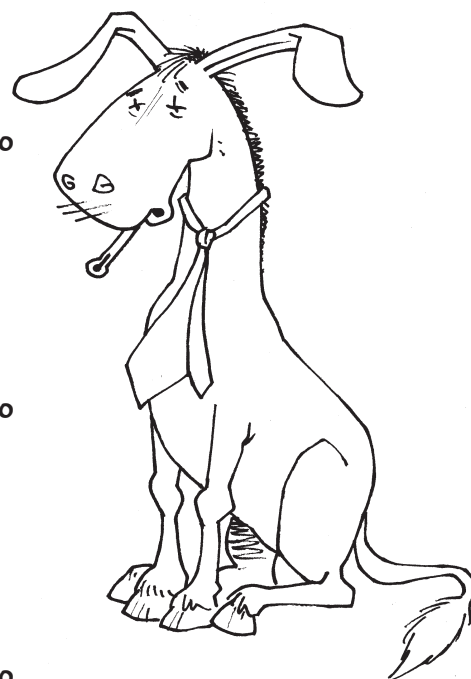
● Lê a letra desta poesia. **Observa** as imagens e **encerra** num as estrofes que não estão desenhadas.

O burro doente




Ao meu burro, ao meu burro
Dói-lhe a cabeça;
o médico pôs-lhe
uma gravata preta.

Ao meu burro, ao meu burro
Dói-lhe a garganta;
o médico pôs-lhe
uma gravata branca.



Ao meu burro, ao meu burro
Doem-lhe as orelhas;
o médico pôs-lhe
um gorrinho de penas.

Ao meu burro, ao meu burro
Dói-lhe o coração;
o médico deu-lhe
xarope de limão.




Ao meu burro, ao meu burro
já não lhe dói nada;
o médico deu-lhe
uma laranjada.

● **Responde** às seguintes perguntas:

O que põe o médico ao burro quando lhe dói a garganta?

Se o médico põe um gorrinho de penas ao burro, o que dói ao animal?

E que lhe receita quando lhe dói o coração?



A nossa poesia

- **Completa** cada estrofe com a frase correcta.
- **Escreve** os versos completos no teu caderno junto à imagem que corresponde a cada um.

*Ao meu burro, ao meu burro
 Dói -lhe o joelho,
 o médico deu -lhe*

*Ao meu burro, ao meu burro
 Dói -lhe o nariz,
 o médico deu -lhe*

*Ao meu burro, ao meu burro
 Dói -lhe só um olho,
 o médico deu -lhe*

*Ao meu burro, ao meu burro
 Doem -lhe quatro dentes,
 o médico deu -lhe*





bolachinhas de anis


xarope de centeio

xarope de sementes

uma sopa de repolho

- **Escreve** as estrofes debaixo da imagem que corresponde a cada uma.





Sopa de números

● Hoje o médico receitou ao meu burro uma rica sopa de números.



26 41 54 53 72
56 25 42 11

● **Ordena** os números de menor a maior.

● **Escolhe e completa** com o número correcto para que se faça a relação.

87 - 98 - 88
78 < - - - -

66 - 33 - 63
36 > - - - -

45 - 55 - 64
54 < - - - -

39 - 99 - 109
93 > - - - -

77 - 27 - 87
72 > - - - -


64 - 44 - 24
46 < - - - -

● **Completa** com o número anterior e posterior.

--- 59 --- --- 20 --- --- 64 --- --- 99 ---
--- 49 --- --- 71 --- --- 80 --- --- 60 ---
--- 93 --- --- 36 --- --- 79 --- --- 50 ---

● **Decompõe** os números da sopa e **escreve** os seus nomes como te mostra este exemplo.

53 = 50 + 3. Cinquenta e três.



A caminho do médico

O burro doente tem que ir ao consultório do médico.

● **Completa** o caminho, tendo em conta as indicações dos cartazes.

de 2 em 2
de menor
a maior

22

24

de 1 em 1
de maior
a menor


68 69

de 3 em 3
de maior
a menor

de 2 em 2
de menor
a maior

36 34

Os pacientes do médico



● Em coluna, **resolve** e **completa** a ficha do médico com os totais.



Pacientes atendidos	Segunda	Terça	Quarta	Quinta	Sexta
Manhã	22	39	16	22	19
Tarde	14	21	18	17	23
Total:	36	---	---	---	---

Esta é a quantidade de pacientes que atendi durante a semana



D	C

Segunda

D	C

Terça

D	C

Quarta

D	C

Quinta

D	C

Sexta

● Tendo em conta os dados da ficha, **responde** se estas afirmações são **verdadeiras** ou **falsas**.

O dia que mais pacientes atendeu foi sexta-feira.

V F

Quarta-feira atendeu 5 pacientes a menos que quinta-feira.

V F

Segunda-feira atendeu menos pacientes que sexta-feira.

V F

Terça-feira foi o dia que mais pacientes atendeu.

V F

Sexta-feira atendeu 3 pacientes a menos que terça-feira.

V F

Entre segunda-feira e terça-feira atendeu 90 pacientes.

V F

Sexta-feira atendeu 3 pacientes mais que no dia anterior.

V F