



Nome: _____ Data: _____

1. Desenha:

uma planta espontânea



uma planta cultivada



2. Faz a correspondência correta.

- | | | |
|-------------------------------|---|--------------------------|
| Os nenúfares vivem | ● | ● em terras muito secas. |
| O musgo e os fetos vivem | ● | ● na água. |
| Os catos e as palmeiras vivem | ● | ● em locais húmidos. |

3. Legendas a imagem com o nome das partes que constituem uma planta.




4. Escreve o nome das estações do ano de acordo com o que observas em cada imagem.



5. Qual é a tua estação do ano preferida? Porquê?

6. Relaciona cada animal com seu grupo.



Animais domésticos




Animais selvagens




7. Completa com o nome de animais, tendo em conta o lugar onde vivem.

Vive na terra	Vive na água	Vive no ar


8. Pensa em três animais que não vivem em liberdade no nosso país. Desenha-os e completa as suas descrições.



Eu sou um _____.
Tenho o corpo coberto de _____,
alimento-me de _____
e desloco-me a _____.



Eu sou um _____.
Tenho o corpo coberto de _____,
alimento-me de _____
e desloco-me a _____.



Eu sou um _____.
Tenho _____,
alimento-me de _____ e desloco-me
a _____.

Aluno: _____

Observações:

Data: ____ / ____ / ____ Professor(a): _____

Língua Portuguesa

Matemática

- Pinta a imagem. Podes completá-la com outros elementos que te façam lembrar a primavera.

