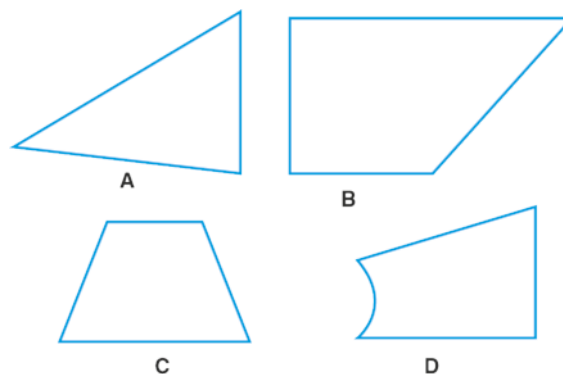


1 Descobre e indica qual das figuras corresponde à descrição seguinte:

- É um polígono
- Um dos seus lados é o dobro do seu lado mais pequeno.
- Dois dos seus lados são paralelos.

R.: _____

Nota: usa uma régua, caso necessites.

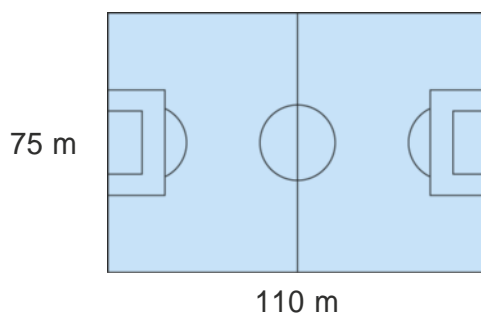


2 Na Feira da Saúde, na escola da Petra, fizeram batidos de fruta. Cada batido foi servido em copos que levavam um quarto de litro.

Observa os dados da tabela. Calcula quantos batidos foram servidos na Feira da Saúde.

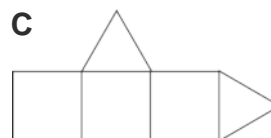
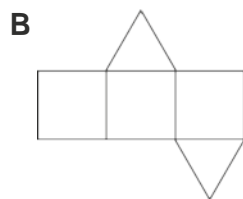
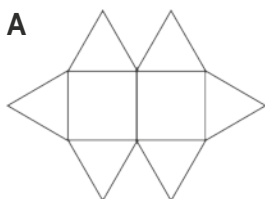
banca da Petra	banca do Damião
serviu 10 litros	serviu 6,5 litros

3 Perto da casa do Raul existe um campo de futebol como o que está representado na imagem. Os jogadores começam o aquecimento dando quatro voltas completas ao campo de futebol.



a) Ao todo, no final das 4 voltas, quanto falta, em metros, para percorrerem 2 km?

4 Das planificações representadas, qual delas corresponde à planificação de um prisma triangular?



5 A Luana tem em casa uma passadeira com faixas azuis e cinzentas alternadas, cada uma com 30 cm de largura.

a) Qual é o comprimento, em metros, da passadeira que tem 7 faixas cinzentas e começa e termina com uma faixa azul?