
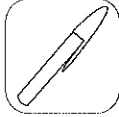




Calcular gastos

- Na tabela estão registadas as compras de três amigos.

	 20 cêntimos	 70 cêntimos	 40 cêntimos	 10 cêntimos
Maria	X		X	X
Luís		X		X
Ana	X	X		

- Responde de acordo com a tabela anterior.

– Quantas coisas é que a Maria comprou?

– Quanto dinheiro gastou a Maria?

– E o Luís, quanto gastou?

– E a Ana, quanto gastou?

– Qual dos amigos gastou mais dinheiro?

– Quem gastou menos dinheiro?

- Dos objectos seguintes, rodeia os que o Luís comprou.

