

Teste N.º 3

**Matemática A**

---

Duração do Teste: 90 minutos

---

**11.º Ano de Escolaridade**

---

Nome do aluno: \_\_\_\_\_ N.º: \_\_\_\_ Turma: \_\_\_\_

---

---

Utilize apenas caneta ou esferográfica de tinta azul ou preta.

Não é permitido o uso de corretor. Risque aquilo que pretende que não seja classificado.

É permitido o uso de calculadora.

Apresente apenas uma resposta para cada item.

As cotações dos itens encontram-se no final do enunciado.

---

---

Na resposta aos itens de escolha múltipla, selecione a opção correta. Escreva, na folha de respostas, o número do item e a letra que identifica a opção escolhida.

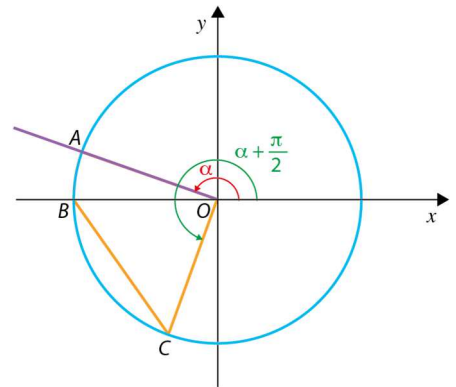
Na resposta aos restantes itens, apresente todos os cálculos que tiver de efetuar e todas as justificações necessárias. Quando para um resultado não é pedida a aproximação, apresente sempre o valor exato.

---

1. Na figura estão representados, num referencial o.n.  $Oxy$ , a circunferência centrada na origem e de perímetro igual a  $4\pi$ , o setor circular de centro  $O$  delimitado pelo arco  $AB$  e o triângulo  $[OBC]$ .

Sabe-se que:

- o ponto  $A$  pertence ao segundo quadrante e à circunferência;
- o ponto  $B$  é a interseção da circunferência com o semieixo negativo  $Ox$ ;
- o ponto  $C$  pertence ao terceiro quadrante e à circunferência;
- $\alpha$  é a amplitude, em radianos, do ângulo orientado que tem por lado origem o semieixo positivo  $Ox$  e por lado extremidade a semirreta  $\hat{O}A$ ,  $\alpha \in ]\frac{\pi}{2}, \pi[$ ;
- $\alpha + \frac{\pi}{2}$  é a amplitude, em radianos, do ângulo orientado que tem por lado origem o semieixo positivo  $Ox$  e por lado extremidade a semirreta  $\hat{O}C$ .



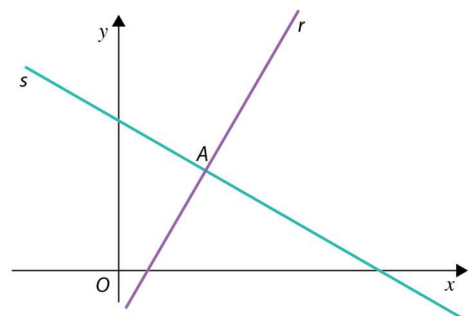
Seja  $P(\alpha)$  a expressão que dá o perímetro da região sombreada, em função de  $\alpha$ .

Mostre que  $\frac{P(\alpha)}{2} = 2 + \pi - \alpha + \sqrt{2 - 2\text{sen}\alpha}$ .

2. Na figura estão representadas, num referencial o.n.  $Oxy$ , duas retas  $r$  e  $s$ .

Sabe-se que:

- a reta  $r$  tem inclinação  $\frac{\pi}{3}$ ;
- a reta  $s$  é perpendicular à reta  $r$  no ponto  $A$ ;
- o ponto  $A$  tem ordenada  $\frac{2\sqrt{3}}{3}$ ;
- a reta  $s$  interseca o eixo  $Ox$  no ponto de abscissa 3.



Determine, recorrendo a processos exclusivamente analíticos, a equação reduzida da circunferência de centro em  $A$  e que é tangente ao eixo  $Oy$ .

3. Considere, num referencial o.n.  $Oxyz$ , dois pontos distintos  $A$  e  $B$ .

Qual é o lugar geométrico do conjunto dos pontos  $P$  do espaço que satisfazem a condição

$$\overrightarrow{AP} \cdot \overrightarrow{BP} = 0?$$

- (A) Plano mediador do segmento de reta  $[AB]$ .
- (B) Superfície esférica de diâmetro  $[AB]$ .
- (C) Plano tangente em  $A$  à superfície esférica de diâmetro  $[AB]$ .
- (D) Plano tangente em  $B$  à superfície esférica de diâmetro  $[AB]$ .

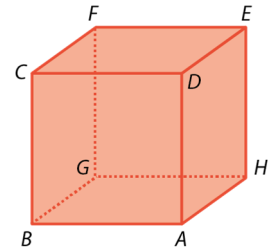
4. Na figura está representado o cubo  $[ABCDEFGH]$ .

Fixado um determinado referencial o.n.  $Oxyz$ , tem-se:

- o ponto  $E$  de coordenadas  $(7, 11, 4)$ ;
- o plano  $ACF$  definido pela equação  $x - 9y - 4z + 59 = 0$ ;
- a reta  $AG$  definida pela equação:

$$(x, y, z) = (17, -2, -1) + k(9, -4, -1), k \in \mathbb{R}$$

- a reta  $BH$  definida pela equação  $(x, y, z) = (8, 16, -7) + k(6, 16, -10), k \in \mathbb{R}$ .



Resolva os itens seguintes sem recorrer à calculadora, a não ser para eventuais cálculos numéricos.

4.1 Determine as coordenadas do ponto  $C$ .

4.2 Determine uma equação cartesiana do plano  $ABG$ .

Apresente a equação na forma  $ax + by + cz + d = 0$ , em que  $a, b, c$  e  $d$  são números reais.

5. Considere a sucessão  $(u_n)$  definida por:

$$\begin{cases} u_1 = a \\ u_{n+1} = -3u_n - n, \quad \forall n \in \mathbb{N} \end{cases}$$

Sabendo que o terceiro termo da sucessão  $(u_n)$  é 10, o valor de  $a$  é:

- (A) 1                      (B) -1                      (C) 3                      (D) -3

6. Considere a sucessão  $(u_n)$  de termo geral  $u_n = \frac{2-4n}{n+2}$ .

Estude a sucessão  $(u_n)$  quanto à monotonia.

7. Seja  $(a_n)$  a sucessão definida por:

$$\begin{cases} \cos(n\pi) & \text{se } n \leq 3 \\ \frac{8n+1}{n+2} & \text{se } n > 3 \end{cases}$$

Mostre que a sucessão  $(a_n)$  é limitada.

8. Qual das expressões seguintes é o termo geral de uma sucessão convergente?

- (A)  $-n^2 + (-1)^n$                       (B)  $n^2 \times (-1)^n$                       (C)  $\frac{-1}{(-1)^n} \times n^2$                       (D)  $(-1)^n \times \frac{1}{n^2}$

9. A Susana é adepta de desporto e decidiu participar na maratona do Porto, que acontecerá em novembro.

De forma a concluir com sucesso o seu objetivo, dará início a um plano de treinos, a partir de meados de junho.

Neste plano está incluído um treino semanal específico – treino longo – que implica, num dia fixo, percorrer a maior distância dessa semana.

Semanalmente, neste treino específico, é aumentado o número de quilómetros percorridos.

No treino longo da primeira semana, a Susana efetuará uma corrida de 5 km, aumentando depois, semanalmente, 2 km à distância percorrida.

Mantendo este plano de treinos, ao fim de quantas semanas terá a Susana percorrido, em treino longo, um total de 320 km?



10. Relativamente a uma progressão geométrica monótona  $(u_n)$ , sabe-se que:

- $u_9 = \frac{1}{27}$
- $u_{15} = 27$

O primeiro termo da progressão geométrica  $(u_n)$  é:

- (A)  $3^{-8}$
- (B)  $3^8$
- (C)  $3^{-11}$
- (D)  $3^{11}$

11. A soma dos sete primeiros termos de uma progressão geométrica de razão 2 é 381.

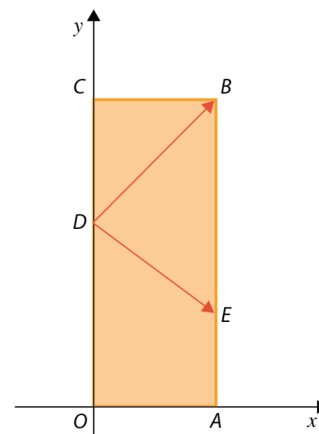
O termo geral desta progressão é:

- (A)  $\frac{3}{2} \times 2^n$
- (B)  $\frac{2}{3} \times 3^n$
- (C)  $\frac{2}{3} \times 2^n$
- (D)  $\frac{3}{2} \times 3^n$

12. Na figura está representado, num referencial o.n.  $Oxy$ , o retângulo  $[OABC]$ .

Sabe-se que:

- o ponto  $A$  pertence ao semieixo positivo  $Ox$ ;
- o ponto  $C$  pertence ao semieixo positivo  $Oy$ ;
- o ponto  $D$  pertence ao segmento de reta  $[OC]$ ;
- o ponto  $E$  pertence ao segmento de reta  $[AB]$ ;
- $\overline{OA} = \overline{DC}$ ;
- $\overline{OD} = \frac{3}{2}\overline{DC} = 2\overline{AE}$ ;
- $\overline{DB} \cdot \overline{DE} = 4$ .



Sem recorrer à calculadora, a não ser para eventuais cálculos numéricos, determine o valor exato da área do retângulo  $[OABC]$ .

**FIM**

### COTAÇÕES

Item													
Cotação (em pontos)													
1.	2.	3.	4.1	4.2	5.	6.	7.	8.	9.	10.	11.	12.	Total
20	18	10	18	18	10	18	18	10	20	10	10	20	200