



1. PROVA DE AFERIÇÃO • PARTE B

8. A Estrela e o Ulisses vão comprar o presente de aniversário do João. **Observa** o dinheiro que conseguiram juntar com os amigos.



8.1 Eles compraram um livro que custou $\frac{1}{2}$ deste valor e um pião que custou $\frac{1}{4}$ do dinheiro restante. **Descobre** e regista o valor do que compraram.

9. A Inês e a Ana compraram um presente e embrulharam-no. No final, colocaram-lhe uma fita e fizeram um laço. **Calcula** a quantidade de fita que usaram, sabendo que o laço levou 50 cm.



10. **Assinala** com X os números que são múltiplos de 8.

64 102 96 48 23 32

11. Nas férias do Natal registou-se o número de presenças dos alunos do ATL.

41	54	39	44	54	55	57	50	45	51	40
----	----	----	----	----	----	----	----	----	----	----

11.1 Observa a tabela e **organiza** o diagrama de caule-e-folhas.

3
4
5

11.2 Qual foi o maior número de presenças registadas num dia?

11.3 Qual foi o menor número de presenças registadas num dia?

12. A Estrela toma sempre duche depois da aula de natação.

A altura da Estrela é 1,30 m.

Assinala com X o número que achas ser a altura aproximada do chuveiro.

3,5 m


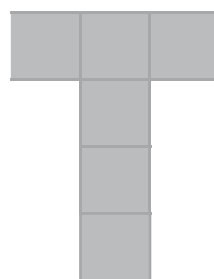


4,5 m

4 m

2 m



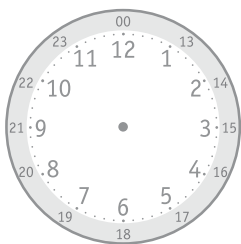
13. O grupo do Ulisses esteve a descobrir planificações de sólidos. **Assinala** com X as que correspondem a planificações do cubo.



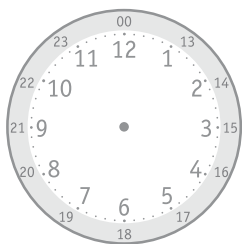
14. **Observa** o horário do 4.º A.

Tempos letivos		2.ª feira	3.ª feira	4.ª feira	5.ª feira	6.ª feira
Início	Termo					
9:00	10:30	Língua Portuguesa	Matemática	Estudo do Meio	Matemática	Língua Portuguesa
10:30	11:00	Intervalo				
11:00	12:00	Expressões	Estudo do Meio	Formação Cívica	Língua Portuguesa	Estudo Acompanhado
12:00	13:15	Almoço				
13:15	15:15	Matemática	Língua Portuguesa	Língua Portuguesa	Estudo do Meio	Matemática
15:15	15:30	Intervalo				
15:30	16:15	Apoio ao Estudo	Música	Apoio ao Estudo	TIC	Inglês
16:15	16:45	Intervalo				
16:45	17:30	Ed. Física	Inglês	TIC	Ed. Física	Música

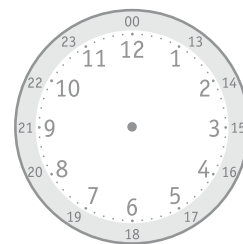
14.1 **Assinala** nos relógios a hora de início das aulas indicadas.



Formação Cívica



Música (6.ª feira)



Matemática (2.ª feira)

14.2 **Regista** o tempo por semana gasto nas seguintes áreas curriculares.

Matemática	Língua Portuguesa

15. **Observa** as construções e indica **quantos** cubos foram usados em cada uma.

