

Nome: _____ Data: _____

1. Observa os três quadrados iguais formados com as peças de um tangram.



Qual das figuras é formada pelo menor número de peças?





A

B


C

Justifica a tua resposta.


2. Reproduz no papel ponteadado as figuras representadas nos geoplanos.




3. Representa no papel pontado as figuras sugeridas.



Quadrado




Triângulo



Rectângulo

4. A Rita foi ao supermercado comprar os ovos representados na figura. Ela entregou uma nota de 10 euros para pagar os ovos. Quanto recebeu de troco?



Resposta: _____

- Pelo caminho ela deixou cair o saco. Os ovos de uma embalagem ficaram todos inteiros. Dos ovos da outra embalagem partiram-se 4. Quantos ovos ficaram inteiros na segunda embalagem?

Resposta: _____

- Ao todo, quantos ovos ficaram inteiros?

Resposta: _____