

Já sei. 😊

Tenho que praticar. 😐

Ainda não sei. ☹️

Nome: _____ Data: ____/____/____





Cálculo do quádruplo (x4)

1 – Lê com atenção. Calcula e completa.

Eu comprei uma caixa de seis ovos. Mas para fazer um bolo de chocolate e uma sobremesa, necessito de mais 3 caixas. Então, eu preciso de:

$6 + 6 + 6 + 6 = \underline{\hspace{2cm}}$ ou $4 \times 6 = \underline{\hspace{2cm}}$

O quádruplo de 6 é _____.



O António apanhou 13 ovos de chocolate e a Maria apanhou o quádruplo. Então, a Maria apanhou:

$\underline{\hspace{1cm}} + \underline{\hspace{1cm}} + \underline{\hspace{1cm}} + \underline{\hspace{1cm}} = \underline{\hspace{2cm}}$

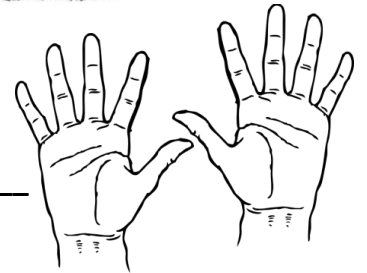
ou $\underline{\hspace{1cm}} \times \underline{\hspace{1cm}} = \underline{\hspace{2cm}}$

O quádruplo de _____ é _____.



Eu tenho 10 dedos, nas duas mãos. Então, quatro pessoas têm:

$\underline{\hspace{1cm}} + \underline{\hspace{1cm}} + \underline{\hspace{1cm}} + \underline{\hspace{1cm}} = \underline{\hspace{2cm}}$ ou $\underline{\hspace{1cm}} \times \underline{\hspace{1cm}} = \underline{\hspace{2cm}}$



O quádruplo de 10 é _____.

A Joana tem um aquário com 7 peixes. Então, se ela tivesse 4 aquários tinha:

$\underline{\hspace{1cm}} + \underline{\hspace{1cm}} + \underline{\hspace{1cm}} + \underline{\hspace{1cm}} = \underline{\hspace{2cm}}$ ou $\underline{\hspace{1cm}} \times \underline{\hspace{1cm}} = \underline{\hspace{2cm}}$

O quádruplo de _____ é _____.

