

Já sei. 😊

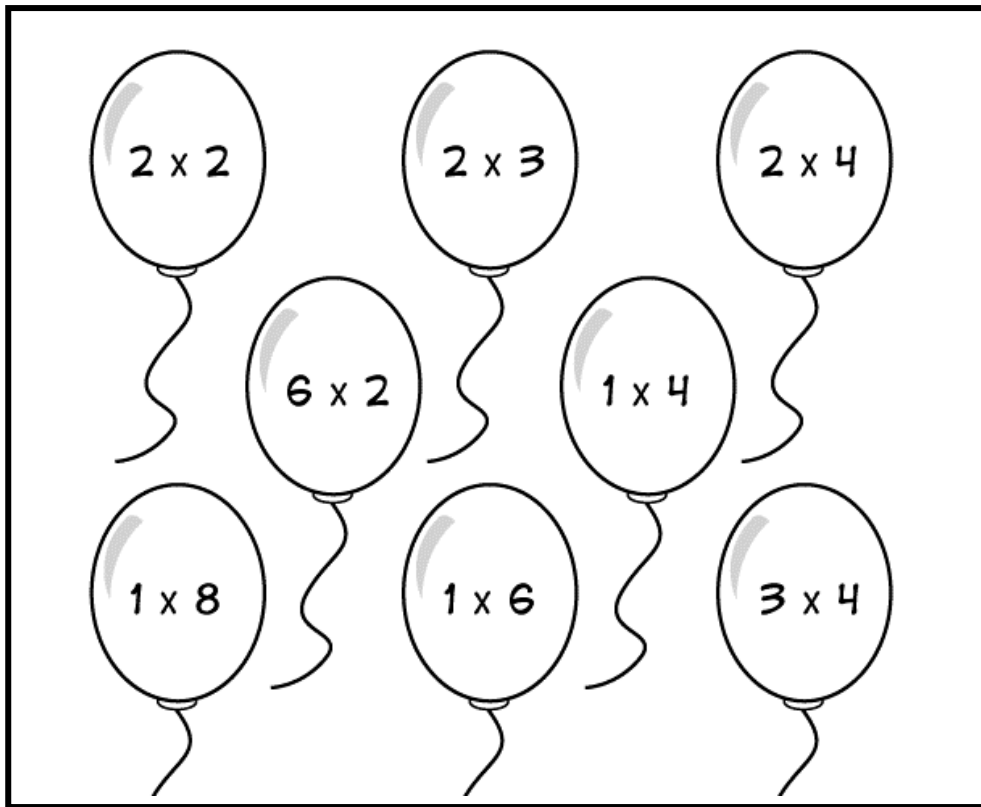
Tenho que praticar. 😐

Ainda não sei. ☹️

Nome: _____ Data: ____/____/____

 Pinta os balões de acordo com o seu resultado.

4 - vermelho 6 - amarelo 8 - azul 12 - verde



→ Liga as adições às multiplicações.

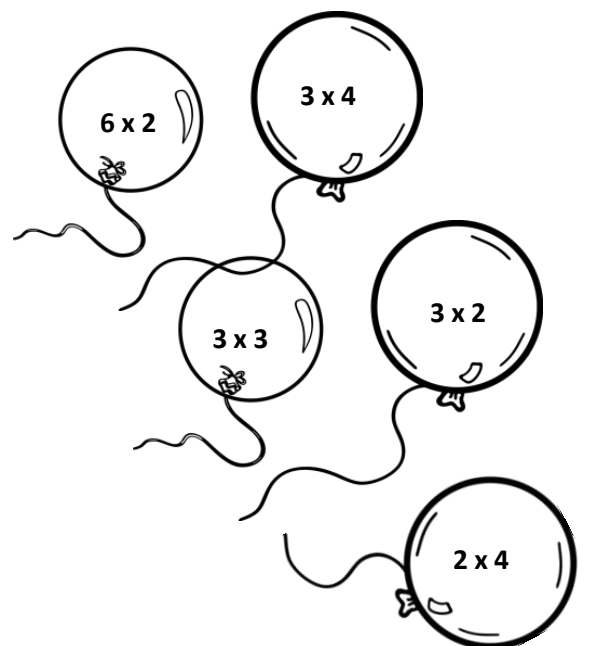
$4 + 4 + 4$

$2 + 2 + 2 + 2 + 2 + 2$

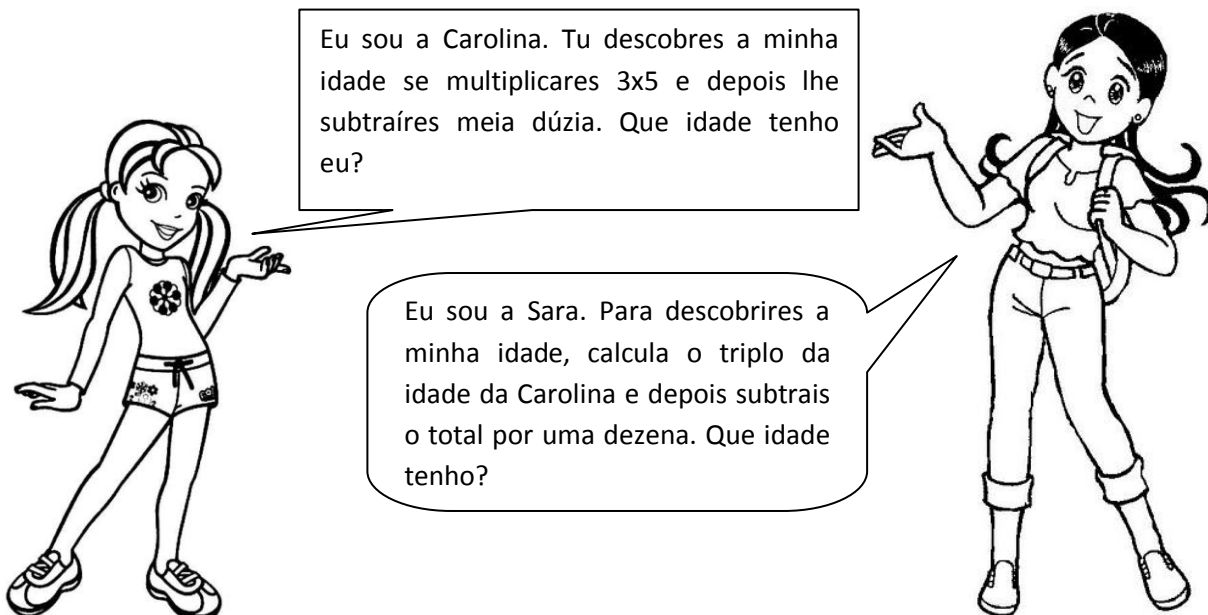
$2 + 2 + 2$

$3 + 3 + 3$

$4 + 4$



☞ Lê com atenção o que estas meninas dizem e descobre o que elas perguntam.



Eu sou a Carolina. Tu descobres a minha idade se multiplicares 3×5 e depois lhe subtraíres meia dúzia. Que idade tenho eu?

Eu sou a Sara. Para descobrires a minha idade, calcula o triplo da idade da Carolina e depois subtrais o total por uma dezena. Que idade tenho?

Eu tenho ___ anos.

Eu tenho ___ anos.

✎ Faz os teus cálculos.

✎ Observa as idades da Carolina e de todos os seus primos e preenche o diagrama de Carroll com os seus nomes.

Atenção às indicações dadas.

Nomes	Carolina	Pedro	Paula	Beatriz	Diogo	Cristiana	Soraia
Idades		3	10	13	7	11	14

Menina		
Menino		
	Idade inferior a 8 anos	Idade superior a 8 anos