

ESTUDO DO MEIO

RUBRICA:

NOME: _____ DATA: ____/____/____

ESCOLA: _____ INFORMAÇÃO: _____

1 – Escreve os teus dados pessoais:

Nome: _____ Sexo: _____

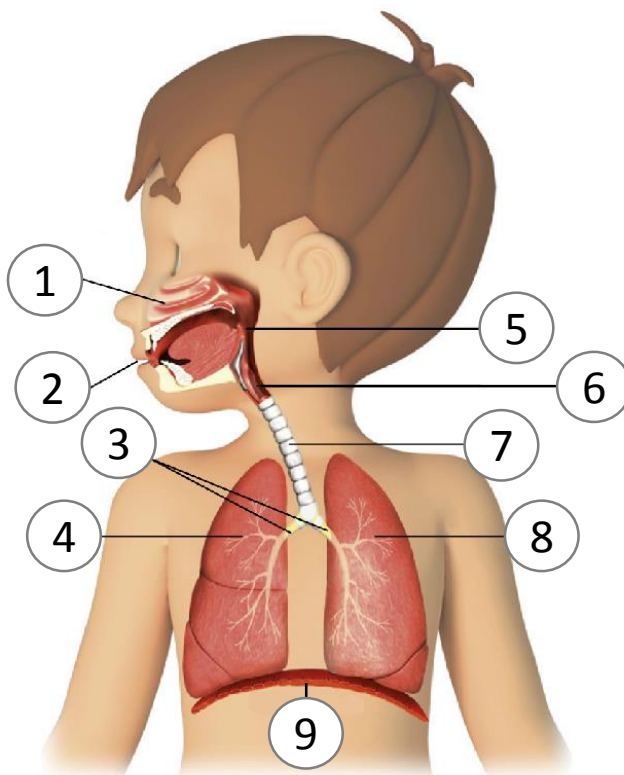
Filiação: _____ e _____

Naturalidade: _____

Data de nascimento: _____ Nacionalidade: _____

2 – Observa a imagem e faz a sua legenda.

- 1 – _____
- 2 – _____
- 3 – _____
- 4 – _____
- 5 – _____
- 6 – _____
- 7 – _____
- 8 – _____
- 9 – _____

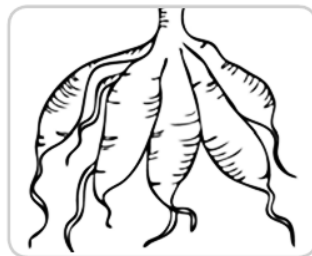
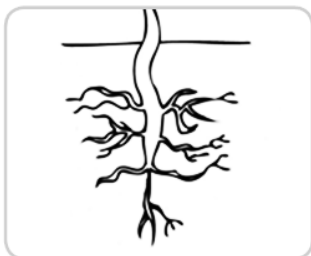


2.1 – Qual é a função do órgão assinalado com o número 4.

3 – Refere três dos hábitos que deves manter para cresceres forte e saudável.

4 – Desenha a árvore genealógica de três gerações da tua família.

5 – Legenda as imagens com os tipos de raiz: raiz apumada, raiz tuberculosa, raiz fasciculada.





6 – O que distingue os animais vertebrados dos invertebrados?

7 – Refere as diferenças existentes entre astros luminosos e astros iluminados.

7.1 – Apresenta um exemplo de um astro luminoso e outro de um astro iluminado.

8 – Legenda as imagens com as expressões do quadro.

reflexão da luz sombra refração da luz



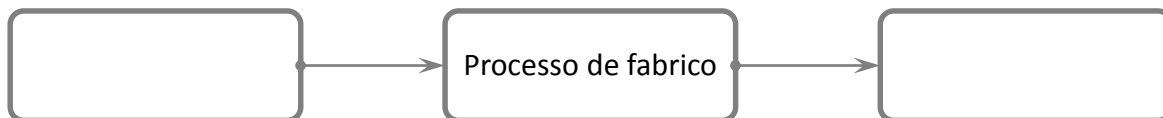
9 – Observa a imagem. Identifica o instrumento nela representado.



9.1 – Completa a afirmação.

Se utilizarmos uma roldana, conseguimos elevar os objetos com _____
facilidade, porque a força necessária é _____.

10 – Completa o esquema seguinte, referente aos processos industriais.



10.1 – Se este esquema fosse referente à produção de queijo, o que escreverias na primeira caixa do esquema?

10.2 – Como classificarias a origem do queijo.
