

Nome: \_\_\_\_\_

Escola: \_\_\_\_\_


Data:     -     -     -

**1** Cinco crianças foram a um aniversário onde havia imensos bolinhos que eles resolveram experimentar. Segue as indicações e tenta descobrir quantos bolinhos comeu cada um. Quando descobrires, escreve a quantidade na parte de cima dos bolinhos.






- A Maria comeu  $\frac{1}{2}$  do que a Lara comeu.
- O João comeu  $\frac{2}{4}$  do dobro da Maria.
- A Lara comeu  $\frac{3}{5}$  do que a Inês comeu.
- A Inês comeu metade de 40 bolinhos.
- O Carlos comeu  $\frac{1}{2}$  do que a Maria comeu.



MICAELERUP © Porto Editora



Efetua os cálculos.

<input type="checkbox"/>	<input type="checkbox"/>	<input type="checkbox"/>	<input type="checkbox"/>	<input type="checkbox"/>
				
Maria	João	Lara	Inês	Carlos