



NOME

AVALIAÇÃO

N.º

TURMA


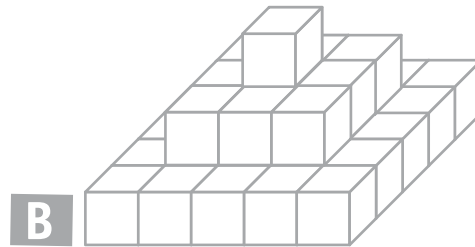
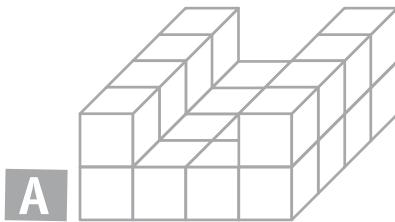
DATA

-

-

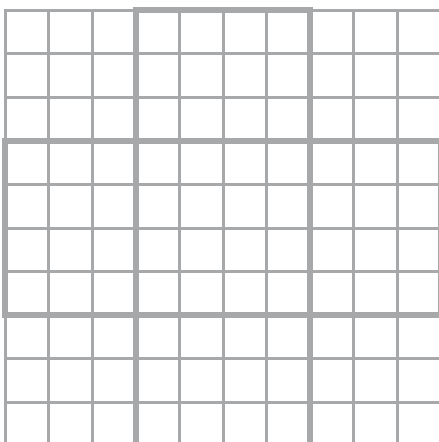
ENC. EDUC.

1. Observa as imagens e indica **quantos** cubos foram usados em cada construção. Explica como os contaste.

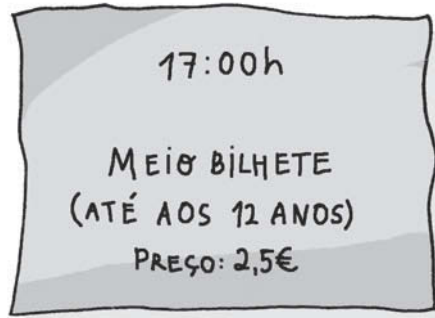


- 1.1 Sabendo que cada cubo tem 2 cm de aresta, calcula o seu volume. **Regista** todos os cálculos de que precisares.

2. A figura seguinte mostra a planificação de uma caixa. Se cada quadricula corresponder a uma face de um cubo, quantos cubos serão necessários para a encher? **Explica** como pensaste.



3. A turma do 4.º A foi ao cinema ver um filme de aventuras. A acompanhar os 24 alunos foram 2 professoras e 4 mães. **Observa** os bilhetes.



- 3.1 **Quanto** se pagou pelos bilhetes de todos? Explica como pensaste.

- 3.2 A professora comprou um pacote de pipocas para cada 2 alunos e uma garrafa de água para cada um. Descobre **quanto** recebeu de troco, sabendo que pagou com 4 notas de 20 euros.



- 3.3 A professora vai devolver 29,28 € aos alunos. **Quanto** receberá cada criança?