





Problemas (III)

- Lê com atenção e responde.

A Maria, o Francisco e o João jogaram o jogo “Mecos abaixo”. Na tabela seguinte estão registados os pontos que cada um obteve.

Cada  representa 20 pontos	
Maria	
Francisco	
João	

- Quantos pontos teve a Maria? _____
- Qual foi a criança que teve menos pontos? _____
- Quantos mecos mais o João tinha ainda de deitar abaixo, para ter os mesmos pontos que o Francisco? _____

- Completa de acordo com o valor das setas.

