



NOME

AVALIAÇÃO




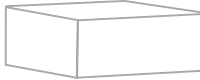
N.º

TURMA

DATA

ENC. EDUC.

1. **Completa** a tabela.

				
Poliedro/Não poliedro				
N.º de faces				
N.º de vértices				
N.º de arestas				
Nome				

2. **Decompõe** os números.

735 dam = _____ km _____ hm _____ dam

19,56 hm = _____

845 cm = _____

1098 m = _____

3. **Faz a leitura** dos comprimentos indicados de duas maneiras diferentes.

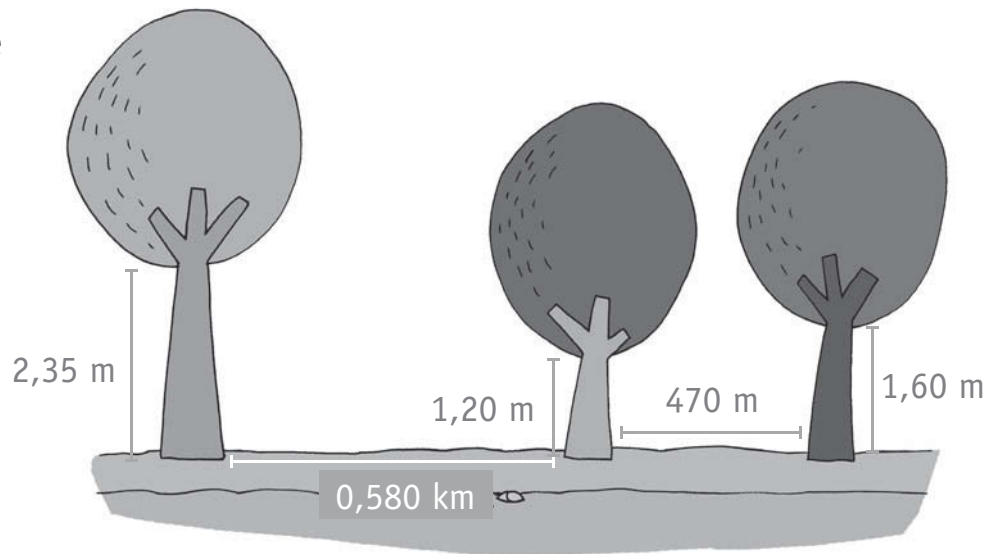
95,45 m	_____

117,59 hm	_____

4. **Completa.**

10 : 5 = _____	48 : 2 = _____	64 : 2 = _____	50 : 2 = _____
100 : 5 = _____	480 : 4 = _____	640 : 4 = _____	500 : 2 = _____
100 : 10 = _____	480 : 8 = _____	640 : 8 = _____	500 : 20 = _____

5. **Observa** as árvores que existem na floresta.



5.1 Uma formiga percorre o caminho entre as árvores subindo sempre o tronco de cada uma. No fim do caminho, **quantos** metros terá percorrido?

5.2 Se um elefante fizer o percurso entre estas árvores 4 vezes por dia, **quantos** quilómetros percorre ao fim de 5 dias?

6. Os 48 alunos do 4.º ano participaram num projeto de teatro. Foram organizados em grupos de 8 alunos. **Quantos** grupos foram formados?

7. **Efetua** os cálculos.

$$7832 - 5936 =$$

$$7621 - 5243 =$$

$$9 \times 8 = \underline{\quad}$$

$$\underline{\quad} : 9 = 8$$

$$\underline{\quad} : 8 = \underline{\quad}$$