

Prova-modelo de Exame

Nome _____ N.º _____ Turma _____ Data _____/maio/2019

Avaliação _____ Professor _____

Duração da Prova (Caderno 1 + Caderno 2): 150 minutos | Tolerância: 30 minutos

A prova é constituída por dois cadernos (Caderno 1 e Caderno 2).

Para a resolução do Caderno 1, é necessário o uso de calculadora gráfica. Para a resolução do Caderno 2, não é permitido o uso de calculadora.

Utilize apenas caneta ou esferográfica de tinta azul ou preta.

É permitido o uso de régua, compasso, esquadro e transferidor.

Não é permitido o uso de corretor. Risque aquilo que pretende que não seja classificado.

Para cada resposta, identifique o item.

Apresente as suas respostas de forma legível.

Apresente apenas uma resposta para cada item.

A prova inclui um formulário.

Na resposta aos itens de escolha múltipla, selecione a opção correta. Escreva, na folha de respostas, o número do item e a letra que identifica a opção escolhida.

Na resposta aos restantes itens, apresente todos os cálculos que tiver de efetuar e todas as justificações necessárias. Quando, para um resultado, não é pedida a aproximação, apresente sempre o valor exato.

Formulário

Geometria

Comprimento de um arco de circunferência

αr (α – amplitude, em radianos, do ângulo ao centro; r – raio)

Área de um polígono regular: Semiperímetro \times Apótema

Área de um setor circular:

$\frac{\alpha r^2}{2}$ (α – amplitude, em radianos, do ângulo ao centro; r – raio)

Área lateral de um cone: $\pi r g$ (r – raio da base; g – geratriz)

Área de uma superfície esférica: $4 \pi r^2$ (r – raio)

Volume de uma pirâmide: $\frac{1}{3} \times$ Área da base \times Altura

Volume de um cone: $\frac{1}{3} \times$ Área da base \times Altura

Volume de uma esfera: $\frac{4}{3} \pi r^3$ (r – raio)

Progressões

Soma dos n primeiros termos de uma progressão (u_n) :

Progressão aritmética: $\frac{u_1 + u_n}{2} \times n$

Progressão geométrica: $u_1 \times \frac{1 - r^n}{1 - r}$

Trigonometria

$\sin(a + b) = \sin a \cos b + \sin b \cos a$

$\cos(a + b) = \cos a \cos b - \sin a \sin b$

$\frac{\sin A}{a} = \frac{\sin B}{b} = \frac{\sin C}{c}$

$a^2 = b^2 + c^2 - 2bc \cos A$

Complexos

$(\rho \operatorname{cis} \theta)^n = \rho^n \operatorname{cis}(n\theta)$ ou $(\rho e^{i\theta})^n = \rho^n e^{in\theta}$

$\sqrt[n]{\rho \operatorname{cis} \theta} = \sqrt[n]{\rho} \operatorname{cis} \left(\frac{\theta + 2k\pi}{n} \right)$ ou $\sqrt[n]{\rho e^{i\theta}} = \sqrt[n]{\rho} e^{i \left(\frac{\theta + 2k\pi}{n} \right)}$

$(k \in \{0, \dots, n-1\} \text{ e } n \in \mathbb{N})$

Probabilidades

$\mu = p_1 x_1 + \dots + p_n x_n$

$\sigma = \sqrt{p_1(x_1 - \mu)^2 + \dots + p_n(x_n - \mu)^2}$

Se X é $N(\mu, \sigma)$, então:

$P(\mu - \sigma < X < \mu + \sigma) \approx 0,6827$

$P(\mu - 2\sigma < X < \mu + 2\sigma) \approx 0,9545$

$P(\mu - 3\sigma < X < \mu + 3\sigma) \approx 0,9973$

Regras de derivação

$(u + v)' = u' + v'$

$(u v)' = u' v + u v'$

$\left(\frac{u}{v}\right)' = \frac{u'v - u v'}{v^2}$

$(u^n)' = n u^{n-1} u'$ ($n \in \mathbb{R}$)

$(\sin u)' = u' \cos u$

$(\cos u)' = -u' \sin u$

$(\operatorname{tg} u)' = \frac{u'}{\cos^2 u}$

$(e^u)' = u' e^u$

$(a^u)' = u' a^u \ln a$ ($a \in \mathbb{R}^+ \setminus \{1\}$)

$(\ln u)' = \frac{u'}{u}$

$(\log_a u)' = \frac{u'}{u \ln a}$ ($a \in \mathbb{R}^+ \setminus \{1\}$)

Limites notáveis

$\lim \left(1 + \frac{1}{n}\right)^n = e$ ($n \in \mathbb{N}$)

$\lim_{x \rightarrow 0} \frac{\sin x}{x} = 1$

$\lim_{x \rightarrow 0} \frac{e^x - 1}{x} = 1$

$\lim_{x \rightarrow +\infty} \frac{\ln x}{x} = 0$

$\lim_{x \rightarrow +\infty} \frac{e^x}{x^p} = +\infty$ ($p \in \mathbb{R}$)

Caderno 1: 75 minutos. Tolerância: 15 minutos.

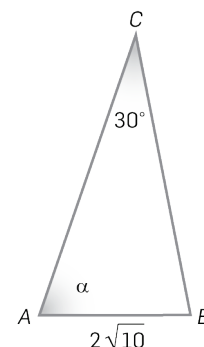
É permitido o uso de calculadora.

1. Na figura ao lado está representado o triângulo $[ABC]$.

Designou-se por α a amplitude do ângulo BAC .

Sabe-se que:

- $\overline{AB} = 2\sqrt{10}$
- $\widehat{ACB} = 30^\circ$
- $\operatorname{tg} \alpha = 3$



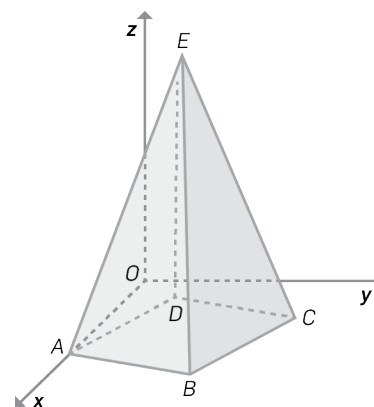
Qual é o comprimento do segmento de reta $[BC]$?

- (A) 10 (B) 11 (C) 12 (D) 13

2. Na figura ao lado está representada, em referencial o.n. $Oxyz$, a pirâmide quadrangular regular $[ABCDE]$, cuja base está contida no plano xOy .

Sabe-se que:

- o vértice A pertence ao eixo Ox ;
- uma equação do plano ADE é $6x + 18y - 5z = 24$;
- o ponto E pertence à reta r , de equação vetorial $(x, y, z) = (5, -4, 2) + k(-1, 3, 2), k \in \mathbb{R}$.



- 2.1 Sejam F e G os pontos da reta r cujas cotas são, respetivamente, -2 e 4 . Determina a amplitude, em graus, do ângulo FOG . Apresenta o resultado arredondado às unidades.

- 2.2 Determina o volume da pirâmide.

- 2.3 Considera o prisma quadrangular regular em que uma das bases coincide com a base da pirâmide e a outra base tem por centro o ponto E . Seja α o plano que passa no ponto E e é paralelo à face lateral do prisma que contém o segmento de reta $[AB]$.

Ao acaso, escolhe-se um vértice em cada base do prisma. Qual é a probabilidade de a reta definida pelos dois pontos escolhidos ser paralela ao plano α ? Apresenta o resultado na forma de fração irredutível.

3. Uma turma de uma escola secundária tem 30 alunos. A Rita é a delegada e o Pedro é o subdelegado dessa turma.

O professor de Matemática vai escolher um grupo de seis alunos para realizar um trabalho, mas pretende que a Rita e o Pedro não façam simultaneamente parte do grupo escolhido.

Nestas condições, quantas comissões diferentes podem ser formadas?

- (A) 526 600 (B) 534 400 (C) 547 700 (D) 573 300

4. No baile de finalistas de uma escola estão presentes várias pessoas do sexo masculino (alunos e professores).

Sabe-se que:

- $\frac{4}{5}$ dessas pessoas são alunos (os restantes são professores);
- $\frac{2}{3}$ dessas pessoas vão de gravata (os restantes vão de laço).

Sabe-se também que $\frac{3}{4}$ dos alunos vão de gravata.

Entre todos os participantes do sexo masculino, escolhe-se um, ao acaso, para receber uma caneta oferecida pela organização.

Qual é a probabilidade de ser escolhido um professor que vai de laço?

Na tua resposta:

- designa por A o acontecimento «ser aluno» e por G o acontecimento «ir de gravata»;
- apresenta o resultado na forma de fração irredutível.

5. Um paraquedista salta de um avião. Ao fim de algum tempo, o paraquedas abre. Admite que a distância, em metros, a que o paraquedista se encontra do solo, t segundos após a abertura do paraquedas, é dada por:

$$d(t) = 930 - 6t + 24e^{-1,7t}$$

No instante da abertura do paraquedas, o paraquedista está a uma certa distância do solo. Determina, recorrendo à calculadora gráfica, quanto tempo demora o paraquedista a percorrer um terço dessa distância (desde o instante em que se dá a abertura do paraquedas).

Na tua resposta:

- equaciona o problema;
- reproduz, num referencial, o(s) gráfico(s) da(s) função(ões) visualizado(s) na calculadora que te permite(m) resolver a equação;
- apresenta o valor pedido arredondado às unidades.

6. Seja z um número complexo cujo afixo pertence à circunferência de centro na origem do referencial e raio $\sqrt{3}$. Seja $w = |z|^2 + z - \bar{z}$.

Sabe-se que $\operatorname{Re}(w) \times \operatorname{Im}(w) = 9$.

Qual é a parte imaginária do número complexo z ?

(A) $\frac{2}{3}$

(B) $\frac{3}{2}$

(C) $\frac{3}{4}$

(D) $\frac{4}{3}$

7. De uma progressão aritmética (u_n) sabe-se que a razão é $-\frac{2}{3}$ e que, para um certo número natural m , maior do que 1, se tem $u_1 + u_m = 20$ e $\sum_{k=1}^m u_k = 220$.

Verifica que -203 é termo da sucessão (u_n) e indica a sua ordem.

8. Considera, em referencial o.n. xOy , o paralelogramo $[ABCD]$ em que o segmento de reta $[AC]$ é uma das diagonais. Seja E o ponto de interseção das diagonais do paralelogramo.

Sabe-se que:

- o vetor \overrightarrow{AE} tem coordenadas $(4, 3)$;
- o vetor \overrightarrow{CE} tem coordenadas $(-5, 2)$;
- o ponto C tem coordenadas $(7, 10)$.

Quais são as coordenadas do ponto D ?

(A) $(4, 1)$

(B) $(4, 2)$

(C) $(6, 1)$

(D) $(6, 2)$

FIM DO CADERNO 1

Caderno 2: 75 minutos. Tolerância: 15 minutos.

Não é permitido o uso de calculadora.

9. Considera, em referencial o.n. xOy , uma elipse centrada no ponto O e cujos focos pertencem ao eixo Ox .

Seja F o foco de abscissa positiva.

A elipse intersesta o eixo Ox em dois pontos. Seja A o que tem abscissa positiva.

Sabe-se que:

- F é o ponto médio do segmento de reta $[OA]$;
- o ponto de coordenadas $(-2, 3)$ pertence à elipse.

Qual é a abscissa do ponto A ?

- (A) 2 (B) 3 (C) 4 (D) 5

10. Em \mathbb{C} , conjunto dos números complexos, considera:

$$z_1 = 4 \left(\cos \frac{2\pi}{9} + i \operatorname{sen} \frac{2\pi}{9} \right) \quad z_2 = \cos \frac{\pi}{18} + i \operatorname{sen} \frac{\pi}{18} \quad z_3 = \sqrt{2} \left(\cos \frac{5\pi}{12} + i \operatorname{sen} \frac{5\pi}{12} \right)$$

Seja $w = -2 + \frac{z_1 \times \overline{z_2}}{2 + (z_3)^3}$. Escreve, na forma trigonométrica, o número complexo w .

11. Seja $a = \lim_{n \rightarrow \infty} \left(\frac{n^2 - n}{n^2 + n} \right)^{2n}$. Qual é o valor de $\ln(a)$?

- (A) -2 (B) -3 (C) -4 (D) -5

12. Determina o conjunto dos números reais tais que: $2 \log_3(\sqrt{3}x) \geq 3 + \log_3(x - 2)$

Apresenta a tua resposta na forma de união de intervalos de números reais.

13. Seja f a função contínua, de domínio $\left] -\infty, \frac{3\pi}{2} \right]$, definida por:

$$f(x) = \begin{cases} \frac{e^{kx} - (1+x)^2}{x} & \text{se } x < 0 \\ \operatorname{sen} x (1 + \cos x) & \text{se } 0 \leq x \leq \frac{3\pi}{2} \end{cases} \quad (k \text{ designa um número real positivo})$$

13.1 Qual é o valor de k ?

- (A) 2 (B) 3 (C) 4 (D) 5

13.2 O gráfico da função f tem uma assíntota oblíqua. Determina a equação reduzida dessa assíntota.

13.3 Estuda a função f quanto à monotonia no intervalo $\left] 0, \frac{3\pi}{2} \right]$ e determina, caso existam, os extremos relativos.

14. Considera, em referencial o.n. xOy , o gráfico da função g , de domínio \mathbb{R}^+ , definida por:

$$g(x) = x (\ln x)^2$$

Seja r a reta tangente ao gráfico da função g no ponto de abscissa $\frac{1}{e}$.

Seja B o ponto interseção da reta r com o eixo Oy .

Qual é a ordenada do ponto B ?

(A) $-\frac{2}{e}$

(B) $-\frac{1}{e}$

(C) $\frac{1}{e}$

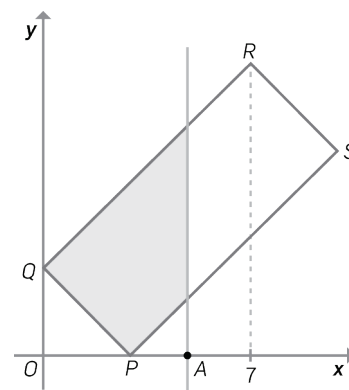
(D) $\frac{2}{e}$

15. Na figura ao lado está representado, em referencial o.n. xOy , o retângulo $[PQRS]$, em que:

- o ponto P tem coordenadas $(3, 0)$;
- o ponto Q tem coordenadas $(0, 3)$;
- o ponto R tem abscissa 7.

Considera que um ponto A se desloca ao longo do eixo Ox , entre a origem O do referencial e o ponto de abscissa 7, sem coincidir com o ponto O . Para cada posição do ponto A , seja a a sua abscissa e seja $f(a)$ a área da região sombreada (interseção do retângulo com o semiplano definido pela condição $x \leq a$).

Define, por ramos, a função f .



FIM