



NOME

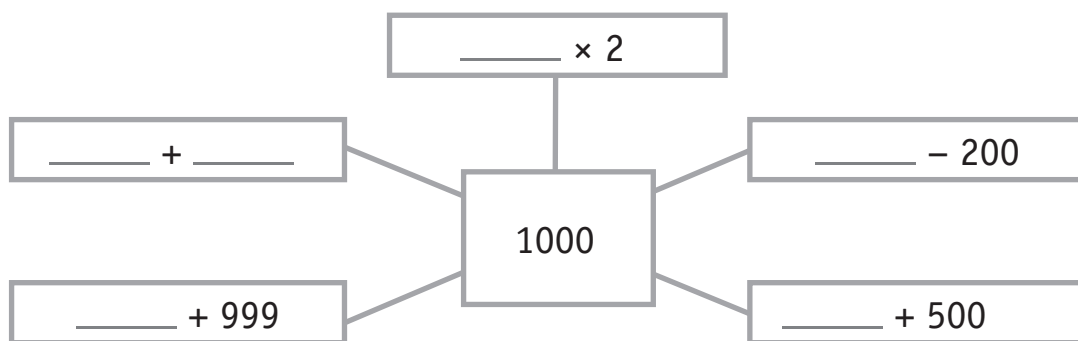
AVALIAÇÃO

N.º  TURMA  DATA  -  -

ENC. EDUC.

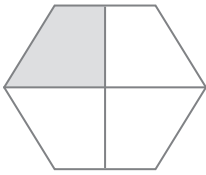
- Quando vai ao parque, a Estrela diverte-se saltando à volta do lago. No sábado, ela contou os saltos de uma volta completa e ficou a saber que são 50. Ao fim de duas voltas completas, **quantos** saltos deu? E de 10 voltas? Regista o teu raciocínio.

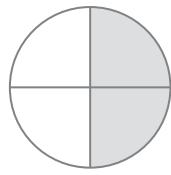
2. Completa.

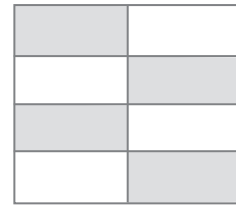


- Num campeonato de atletismo de escolas vão participar 679 atletas. A equipa organizadora quer oferecer certificados de presença a todos os participantes. Na loja A só puderam encomendar 351 certificados. **Quantos** certificados terão de ser encomendados a outra loja?

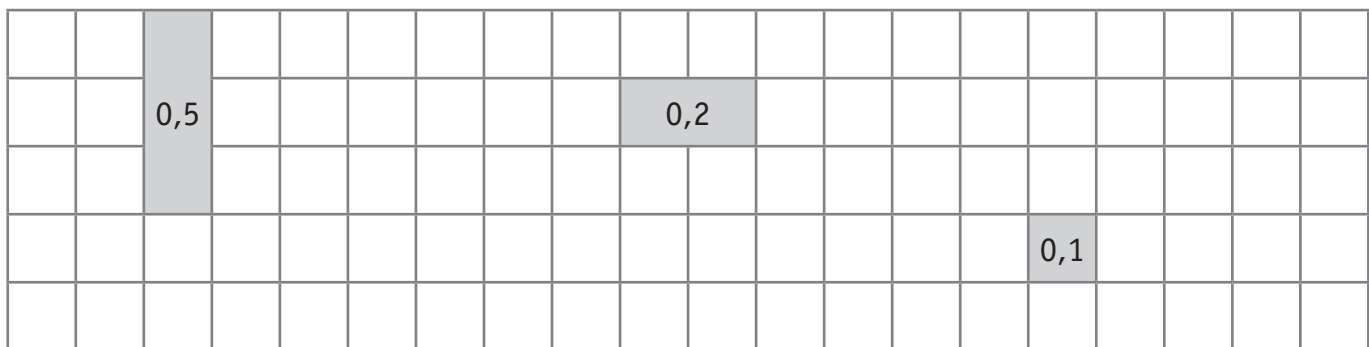
4. **Indica** a parte das figuras que está pintada.








5. Estas figuras representam parte de uma unidade. Completa as unidades, **desenhando** a parte que falta.



6. **Completa.**

2 m = ____ dm	1 dm = ____ m	6 m = ____ dm
5 m = ____ dm	2 dm = ____ m	30 m = ____ dm

7. Segue o exemplo e **completa.**

	m	dm	cm
Dois metros e cinco decímetros	2	5	0
Sete metros e vinte centímetros			
Dez centímetros			
Quatro decímetros e 2 centímetros			