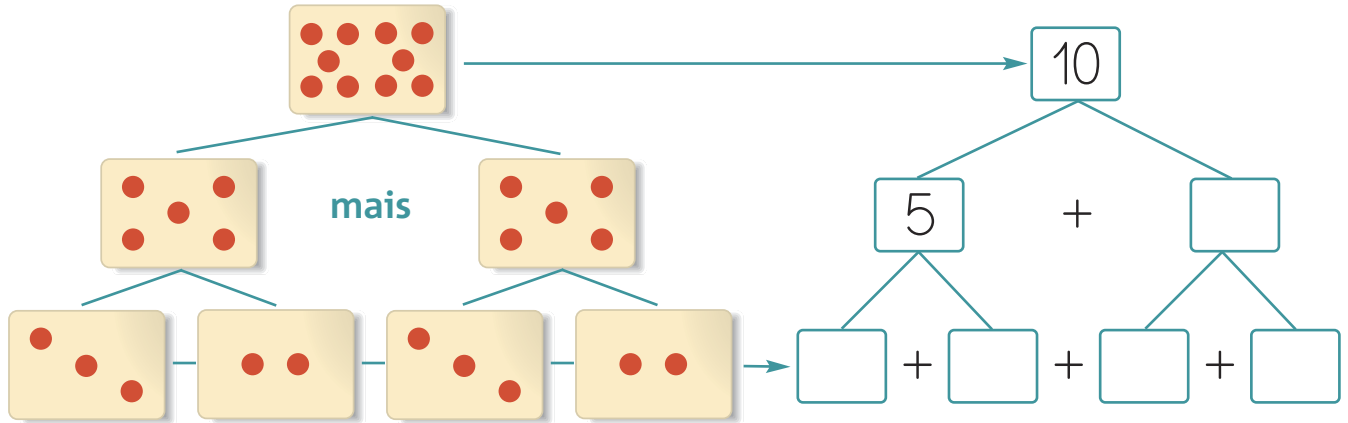


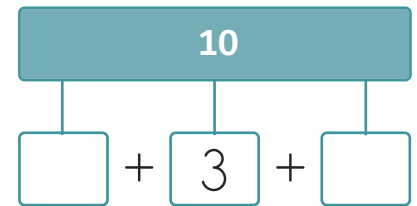
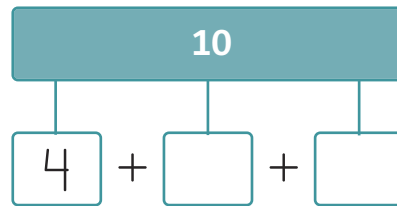
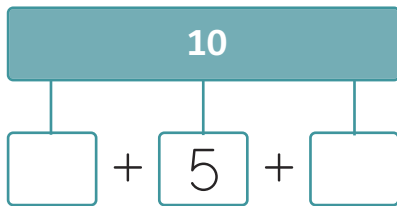
Nome: _____

Data: _____

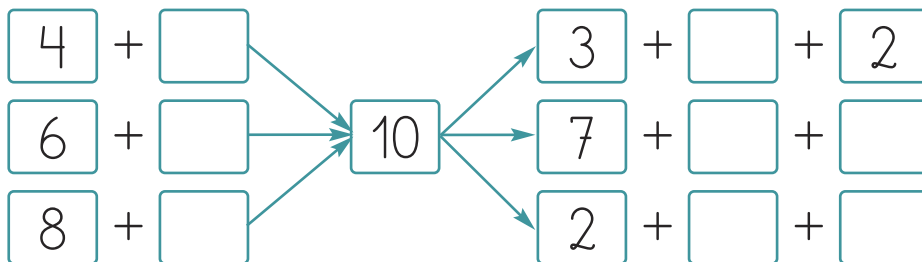
1. Observa e completa.



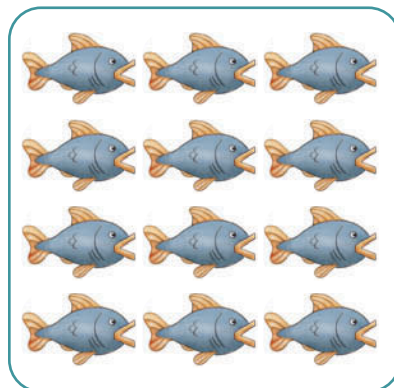
2. Completa de 3 maneiras diferentes.



3. Completa as frases das legendas das figuras.



4. Rodeia uma **dezena** em cada grupo.



5. Pinta o número de quadrados indicado usando duas cores.

$5 + 5$	→	<input type="checkbox"/>	<input type="checkbox"/>	<input type="checkbox"/>	<input type="checkbox"/>	<input type="checkbox"/>	<input type="checkbox"/>	<input type="checkbox"/>	<input type="checkbox"/>	<input type="checkbox"/>
$6 + 4$	→	<input type="checkbox"/>	<input type="checkbox"/>	<input type="checkbox"/>	<input type="checkbox"/>	<input type="checkbox"/>	<input type="checkbox"/>	<input type="checkbox"/>	<input type="checkbox"/>	<input type="checkbox"/>
$3 + 7$	→	<input type="checkbox"/>	<input type="checkbox"/>	<input type="checkbox"/>	<input type="checkbox"/>	<input type="checkbox"/>	<input type="checkbox"/>	<input type="checkbox"/>	<input type="checkbox"/>	<input type="checkbox"/>

● Completa:

Em cada fila pintaste uma _____ de quadrados.
Ao todo pintaste dezenas de quadrados.

6. A Ana tem as suas bonecas distribuídas por três prateleiras.

Na prateleira número 1 tem 4 bonecas.

Na prateleira número 2 tem 3 bonecas, tantas como as que tem na prateleira número 3.

Quantas bonecas tem a Ana ao todo?



Resposta: A Ana, ao todo, tem bonecas.

● Quantas dezenas de bonecas tem a Ana?

2 dezenas

1 dezena

3 dezena

7. Completa o padrão.

				<input type="checkbox"/>	<input type="checkbox"/>	<input type="checkbox"/>	<input type="checkbox"/>	<input type="checkbox"/>	<input type="checkbox"/>
--	--	--	--	--------------------------	--------------------------	--------------------------	--------------------------	--------------------------	--------------------------