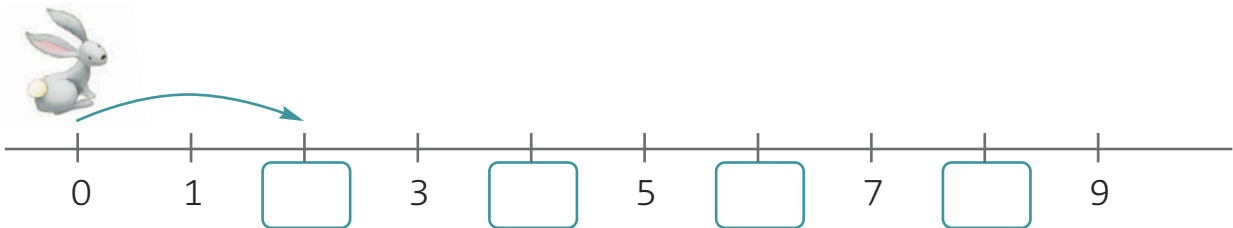


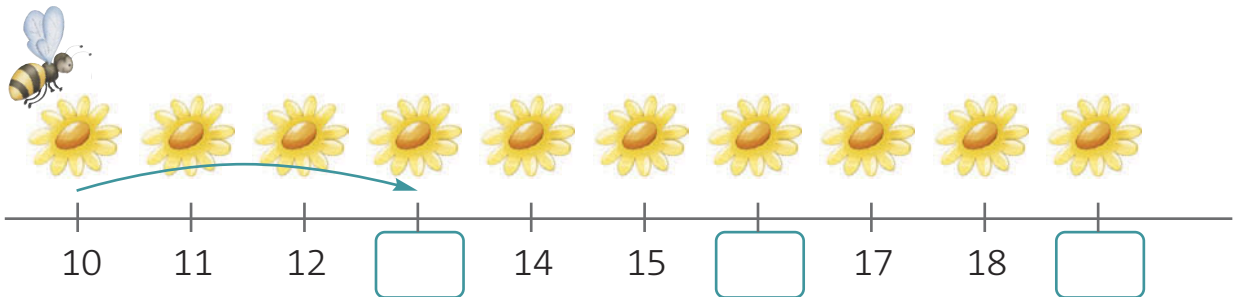
Nome: _____ Data: _____

1. Observa as linhas numéricas e regista as sequências obtidas.

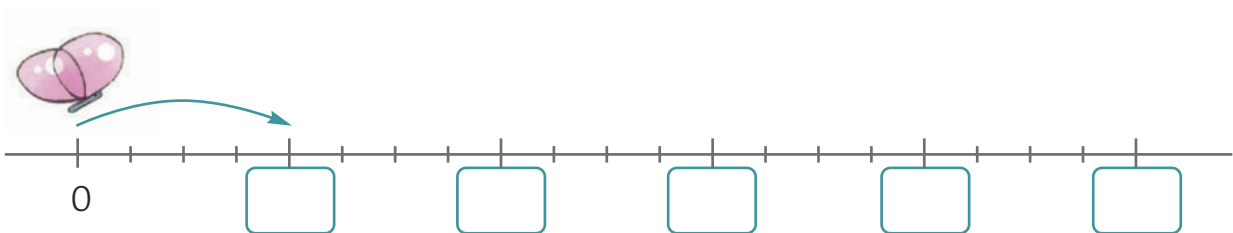
- O coelho salta **2** casas de cada vez.



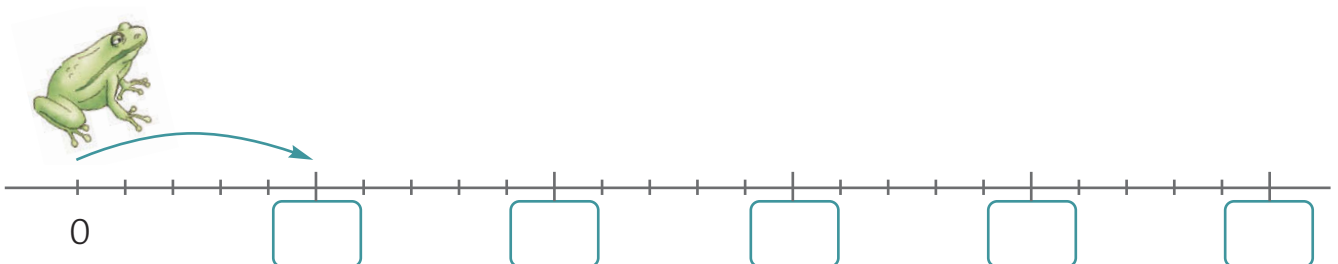
- A abelha salta **3** flores de cada vez.



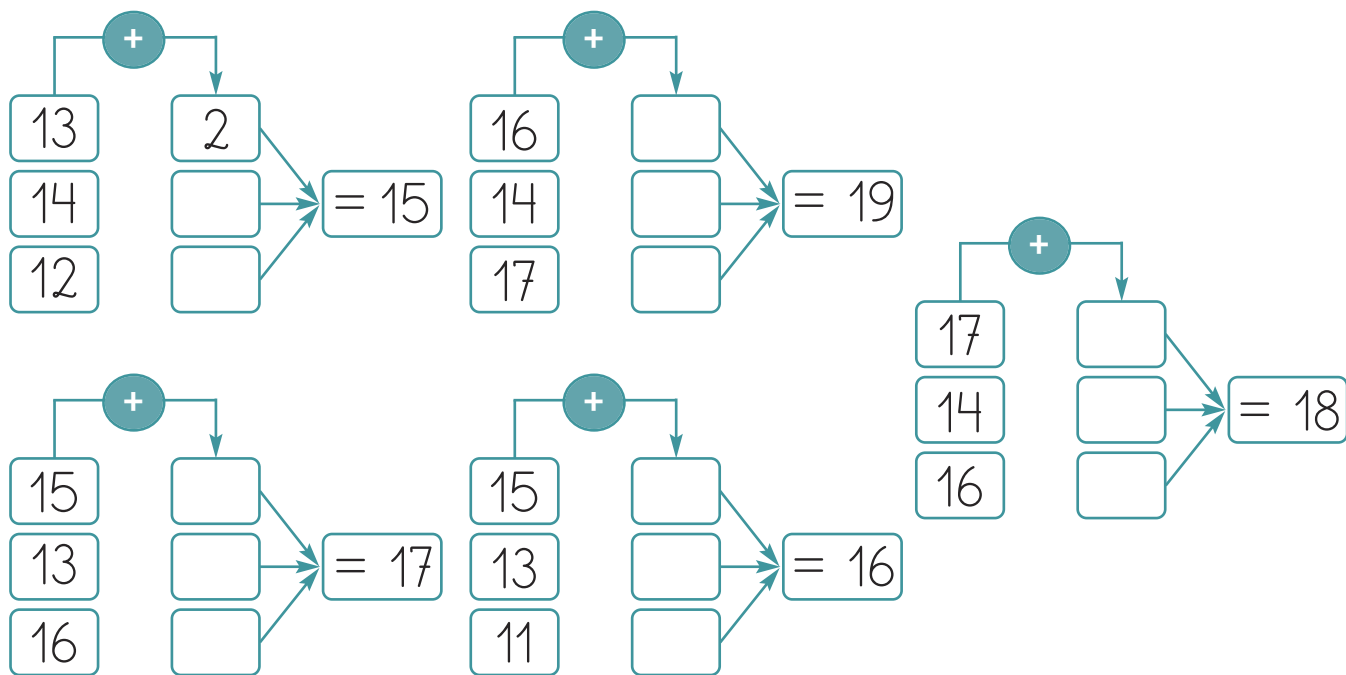
- A borboleta salta **4** casas de cada vez.



- O sapo salta **5** casas de cada vez.



2. Completa conforme o exemplo.



3. Completa com os sinais $>$, $<$ ou $=$.

$18 - 5 \square 17 - 4$

$14 + 3 \square 5 + 13$

$2 + 13 + 1 \square 18 - 6$

$14 + 1 \square 15 + 2$

$17 - 5 \square 18 - 4$

$15 + 2 + 1 \square 14 + 4$

4. A Salomé tem 15 cromos na sua caderneta.

Comprou 2 carteiras com 3 cromos cada.

Quantos cromos comprou?

Resposta: _____

- Como não tinha nenhum dos cromos que comprou, colou-os na sua caderneta.

A caderneta fica completa com 29 cromos.

Quantos cromos lhe faltam na sua colecção?

Resposta: _____