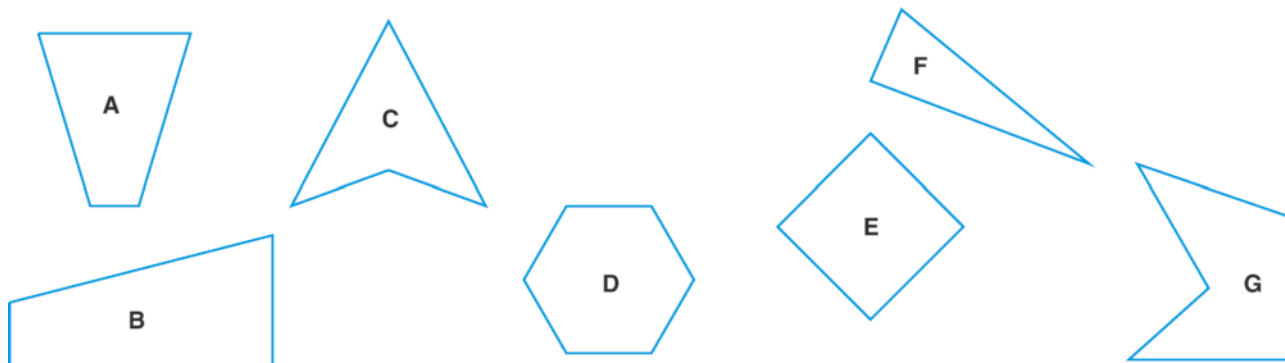


1 Completa a tabela, tendo em conta as características dos polígonos representados.

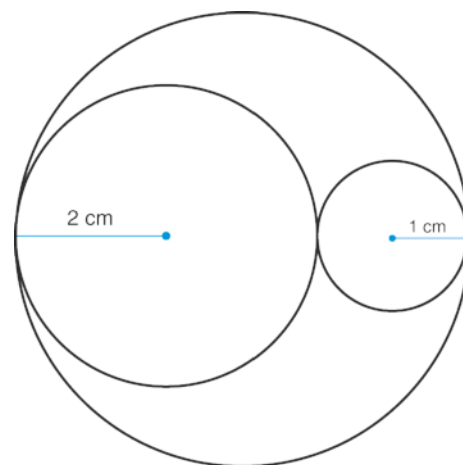


Apenas com dois lados paralelos	Sem lados paralelos	Com todos os lados paralelos dois a dois	Com, pelo menos, dois lados perpendiculares

2 Com o seu compasso, o Xavier traçou umas circunferências como as representadas ao lado.

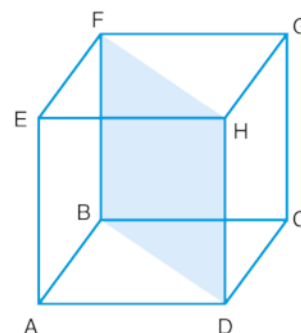
Diz qual é a medida:

- do diâmetro da circunferência menor.
- do diâmetro da circunferência média.
- do diâmetro da circunferência maior.



3 A Luana construiu um cubo como o da imagem ao lado.

- Se o cubo for cortado pelos vértices FH até aos vértices BD, que poliedros obténs?
- Descreve um desses poliedros, quanto ao número e à forma das suas faces.
- Classifica o ângulo EAD.
- Classifica o ângulo FHE.



4 Representa em papel quadriculado um retângulo que tenha de perímetro 16 cm e de área 12 cm².