

- Observar e completar.

O João tem 8



e 5



8 + ____ = ____

Tem ____



balões.

Havia 16



O



comeu 4.


____ = ____

Agora há ____



.

São 12



e 3



____ = ____

São ____



.

A Ana comeu 7



e 8




____ = ____

Comeu ____




amêndoas.

No



havia 4



e 10



____ = ____

No lago havia ____



patos.

O menino tem 10



, 2



e 3



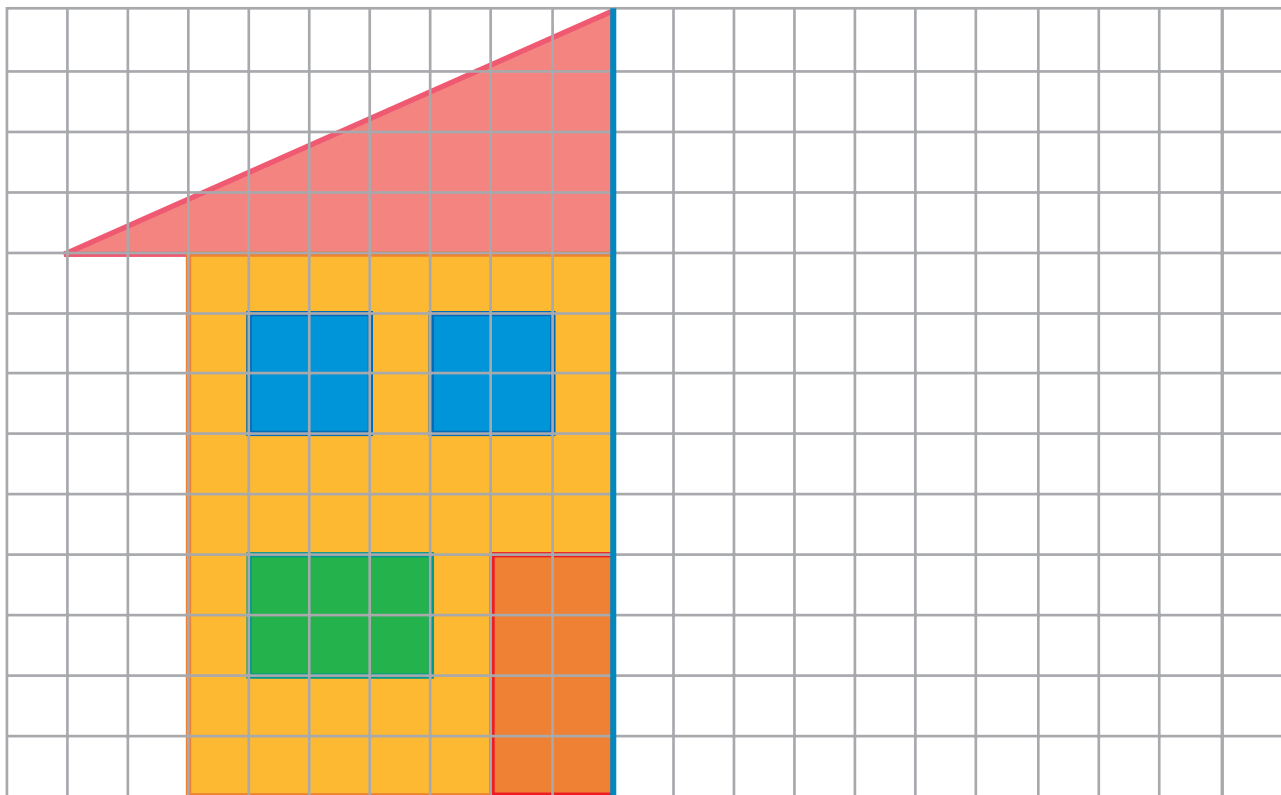
____ = ____

Tem ____



berlindes.

- Desenhar o que falta para que a figura fique simétrica em relação à linha azul.




- Completar as tabelas (ver exemplos).

+	1	5	9	8	10
5			14		
3					
4					
6					

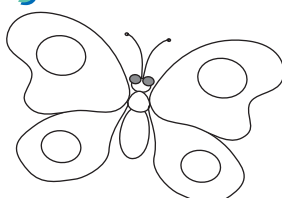
-	5	6	4	1	10
13			9		
14					
15					
16					

- Dialogar com os companheiros e com a professora sobre o trabalho realizado. Pintar a borboleta que corresponde à sua auto-avaliação.


Auto-Avaliação



trabalhei muito bem



trabalhei bem



trabalhei pouco